



المستوى: الثانية متوسط فرض الثلاثي الاول في مادة الاعلام الالي

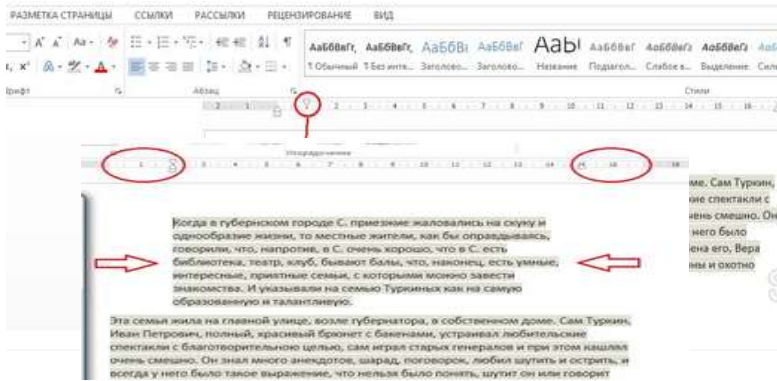
الموضوع 2

التمرين 1: 10ن

1. ماهي العملية التي طبقت على هذه الفقرات؟

2. كيف يتم فتحها؟

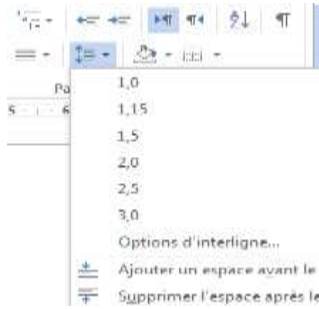
3. اذكر الخطوات اللازمة لذلك



التمرين 2: 5ن

- ماذا تمثل هذه الصورة؟


- كيف يمكن التحكم فيها؟



التمرين 3: 5ن

ضع كل عملية في مكانها الصحيح

- لتغيير لون الخط
- المحاذاة على اليمين
- لتغيير نمط الخط
- للتسطير تحت الخط
- حجم الخط



بالتوفيق....

