

الاسم:

اللقب:

القسم: 2م الفوج:

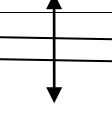
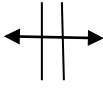



متوسطة طارق بن زياد

28 جانفي 2021

## فرض الثلاثي الأول لمادة المعلوماتية

### التمرين الأول:

أكمل الجدول التالي:

					شكل مؤشر الفأرة
					دوره

التمرين الثاني: لون الإجابة الصحيحة فيما يلي:

			أنا جدول أتكون من ثلاثة أسطر و عمودين
			أنا أمر أقوم بتلوين خلايا الجدول
			أقوم بحذف جدول بأكمله
			أمر أقوم بإدراج الأشكال في معالج النصوص
			أقوم بإضافة سطر إلى الأعلى

الوضعية الإدماجية:

تبدأ يوم الأحد 28 فيفري اختبارات الفصل الأول و أردت كتابة البرنامج اليومي للاختبار كما هو موضح بالوثيقة.

برنامج اختبار الثلاثي الأول		
الأحد	عربية	علوم
الاثنين	فرنسية	اجتماعيات
الثلاثاء	رياضيات	
الأربعاء	فيزياء	ت إسلامية
الخميس	انجليزية	ت مدنية

أذكر مراحل إدراج الجدول:

نختار علامة التبويب.....

ننقر الأمر.....

نختار التعليم.....

تظهر علبة حوار نحدد من خلالها:

عدد..... و عدد.....

بما اسم العملية التي قمنا بها لجعل خليتي مادة

الرياضيات خلية واحدة؟

لاحظت أنك تضطر إلى تغيير حجم الخط في كل

خلية, كيف تقوم بذلك في كل خلايا الجدول؟

أربط بسهم:

المصطلح	ترجمته
إدراج	Nombres Lignes
تصميم	Supprimer Les Lignes
حذف عمود	Disposition
عدد الأسطر	Insertion
تخطيط	Création
أدرج عود إلى اليسار	Insérer colonne à gauche

ملاحظة:

ممنوع استخدام القلم الأحمر و المساح.

بالتوفيق للجميع