



ديسمبر 2013

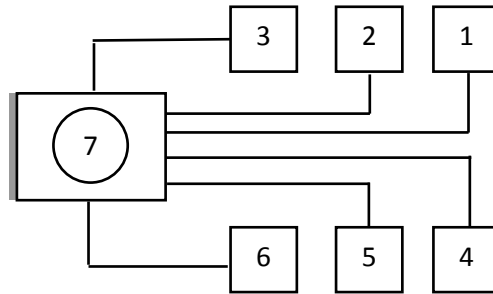
المستوى: الثاني متوسط (2AM)

المدة: 1 ساعة 00

إختبار الفصل الأول في مادة الإعلام الآلي

التمرين الأول:

كنت في مقهى الانترنت جالس في الحاسوب رقم 1 وأردت أن تبعث إلى زميلك الجالس في الحاسوب رقم 6 موضوع حول المكونات الداخلية للكمبيوتر كان مسجلا في القرص المضغوط « D » وذلك لقراءته وتصحيحه.



1. ما نوع الطوبولوجيا المستعملة؟

.....

2. ما اسم الحاسوب رقم 1؟

.....

3. ما اسم الحاسوب رقم 6؟

.....

4. ما اسم الحاسوب رقم 7؟

.....

5. ما نوع الشبكة المستعملة في هذا الشكل؟

.....

6. كيف يمكن للحاسوب رقم 1 بعث هذا الموضوع للحاسوب رقم 6، أذكر كل المراحل.

.....(1)

.....(2)

.....(3)

.....(4)

الصفحة 2/1

التمرين الثاني: اربط بسهم:

- كيفية ربط الحواسيب لتكوين شبكة عالمية.
كيفية ربط الحواسيب لتكوين شبكة محلية.
كيفية ربط الحواسيب لتكوين شبكة.

الطوبولوجيا

التمرين الثالث: أكمل ما يلي:

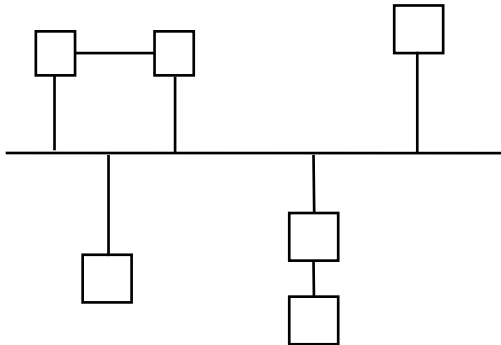
الهدف من استعمال الشبكة هو:

1.
2. المشاركة في الموارد (الملحقات والبرامج).
3.
4.

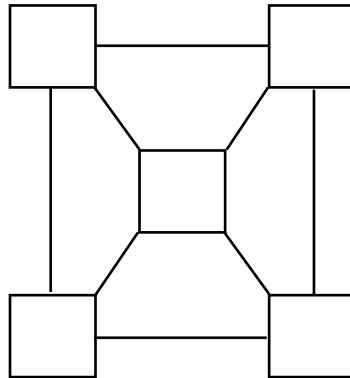
التمرين الرابع: ضع صحيح أو خطأ في المربع:

- INTERNET هي: Internationale network
 Internationale net
 Internationale Arpanet

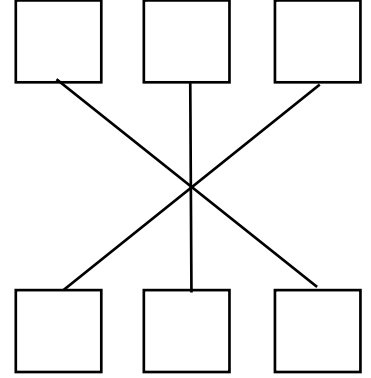
التمرين الخامس: صحح الرسومات التالية:



طوبولوجيا الحلقة



طوبولوجيا الحلقة



طوبولوجيا النجمة



ديسمبر 2013

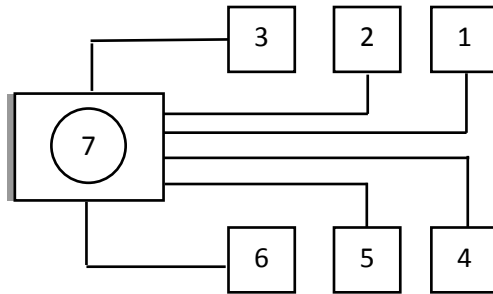
المستوى: الثاني متوسط (2AM)

المدة: 1 ساعة 00

تصليح اختبار الفصل الأول فاج مادة الإعلام الآلي

التمرين الأول:

كنت في مقهى الانترنت جالس في الحاسوب رقم 1 وأردت أن تبعث إلى زميلك الجالس في الحاسوب رقم 6 موضوع حول المكونات الداخلية للكمبيوتر كان مسجلا في القرص المضغوط « D » وذلك لقراءته وتصحيحه.



1. ما نوع الطوبولوجيا المستعملة؟
الطوبولوجيا النجمة .
2. ما اسم الحاسوب رقم 1؟
الزبون client
3. ما اسم الحاسوب رقم 6؟
الزبون client
4. ما اسم الحاسوب رقم 7؟
الملقم serveur
5. ما نوع الشبكة المستعملة في هذا الشكل؟
الشبكة العالمية.
6. كيف يمكن للحاسوب رقم 1 بعث هذا الموضوع للحاسوب رقم 6، أذكر كل المراحل.
(1) نضغط مرتين على أيقونة جوار الشبكة favoris réseau
(2) نضغط على الحاسوب رقم 6
(3) نضغط بالزر اليمين على D

4) نضغط على مشاركة كاملة

التمرين الثاني: اربط بسهم:

الطوبولوجيا
كيفية ربط الحواسيب لتكوين شبكة عالمية.
كيفية ربط الحواسيب لتكوين شبكة محلية.
كيفية ربط الحواسيب لتكوين شبكة.

التمرين الثالث: أكمل ما يلي:

الهدف من استعمال الشبكة هو:

1. المشاركة في الملحقات
2. المشاركة في الموارد (الملحقات والبرامج).
3. الاتصال بين المستخدمين
4. التسلية تالجماعية

التمرين الرابع: ضع صحيح أو خطأ في المربع:

INTERNET هي : international network

ص

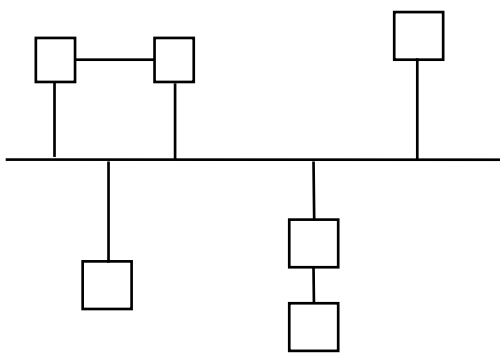
خ

Internationale net

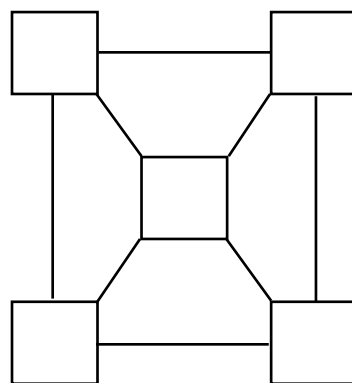
خ

Internationale Arpanet

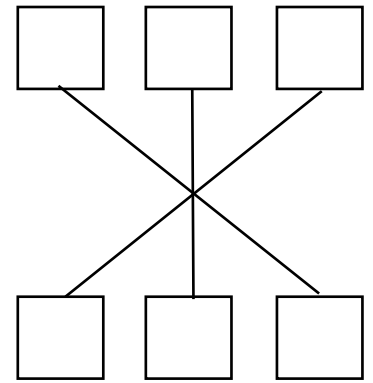
التمرين الخامس: صحح الرسومات التالية:



طوبولوجيا الحلقة



طوبولوجيا الحلقة



طوبولوجيا النجمة

