

الاسم :

اللقب :

القسم :

التمرين الأول : ضع العلامة (*) في الخانة المناسبة :

2. يتكون المصنف من :

* ورقة عمل

* ورقتين عمل

* ثلاث ورق عمل

• ما يكتب داخل الخلية

• هي ورقة العمل

• هي المصنف

3. يسمح لنا الجدول بـ :

• كتابة النصوص فقط

• القيام بمختلف الحسابات

• رسم جداول بطريقة سهلة

4. تتكون نافذة الجدول من :

* شريط العنوان فقط

* شريط الصيغة

* شريط الأدوات و القوائم

التمرين الثاني : أجب بصحيح أو خطأ و صحح الخطأ إن وجدته .

1. تسمى برمجية الجدول EXCEL بالـ Internet Explorer .

1

2. الجدول عبارة عن لغة برمجة تحفظ داخل القرص المضغوط .

2

3. عند النقر على Tous Les Programmes هي أول مرحلة لتشغيل الجدول

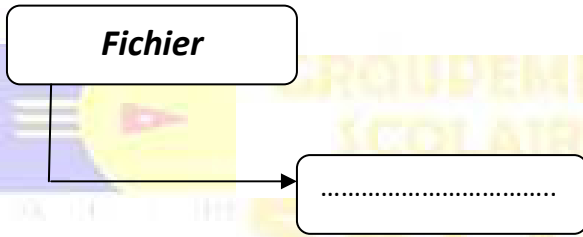
3

4. يستعمل الجدول لكتابة نصوص و فقرات عديدة .

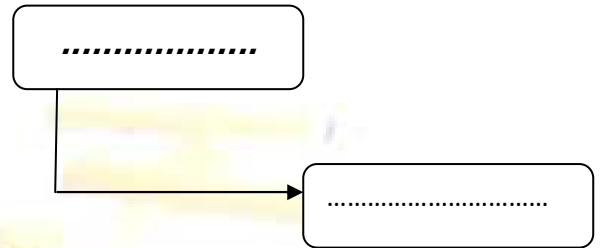
4

التمرين الثالث: أكمل المخطط التالي:

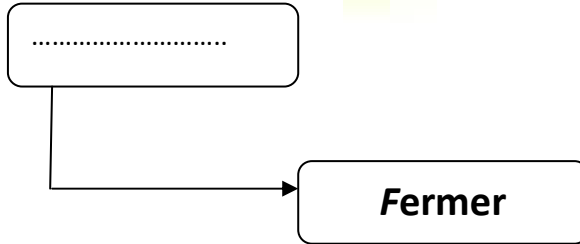
عند حفظ مصنف يجب :



عند إضافة سطر :



عندمصنف :



التمرين الرابع: قم برسم نافذة الجدول مع رسم جميع البيانات اللازمة .

التمرين الأول : ضع العلامة (*) في الخانة المناسبة : يمكن للإجابة أن تحوي أكثر من اقتراح

1. شريط الصيغة هو :

• ما يكتب داخل الخلية

• هي ورقة العمل

• هي المصنف

2. يتكون المصنف من :

* ورقة عمل

* ورقتين عمل

* ثلاث ورق عمل

3. يسمح لنا الجدول بـ :

• كتابة النصوص فقط

• القيام بمختلف الحسابات

• رسم جداول بطريقة سهلة

4. تتكون نافذة الجدول من :

* شريط العنوان فقط

* شريط الصيغة

* شريط الأدوات و القوائم

التمرين الثاني : أجب بصحيح أو خطأ و صحح الخطأ إن وجدته .

1. تسمى برمجية الجدول EXCEL بالـ Internet Explorer .

1- خطأ M. Office

2. الجدول عبارة عن لغة برمجية تحفظ داخل القرص المضغوط .

2- خطأ برنامج programme

3. عند النقر على Tous Les Programmes هي أول مرحلة لتشغيل الجدول

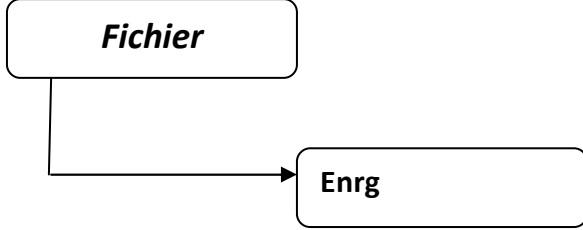
3 - خطأ ننقر على démarrer

4. يستعمل الجدول لكتابة نصوص وفقرات عديدة .

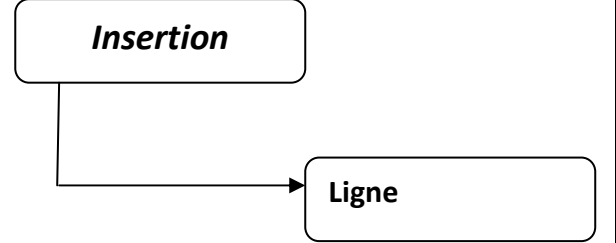
4- خطأ يستعمل للحسابات ورسم الجداول.

التمرين الثالث: أكمل المخطط التالي:

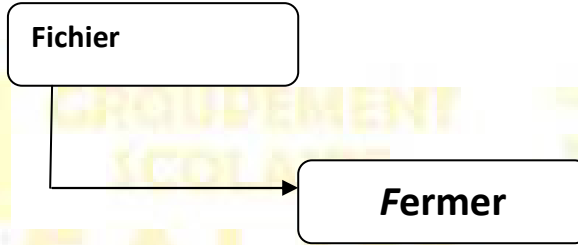
عند حفظ مصنف يجب :



عند إضافة سطر :



عند **غلق** مصنف :



التمرين الرابع: قم برسم نافذة المجدول مع رسم جميع البيانات اللازمة .