



















العلامة: 20/

القسم: 2م

اللقب والاسم:

التمرين الاول (06نقاط): ضع الإجابة الصحيحة في دائرة

			إدراج الأشكال نختار
			لإضافة عمود إلى اليسار نختار
			لإضافة سطر إلى الأعلى نختار
			تلوين الخلايا أو تظليلها نختار
			لتقسيم خلية واحدة نختار
			لدمج خليتين أو أكثر نختار

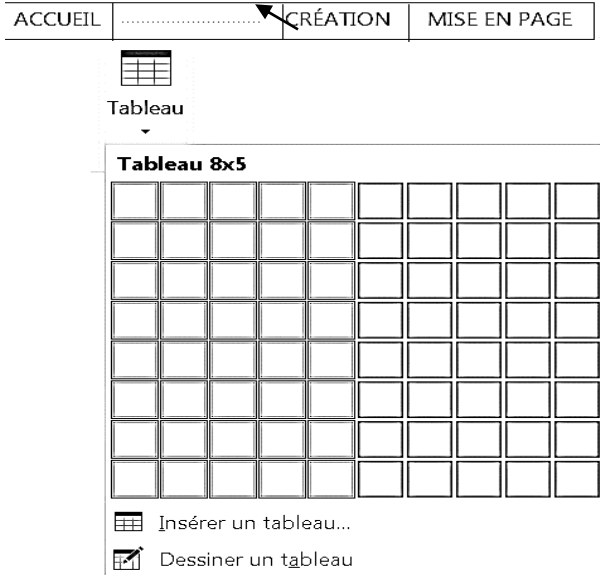
التمرين الثاني (06نقاط): أجب بصحيح أو خطأ مع تصحيح الخطأ إن وجد

مواقيت الصلاة لولاية الجلفة					
العشاء	المغرب	العصر	الظهر	الصبح	الصلاة
19 :00	17 :45	15 :31	12 :31	5:55	الوقت

يتكون الجدول من 3 أعمدة و6 أسطر
تلوين السطر الأول نسبيه تظليل
قسمنا السطر الأول وكتبنا مواقيت الصلاة لولاية الجلفة
زدنا ارتفاع العمود الأول
تقاطع السطر الثاني مع العمود الثالث يعطينا الخلية "5:55"
خلية "العشاء" هي تقاطع السطر الثاني مع العمود السادس

الوضعية الإدماجية (8نقاط):

اراد محمد ادراج جدول يتكون من 15 سطرا و7 اعمدة في مستند معالج النصوص Word فاتبع المراحل كما بالوثيقة المقابلة:



1. اكتب اسم القائمة المناسب في الفراغ على شريط القوائم

2. استعمل طريقة الشبكة فلاحظ انه لا يمكنه ادراج أكثر

من 08 أسطر ساعده ليتمكن من انشاء جدول.

المراحل:

.....
.....

3. بعد رسم الجدول أراد تغيير حدوده فلم يظهر له التبويبان

في الشريط العلوي ، فما الذي يجب عليه لكي يظهرها

.....

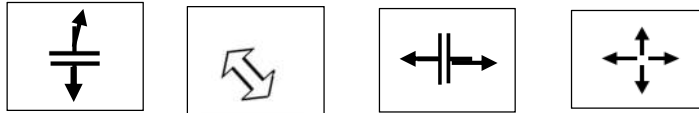
** شطب عليهما في شريط التبويبات الآتي:



4. أذكر مراحل تغيير الحدود؟

- ●
- ●
- ●
- ●

5. لتغيير عرض عمود نضع مشيرة الفارة على الحد العمودي الذي يفصل بينه وبين العمود الموالي فتتحول المشيرة إلى:



شطب على الرموز الخاطئة.