

فرض تقويمي للثلاثي الأول في مادة التاريخ و الجغرافيا

التاريخ : (12 نقطة)**الجزء الأول :**

الوثيقة التاريخية أداة لبناء المعرفة و تفسير الأحداث التاريخية .

1/ عرّف :

الوثيقة التاريخية :

خطوات دراسة الوثيقة التاريخية

2/ تتبع خطوات دراستها : (دون شرح)

1

2



--	--

3/ صنف الوثائق التالية حسب طبيعتها : شهادات حية - مقال صحفي - قوانين - معاهدة - لوائح الوتمرات - مرسوم رئاسي .

مرجع رسمي	مرجع غير رسمي

الجزء الثاني :**الوضعية الإدماجية**

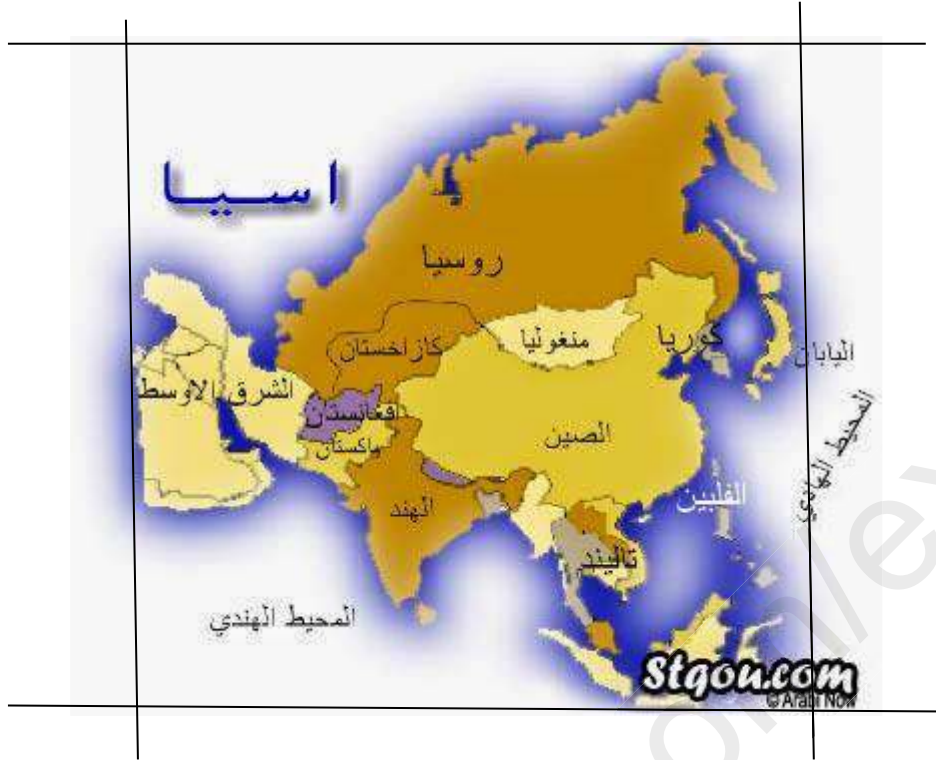
السياق : أثناء تصفحك مع أخيك لكتابك في مادة التاريخ لفت انتباهه خريطة تاريخية تبين طريق الهجرة النبوية إلى المدينة فذكرت له أن هذه الهجرة كانت منعرجا حاسما في تاريخ الاسلام و المسلمين , مما دفعه بسؤالك عن أسباب هجرة الرسول (صلى الله عليه و سلم) أو أهم نتائجها .

السندات :

التعليمية : على ضوء ما درست و السندات المقدمة , أكتب فقرة من 08 أسطر تجيب فيها عن تساؤل أخيك.

<p>.....</p> <p>.....</p> <p>.....</p> <p>.....</p> <p>.....</p> <p>.....</p> <p>.....</p> <p>.....</p> <p>.....</p> <p>.....</p>

الجغرافيا :
تحتوي قارة آسيا على مجموعة من التناقضات في طبيعتها التضاريسية و المناخية .
1/ عيّن على الخريطة التالية الموقع الفلكي لقارة آسيا :



2/ إملأ الجدول الموالي بذكر مثال عن كل نوع من التضاريس :

البحيرات	البحار	الانهار	الصحاري	السهول	الهضاب	الجبال

3/ استخلص من الصور التالية أربع تباينات (2 مناخية و 2 تضاريسية)



تنوع مناخي :

-

-

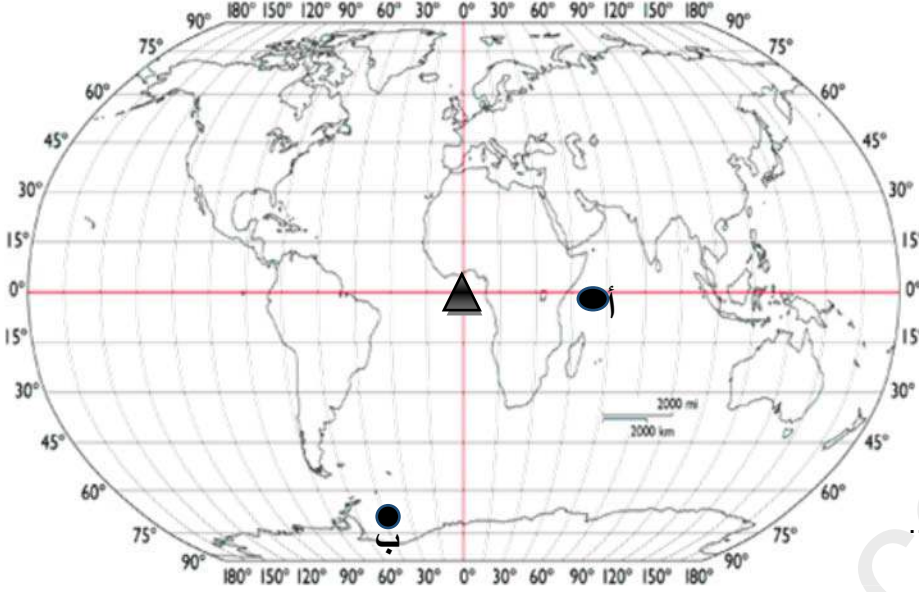


تنوع تضاريسي :

-

-

يناسبه



السؤال الثاني (3ن)

إليك الشكل التالي: المثلث يمثل الساعة 09 صباحا في غرينتش
كم تكون الساعة في المدينة أ و ب

أظهر خط غرينتش على الخريطة بلون أزرق
وخط الاستواء بلون أخضر