

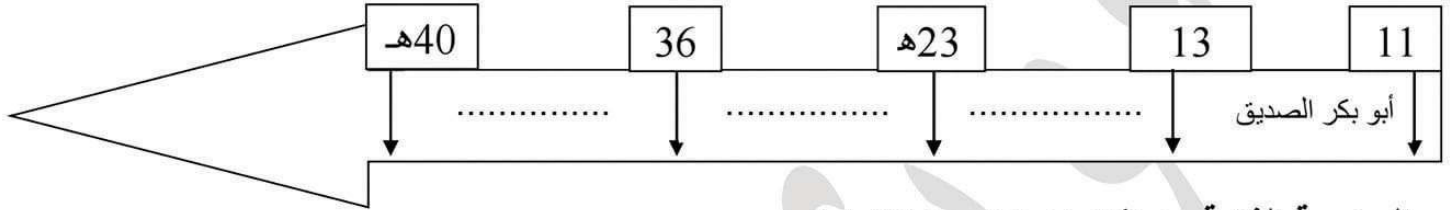


فرض الفصل الأول في التاريخ و الجغرافيا (النموذج : 04)

مادة تاريخ : (10 نقاط)

الوضعية الأولى : (04 ن)

أكمل السلم الزمني التالي بعد نقله على ورقة الاجابة :



الوضعية الثانية : املأ الفراغ التالي : (02 ن)

أ / تتمثل الموارد المالية للمسلمين في

ب / اعتمد في اختيار الخليفة على مبدأ الشورى في العهد

الوضعية الثالثة : (04 ن)

أذكر خطوات دراسة وثيقة تاريخية ؟

مادة الجغرافيا : (10 نقاط)

الوضعية الأولى : أكمل الجدول بما يناسبه : (04 ن)

الأنهار	الهضاب	السهول	الجبال
- 1	- 1	- 1	- 1
- 2	- 2	- 2	- 2

الوضعية الثانية : أربط بسهم بين نوع المناخ ومجاله الجغرافي : (04 ن)

المناخ الموسمي يسود الهند والصين والبيان

المناخ القطبي يسود وسط القارة

المناخ الصحراوي يسود منطقة شبه الجزيرة العربية

المناخ القاري يسود الجهة الشمالية للقارة

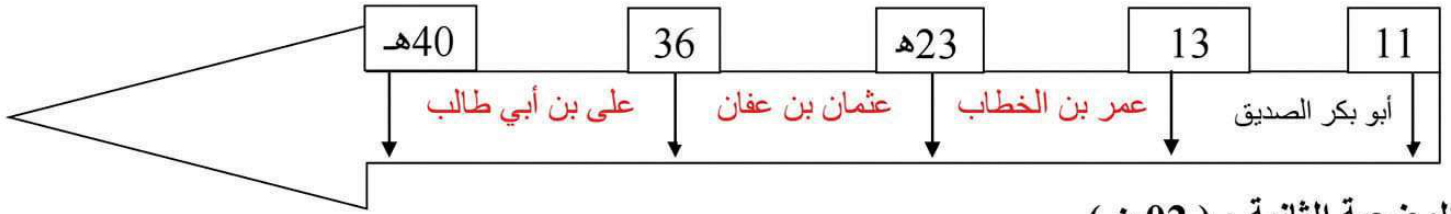
الوضعية الثالثة : (02 ن)

- أبرز نتائج التنوع المناخي في قارة آسيا

تصحيح التاريخ النموذج رقم : 04

مادة تاريخ : (10 نقاط)

الوضعية الأولى : أكمل السلم الزمني التالي بعد نقله على ورقة الاجابة : (04 ن)



الوضعية الثانية : (02 ن)

تتمثل الموارد المالية للمسلمين في : الخراج - الزكاة - الجزية - الغنيمة - الفداء

ب / اعتمد في اختيار الخليفة على مبدأ الشورى في عهد : الخلفاء الراشدين وكان أول شخص تم إختياره هو أبو بكر الصديق

الوضعية الثالثة : (04 ن)

أ (تقديم الوثيقة التاريخية : طبيعتها - مصدرها - الإطار المكاني والزمني للوثيقة - التعريف بصاحب النص

ب (تحليل الوثيقة الفكرة الرئيسية للنص - الأفكار الجزئية

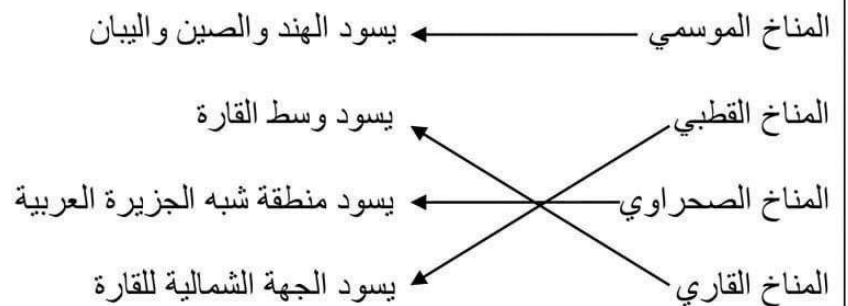
ج (الخاتمة

تصحيح الجغرافيا النموذج رقم : 04

الوضعية الأولى : أكمل الجدول بما يناسبه (04 ن)

الأنهار	الهضاب	السهول	الجبال
1 - اليانغتسي	1 - التبت	1 - سيبيريا	1 - الهيمالايا
2 - الهوانغ هو	2 - الأناضول	2 - الغانج	2 - طوروس

الوضعية الثانية : أربط بسهم بين نوع المناخ ومجاله الجغرافي (04 ن)



الوضعية الثالثة : نتائج التنوع المناخي في قارة آسيا (02 ن)

- كثرة المحاصيل الزراعية وتنوعها

- تركيز السكان في منطقة دون أخرى

- وجود تفاوت في التنمية بين مختلف المناطق