

إختبار الفصل الأول في التاريخ و الجغرافيا

الجزء الأول : تاريخ (10 نقاط)

" بسم الله الرحمن الرحيم، هذا كتاب محمد النبي صلى الله عليه وسلم، بين المؤمنين والمسلمين من قريش ويثرب، ومن تبعهم، فلحق بهم، وجاهد معهم، انهم أمة واحدة من دون الناس..." (ابن هشام، السيرة، ج 1 ص 31)

السؤال الأول : (02 ن)

أ / أبرز دوافع هجرة الرسول "ص" الى يثرب

ب / ماهي أهم الاجراءات التي اتخذها الرسول "ص" لبناء مجتمع اسلامي جديد (أذكر أربعة فقط بدون شرح)

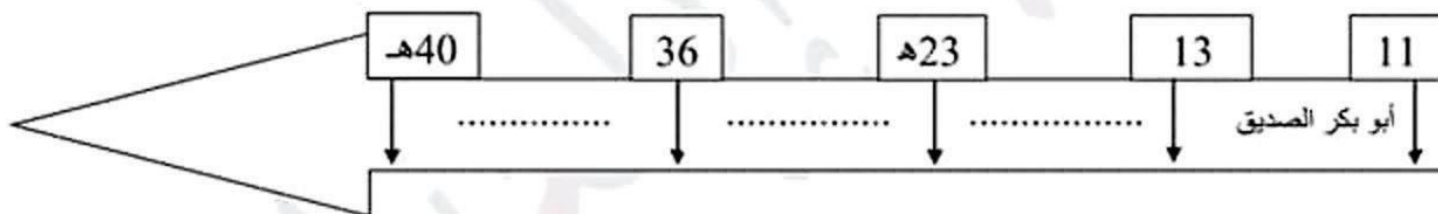
السؤال الثاني : (02 ن)

أربط بسهم مما يلي : أنسب أبرز الأعمال التالية حسب الجدول : تعريب الدواوين - استحداث منصب الوزير - جمع القرآن الكريم - القضاء على الثورات الداخلية - سك النقد الاسلامي - محاربة المرتدين

عهد الخلفاء الراشدين	عهد الأمويين	عهد العباسيين

السؤال الثالث : (02 ن)

أكمل السلم الزمني التالي بعد نقله على ورقة الاجابة :

**الوضعية الإدماجية : (04 نقاط)**

قرأ أخوك في احدى الكتب العبارة التالية : " عندما بلغ محمدا سن الأربعين نزل عليه الوحي، فكان ذلك ايذانا بظهور الدين الجديد على مجموعة من المبادئ " فقصدك لتشرح له المقصود بالمبادئ التي جاء بها هذا الدين وأوضاع شبه الجزيرة العربية قبل وبعد ظهور الاسلام

السند 01 : " كانت أيام العرب مناوشات، وكان حب القتال فيه دائما ومتأصلا لذلك أصبح الثار بارزا في حياة البدو "

تاريخ العرب ص 119 - يتصرف -

السند 02 : قام الدين الجديد على مجموعة من المبادئ، منها الدينية التي تتمحور حول فكرة التوحيد، واجتماعية مثل المساواة والتكافل ... " تاريخ الاسلام ج 01 ص 158

السند 03 : جمع الاسلام قبائل العرب تحت لوائه، وألف بين قلوبهم، وقضى على العصبية القبلية "

التعليمة : اعتمادا على السندات وعلى ما درست أجب عن طلب أخيك في فقرة من 10 أسطر

الجزء الثاني : جغرافيا (10 نقاط) (النموذج 07)

" تعرف قارة اسيا بأنها قارة التنوع والتباين المناخي والتضارسي "

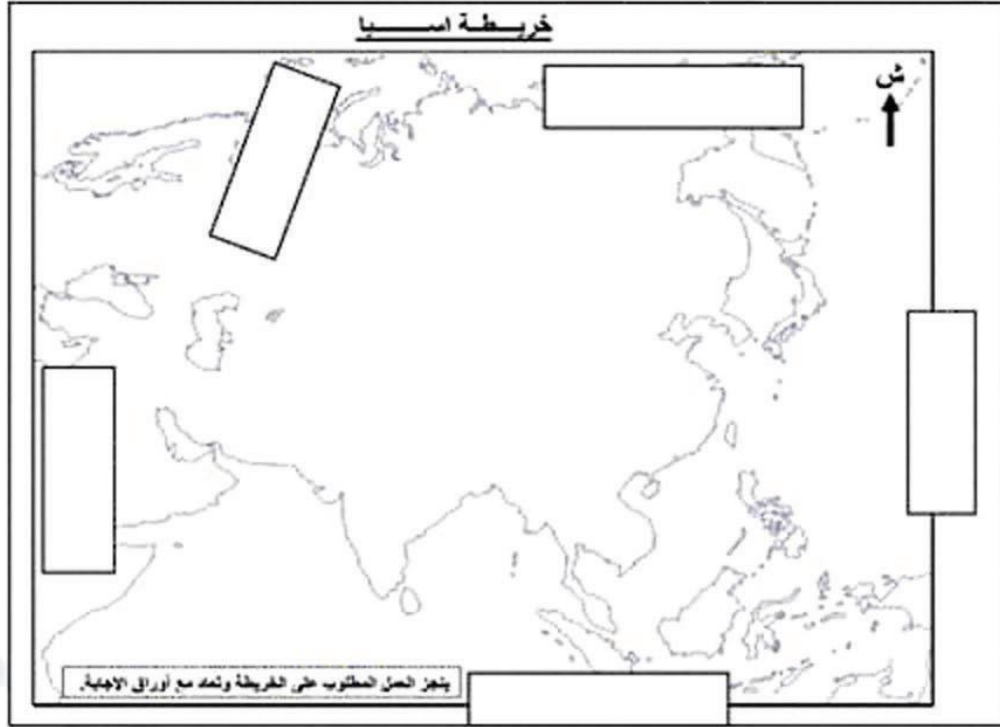
السؤال الأول : (04 ن)

أ / أذكر أسباب هذا التباين والتنوع

ب / صنف أسماء المظاهر التضارسية التالية حسب الجدول : الغانج - افرست - يانغ تسي - التبت - بلاد الرافدين - الدكن - طوروس - الربع الخالي - السند

الصحاري	الجبال	الأنهار	السهول	الهضاب

السؤال الثاني : (02 ن) وقع على الخريطة الصماء التالية الموقع الجغرافي لآسيا:



الوضعية الإدماجية : (04 نقاط)

اختلف زملائك حول طبيعة المناخ الموسمي بقارة اسيا واثاره المختلفة، فاحتكما اليك

السند 01 : " تختلف وتنوع الحياة النباتية في اقليم المناخ الموسمي من منطقة الى أخرى كما يتميز بتنوع و ثراء حيواني "

السند 02 : " المناخ الموسمي يمثل ظاهرة طبيعية تنسب في حدوث أعاصير وفيضانات خطيرة "

الكتاب المدرسي

التعليمة : اعتمادا على السندين وعلى مادرت أكتب فقرة من 10 أسطر تتطرق فيها الى أثر المناخ الموسمي في مجاله الجغرافي

تصحيح النموذج : 07 (تاريخ)

السؤال الاول : (02 ن)

أ / دوافع هجرة الرسول "ص" الى يثرب :

- الأذى الذي لحق محمد "ص" وأتباعه

- جعل أهل الطائف سفهاء هم عرضة للرسول وأتباعه

ب / الاجراءات التي اتخذها الرسول "ص" لبناء مجتمع اسلامي جديد : بناء مسجد - المؤاخاة بين المهاجرين والانصار -

انشاء دستور المدينة - اقرار مبدأ الشورى

السؤال الثاني : أربط بسهم مما يلي : أنسب أبرز الأعمال التالية حسب الجدول : تعريب الدواوين - استحداث منصب الوزير -

جمع القران الكريم - القضاء على الثورات الداخلية - سك النقد الاسلامي - محاربة المرتدين

عهد الخلفاء الراشدين	عهد الأمويين	عهد الخلفاء العباسيين
جمع القران الكريم - محاربة المرتدين	تعريب الدواوين - سك النقد الاسلامي	استحداث منصب الوزير - القضاء على الثورات الداخلية

السؤال الثالث : (02 ن)

أكمل السلم الزمني التالي بعد نقله على ورقة الاجابة :



الوضعية الإدماجية : (04 نقاط)

لم يكن للعرب قبل الاسلام دولة تجمعهم، بل كان المجتمع يتكون من القبائل، فكيف كانت المجتمع العربي قبل الاسلام وبعده

كانت أيام العرب مناوشات، وكان حب القتال فيه دائما ومتاصلا لذلك أصبح الثأر بارزا في حياة البدو، إذ كانت الحروب مستمرة

فيما بينهم لأتفه الأسباب كالتسابق على موارد الماء وأماكن الرعي، اضافة الى عبادة الاوثان والاصنام، الى أن جاءت رسالة

الاسلام لتخرج المجتمع من الجاهلية الى النور حيث قام الدين الجديد على مجموعة من المبادئ، منها الدينية التي تتمحور حول

فكرة التوحيد، واجتماعية مثل المساواة والتكافل ... فجمع الاسلام قبائل العرب تحت لوائه، وألف بين قلوبهم، وقضى على

العصبية القبلية

كانت نقطة التحول الكبيرة في تاريخ الجزيرة العربية يوم ظهر الاسلام فيها

تصحيح النموذج : 07 (جغرافيا)

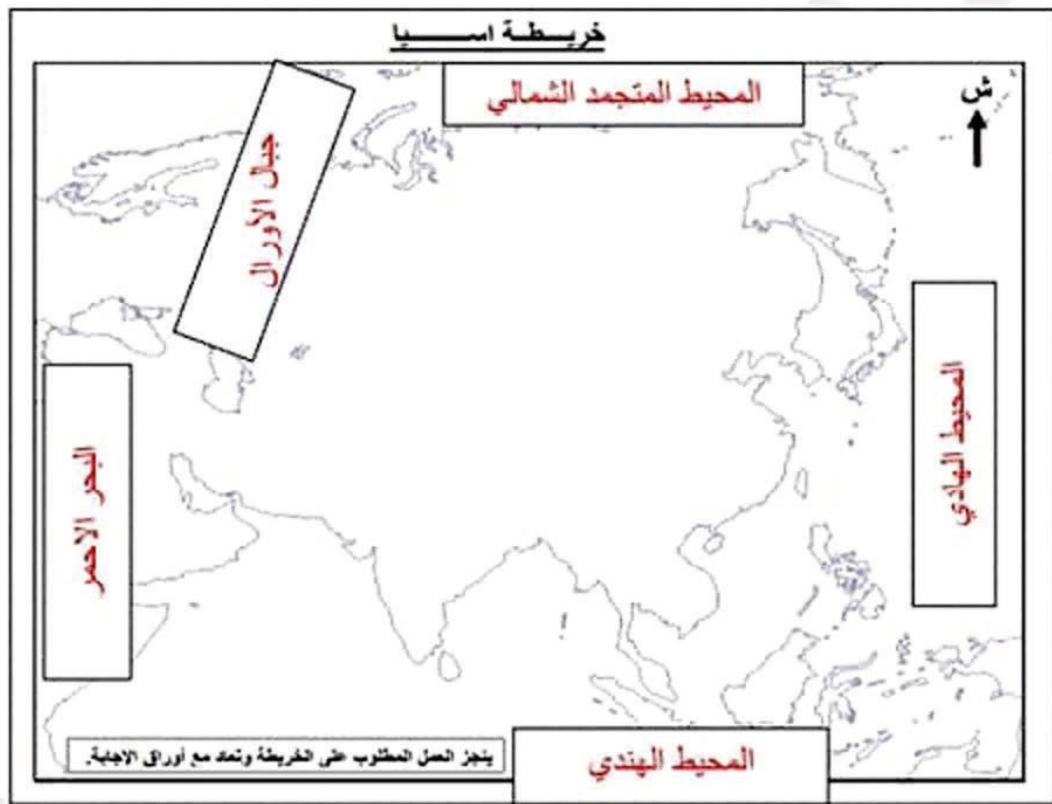
السؤال الاول : (04 ن)

ا / أسباب هذا التباين والتنوع: امتدادها العروضي من الشمال الى الجنوب – وجود مسطحات مائية

ب / تصنيف أسماء المظاهر التضارسية التالية حسب الجدول : الغانج – افرست – يانغ تسي – التبت – بلاد الرافدين – الدكن – طوروس – الربع الخالي - السند

الصحاري	الجبال	الانهار	السهول	الهضاب
الربع الخالي	طوروس - افرست	الغانج – يانغ تسي	السند – بلاد الرافدين	التبت - الدكن

السؤال الثاني : التوقيع على خريطة صماء الموقع الجغرافي لاسيا (02 ن)



الوضعية الإدماجية (04 ن)

تتنوع الاقاليم المناخية في قارة اسيا، متأثرة بالتباينات الكبيرة في مظاهر سطحها وامتدادها الكبير، ويعتبر المناخ الموسمي أهم المناخات المميزة للقارة

يسود المناخ الموسمي جنوب شرقي القارة وسمي بذلك لسقوط الامطار والتي تتميز بالارتفاع في كميات التساقط في فصل الصيف، مما نتج عنه اختلاف وتنوع الحياة النباتية من منطقة الى أخرى وتنوع وثراء حيواني، ووجود غابات كثيفة دائمة الخضرة اضافة الى ممارسة النشاط الزراعي من طرف ثلث السكان خاصة الأرز الذي يناسب هذا النوع من المناخ أما من اثاره السلبية فيعتبر المناخ الموسمي ظاهرة طبيعية تتسبب في حدوث أعاصير وفيضانات خطيرة طبيعة التساقط في المناخ الموسمي خلفت اثارا سلبية وإيجابية على الحياة في جنوب شرق اسيا