



الجمهورية الجزائرية الديمقراطية الشعبية
وزارة التربية الوطنية
مؤسسة التربية و التعليم الخاصة **سليم**

ETABLISSEMENT PRIVE D'EDUCATION ET D'ENSEIGNEMENT **SALIM**

www.ets-salim.com 021 87 10 51 021 87 16 89 Hai Galloul - bordj el-bahri alger

رخصة فتح رقم 1088 بتاريخ 30 جانفي 2011

ثانوي - ابتدائي - متوسط - ثانوي

إعتماد رقم 67 بتاريخ 06 سبتمبر 2010

مارس 2014

المستوى: الثالث متوسط (3AM)

اختبار الفصل الثاني في مادة علوم الطبيعة و الحياة | المدة : ساعة و نصف

التمرين الأول:

اربط كل عنصر من المجموعة أ بما يناسبه من المجموعة ب- للحصول على مفاهيم صحيحة

- | | |
|--------------------------------|----------------------|
| -ب- | +ـ |
| أ-طيات وفوالق | 1-عوامل مناخية |
| ب- شمال جزيرة صقلية | 2- بركان فيزوف |
| ج- غابات سهوب | 3- غطاء نباتي |
| د- مدينة نابولي | 4- ترسب |
| هـ- توضع متواصل للمواد | 5- بركان إيتنا |
| و- تغير درجة الحرارة مياه رياح | 6- نشوه طبقات الصخور |

التمرين الثاني:

- 1/- اذكر ثلاثة سلوكات وقائية تقوم بها أثناء حدوث الزلازل
- 2/- اذكر ثلاثة اجراءات تنبؤية لحدوث ثوران بركان

التمرين الثالث:

- يتشكل المنظر الطبيعي من عدة عناصر
- 1/- اذكر العناصر المشكلة للمنظر الطبيعي

الصفحة 2/1


حي قعلول - برج البحري - الجزائر

2/- اعطي مثالين تبين فيهما تدخل الانسان في تشكيل منظر طبيعي

3/- حدد العوامل المتدخلة في تشكيل وتغير المنظر الطبيعي

الوضعية الإدماجية:

توجد على سطح الارض أنواع مختلفة من المناظر الطبيعية فمثلا عند مشاهدة حد شاطئ أو ضفاف نهر أو واد نلاحظ وجود طبقات صخرية ذات مظاهر مختلفة




1/- ضع عنوانا مناسباً للوثيقة

2/- أكتب البيانات من 1 إلى 5 ثم اعد رسم الوثيقة


3/- ماذا تمثل المراحل (أ)، (ب)، (ج).

4/- اكتب في نص علمي كيف تتشكل الصخور الرسوبية التي تظهر عند مشاهدة شواطئ البحر أو المناطق الصحراوية



الصفحة 2/2

حي قعلول - برج البحري - الجزائر



الجمهورية الجزائرية الديمقراطية الشعبية

وزارة التربية الوطنية

مؤسسة التربية و التعليم الخاصة **سليم**

ETABLISSEMENT PRIVE D'EDUCATION ET D'ENSEIGNEMENT SALIM



www.ets-salim.com



021 87 10 51



021 87 16 89



Hai Galloul - bordj el-bahri alger

رخصة فتح رقم 1088 بتاريخ 30 جانفي 2011

تحضيري - ابتدائي - متوسط - ثانوي

إعتماد رقم 67 بتاريخ 06 سبتمبر 2010

المستوى: الثالث متوسط (3AM) مارس 2014

تصحيح اختبار الفصل الثاني في مادة علوم الطبيعية و الحياة

التمرين الأول: (03 ن) □

الربط:

1 ←

3 هـ

ج ←

2 ←

4 د

هـ ←

6 ←

5 أ

ب ←

التمرين الثاني (03 ن)

- 1- عدم مغادرة المنازل عند حدوث الهزة
- عدم الوقوف تحت الاسلاك الكهربائية
- التوجه نحو الجدران الأساسية او اطار الباب
- 2- حدوث زلازل قبل ثوران البركان
- قياس قطر البركان
- خروج الغازات

المفحة 2/1

حي قعلول - برج البحري - الجزائر

التمرين الثالث: (06ن)

1- /التضاريس ,الصخور , الغطاء النباتي , الموارد المائية, الحيوانات
نشاط الانسان

2- /الفلاحة , بناء المدن والقرى

3- /عوامل دخلية :

-البراكين

-قوى الانضغاط

-عوامل خارجية :

-عوامل مناخية

-نشاط الانسان

الوضعية الإدماجية

1- /تشكل التضاريس الرسوبية

2- /البيانات

1-الحرارة 2-مياه 3-رياح 4-صخور

5- شقوق 6- بحر

3- /أ-مرحلة الحث ب-النقل ج- الترسيب

4- /من الوثيقة 1و2 مكتسباتي المعرفية تتشكل الصخور

الرسوبية من نقل وترسيب المواد الناتجة عن حث التضاريس التي
كانت موجودة من قبل وتتوضع هذه المواد في قاع المياه او على
اليابسة

المفحة 2/2

حي قعلول - برج البحري - الجزائر