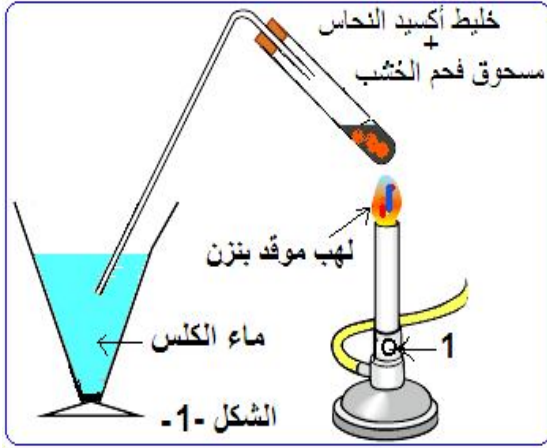


التمرين الأول : 06 ن



* يمثل الرسم المقابل تجهيز سبق تناوله في حصة الأعمال المخبرية (من أكسيد النحاس إلى النحاس):

نخلط مسحوق أكسيد (CuO) مع مسحوق الفحم الأسود (C) و النحاس

تسخينه بواسطة موقد بنزن (لهب منظم أزرق) لمدة 10mn.

1- ماذا سنلاحظ من خلال هذه التجربة؟ إشرح بإختصار.
2- أكتب معادلة التفاعل الحادثة موضحا الحالة الفيزيائية لكل فرد كيميائي ثم وزنها.

3- ما دور الثقب (1) الموجود في موقد بنزن؟

4- ما هو العامل المؤثر في حدوث التفاعل الكيميائي في هذه التجربة؟

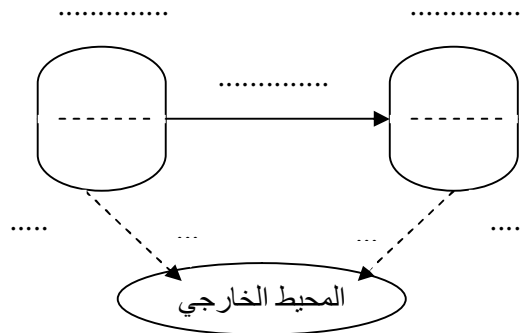
التمرين الثاني : 06 ن

يمثل الرسم المقابل رافعة تشتغل بمحرك يعمل بالوقود .

1- أنجز السلسلة الوظيفية لرفع الحمولة بواسطة المحرك .

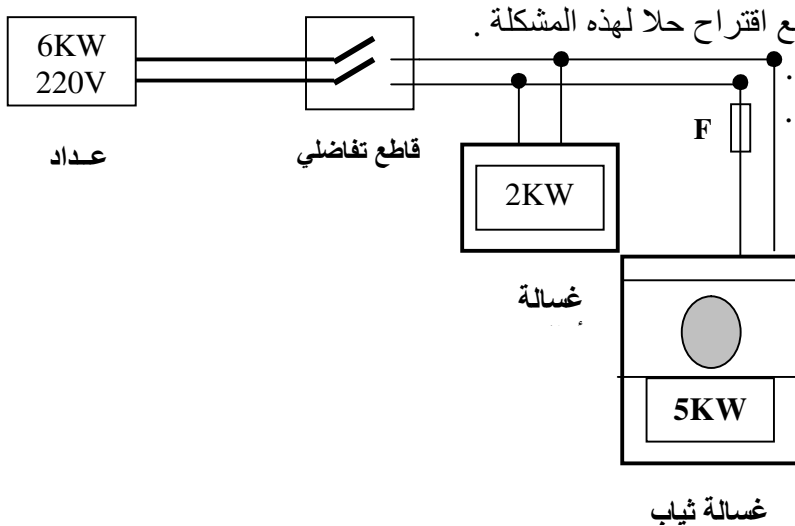
2- أنجز السلسلة الطاقوية في هذه الحالة مبينا التحولات المفيدة فقط .

3 - أكمل الحصيلة الطاقوية لرفع الحمولة بواسطة المحرك لحظة التشغيل.



الوضعية الإدماجية : 08 ن

- لاحظت أسماء أنه عند تشغيلها لغسالة الثياب (5KW) وغسالة الأواني (2KW) معا (الشكل المقابل) يقوم القاطع التفاضلي (dejencteur) بقطع التيار الكهربائي أليا عن الشبكة المنزلية ، علما أن عداد المنزل يحمل الدلالة PMD : 6KW .



1- بين سبب فتح القاطع التفاضلي للدارة الكهربائية مع اقتراح حلا لهذه المشكلة .

- تشغل أسماء غسالة الثياب بمعدل 4 ساعات شهريا .

2 - أحسب الطاقة المحولة شهريا من طرف الغسالة .

3 - أحسب تكلف تشغيل هذه الغسالة سنويا ،

علما أن ثمن الكيلوواط ساعي يقدر ب 1.779DA .