



ECOLE SALIM



الجمهورية الجزائرية الديمقراطية الشعبية

وزارة التربية الوطنية

مؤسسة التربية والتعليم الخاصة **سليم**

ETABLISSEMENT PRIVE D'EDUCATION ET D'ENSEIGNEMENT SALIM



www.ets-salim.com



021 85 62 04



021 87 16 89



Hai Galloul - bordj el-bahri alger

رخصة فتح رقم 1088 بتاريخ 30 جانفي 2011

تحضيرى- ابتدائى- متوسط - ثانوى

اعتماد رقم 67 بتاريخ 06 سبتمبر 2010

نومبر: 2017





فرض الفصل الأول في مادة العلوم الفيزيائية المستوى: الثالثة متوسط 3AM

التمرين الأول :

- 1- قارن في جدول بين الاحتراق التام و الاحتراق غير التام لفحم هيدروجيني .
- 2- تابع التحولات الكيميائية التالية ثم عبر عنها بمعادلات حرفية مع تحديد الجملة الكيميائية قبل التفاعل و بعده:
أ- نسكب روح الملح على كمية من مسحوق الزنك فينطلق غاز الهيدروجين ويتشكل محلول كلور الزنك .
ب- نحرق كمية من الفحم في موقد فينتج غاز يعكر رائق الكلس .
ج- احتراق مسحوق الألمنيوم ينتج عنه مسحوق أبيض هو أكسيد الألمنيوم

التمرين الثاني :

وازن المعادلات التالية :



التمرين الثالث:

- من أجل دراسة أحد العوامل المؤثرة في التفاعل الكيميائي نحضر قطعة من الحديد دائرية الشكل و مسطحة كتلتها $M = 20\text{g}$ و نتركها تتفاعل مع غاز الأكسجين وكتلته $M = 2.8\text{g}$ فننتج كمية من الصدا (أكسيد الحديد FeO) و يختفي كل غاز الأكسجين .
- 1- أكتب معادلة التفاعل الكيميائي ثم وازنها .

حي قعلول - برج البحري - الجزائر

Web site : www.ets-salim.com / 021.87.16.89 : Tel-Fax : 021.87.10.51

2- تبقى كتلة من الحديد لم تتفاعل هي 2.5g

-أحسب كتلة الحديد المتفاعل ثم كتلة الصدأ (أكسيد الحديد) المتشكل؟

3- لو أحضرنا قطعة حديدية على شكل أسطوانة و عرضناها لنفس كمية الأوكسجين ، أي القطعتين تتآكل أولاً المسطحة أو الأسطوانة؟

ماهو العامل المؤثر في هذه التجربة؟