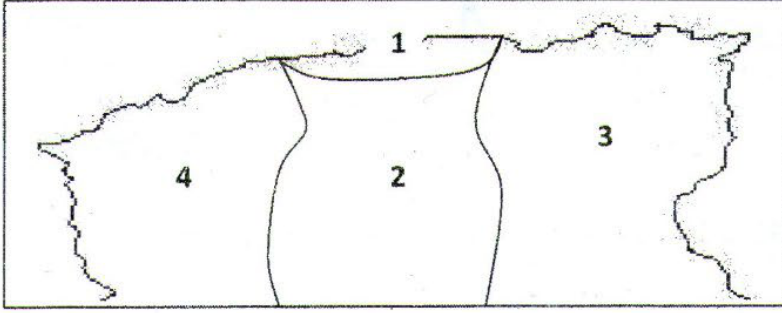


❖ التاريخ (10)

🔑 الوضعية الأولى: (2)



إليك خريطة صماء تخص التقسيم الإداري للدولة الجزائرية في العصر الحديث .

- اعتمادا على مكتسباتك ترجم الأرقام الموجودة في الخريطة لما يرافقها محددا عاصمة كل إقليم. (جدول)

🔑 الوضعية الثانية: (4)

كتب قنصل الولايات المتحدة الأمريكية بالجزائر ويليام شالر في مذكراته، أن الجزائريين بلغوا قمة مجدهم وقوتهم، فكانت الذول البحرية تسعى للحصول على الحظوة لديهم بدون كلل ...
التعليمية: - فسر قول القنصل الأمريكي.

- علل إجابتك من واقع ما درسته عن تاريخ الجزائر في العصر الحديث.



- ميز أهم قوة عالمية ربطتها بعلاقات إيجابية مع الجزائر مبيّنا سبب اختيارك.

🔑 الوضعية الإدماجية: (4)

السياق: شاهدت تقريرا تلفزيونيا عن نشاط مثقفين من مؤرخين وحقوقيين جزائريين لاسترجاع المدفع الجزائري "ابا مرزوق" الذي أستولت عليه فرنسا بعد احتلالها لمدينة الجزائر، مؤكدين في ذلك على رمزيته التاريخية لما شكّله من رعب للأساطيل الأوروبية التي حاولت احتلال الجزائر في العصر الحديث.

السند 2:

السند 1:



التعليمية: حرّر فقرة لا تتجاوز 12 سطرا، تعالج من خلالها أهم أوجه قوة الجزائر في العصر الحديث، مبرزا مساهماته في إكساب الجزائر مكانة دولية مهيبة في تلك الفترة.

الموضعية الأولى: (3)

اعتمادا على مكتسباتك اكمل بناء الجدول التالي

الاتجاهات	شمالا	جنوبا	شرقا	غربا
الموقع الجغرافي				
الموقع الفلكي				
شكل تضاريسي				

الموضعية الثانية: (3)

تتميز قارة إفريقيا بتنوع طبيعي كبير من حيث التضاريس والمناخ والغطاءين النباتي والحيواني، مما أثر على الإنسان في ميادين عديدة .

التعلية: - فسّر سبب التنوع المناخي في القارة .

- ابرز أهم الأنظمة المناخية التي تسود أقاليم واسعة في القارة .


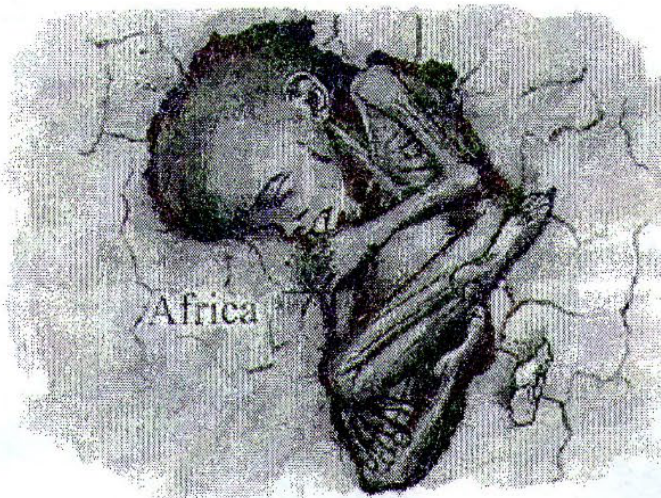
- بيّن أثر التنوع المناخي على السكان في القارة .

الموضعية الإدماجية: (4)

السياق: تزامنت دراستك لقارة إفريقيا مع إجراء بطولة كأس الأمم الإفريقية لكرة القدم بساحل العاج، فتساءلت عن المسار التنموي الذي انتهجته هذه الدولة وصولا لتنظيم حدث رياضي من هذا المستوى.

السند 2:

السند 1:



التعلية: حرّر فقرة لا تقل عن 10 أسطر تعالج من خلالها أهم المعوقات الطبيعية والبشرية التي تعاني منها قارة إفريقيا مقترحا حولا لمواجهتها .