

الجزء الأول (12 نقطة)التمرين الأول: (06 نقاط)

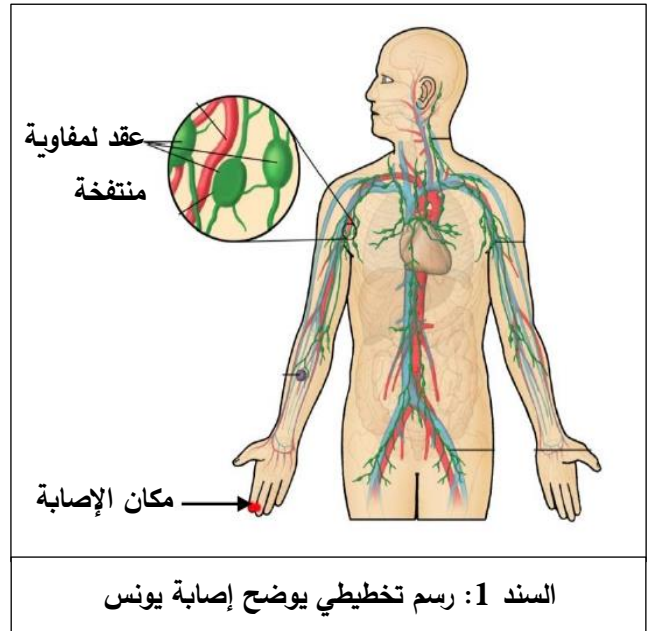
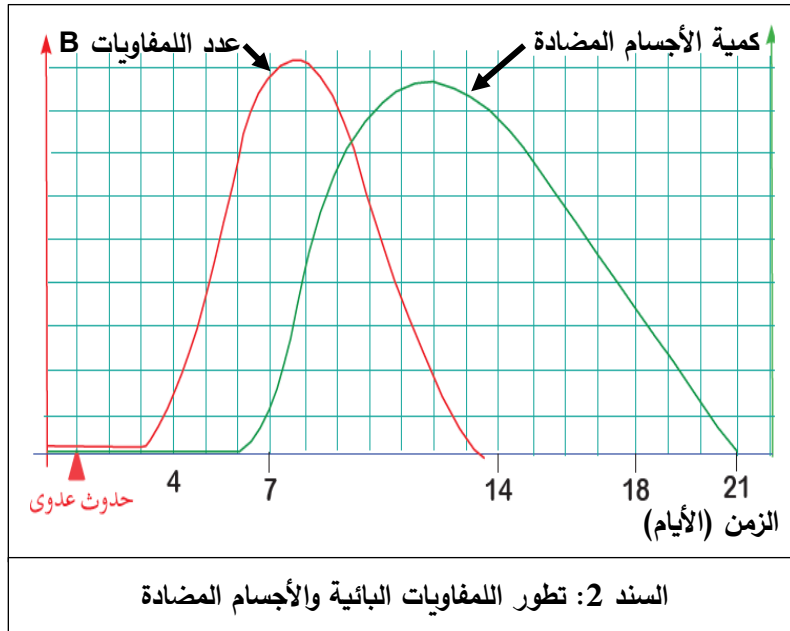
لفهم آلية مقاومة العضوية للأجسام الغريبة التي تحاول إختراقها نقدم لك السند المقابل، الذي يوضح مراحل عملية البلعمة:

1. تعرف على المراحل الموضحة في السند بعد ترتيبها حسب تسلسلها الزمني.

2. مثل برسم تخطيطي عليه كافة البيانات المرحلة التي لم ترد في السند المقابل.

التمرين الثاني: (06 نقاط)

أصيب يونس بجرح على مستوى أصبع يده بعدما كان يلعب بقطعة معدنية، نظف الجرح بقطعة قماش وإستمر في اللعب بعد مدة شعر بحمى وآلام على مستوى إبطه، مما إضطره لزيارة الطبيب الذي أخبره أنه يعاني من عدوى بكتيرية، من أجل معرفة نوع الإستجابة المناعية المتدخلة في هذه الحالة إليك الأسناد التالية:



1. أ- حل وفسر منحنى السند (2).

ب- إستنتج العلاقة بين اللمفاويات البائية والأجسام المضادة.

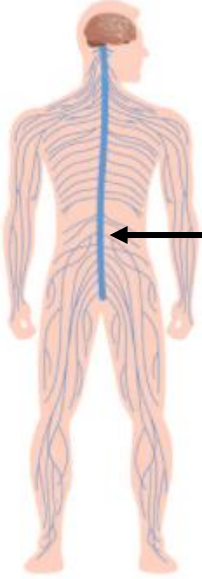
2. أ- حدد نوع الإستجابة المناعية المتدخلة في هذه الحالة، مبررا إجابتك.

ب- إشرح آلية عمل هذه الإستجابة المناعية.

الجزء الثاني (08 نقاط)وضعية إدماج

إستقبلت مصلحة الإستعجالات ضحايا حادث مرور "سائق شاحنة" و"سائق سيارة مع مرافقه" تعرضوا لإصابات بليغة، وبعد المعاينة من طرف الأطباء وإجراء فحوصات الأشعة وتحاليل الدم ظهرت النتائج التالية:

الأعراض	كمية الكحول في الدم
شعور خفيف بالنشوة	0.2 غ/ل
يطول زمن الإستجابة	0.6 غ/ل
فقدان التوازن الحركي وتدني سرعة المنعكسات	1 غ/ل
حالة الثمالة	2 غ/ل
غيوبية	4 غ/ل
موت	6 غ/ل
السند 03: تأثير الكحول	

	<p>-سائق الشاحنة: تدني سرعة المنعكسات وفقدان التوازن الحركي مع زوال الأعراض المذكورة بعد 24 ساعة من إقامته في المستشفى.</p> <p>-سائق السيارة: شلل الأطراف السفلى.</p> <p>-مرافق سائق السيارة: فقدان السمع كما بينت الأشعة والتحاليل سلامة المخ والعضو الحسي.</p>
السند 02: إصابة سائق السيارة	السند 01: جزء من تقرير الطبيب

إعتمادا على الأسناد المقدم إليك ومكتسباتك القبلية:

1. بين السبب الرئيسي لهذا الحادث موضعا تأثيره على الجهاز العصبي.

2. قدم تفسيراً للإصابات التي تعرض لها سائق السيارة ومرافقه.

3. إقتح نصيحتين للتقليل من حوادث المرور.

بالتوفيق-أستاذ المادة سعدي-