

- ماذا يمثل المنحصر (س) ؟ وما هو دوره في حدوث الاحتباس ؟
- اجزاء لوحظ أن المنحصر (س) يوقف هذا الاحتباس رغم سلامة كل الأجزاء.
- استنتج دور المنحصرين 2 و 3 في حدوث هذا الاحتباس.

- أ- كما تعرف هذه التغيرات الكهربائية الكهروناقلية؟
- ب- تعرف على المنحصرين 2 و 3.
- ج- كما تعرف هذه التغيرات الكيميائية لأشياء كهروناقلية؟
- د- اظهر وصل المنحصرين (2) - (3) في رسم راسم
- هـ- ماذا تمثل هذه المنطقة ؟ وما هو دورها؟

1- رسم تخطيطي لآلية عمل حاسة اللمس في الإنسان (1) يوقف عمل الحاسة

التمرين الثاني (06)

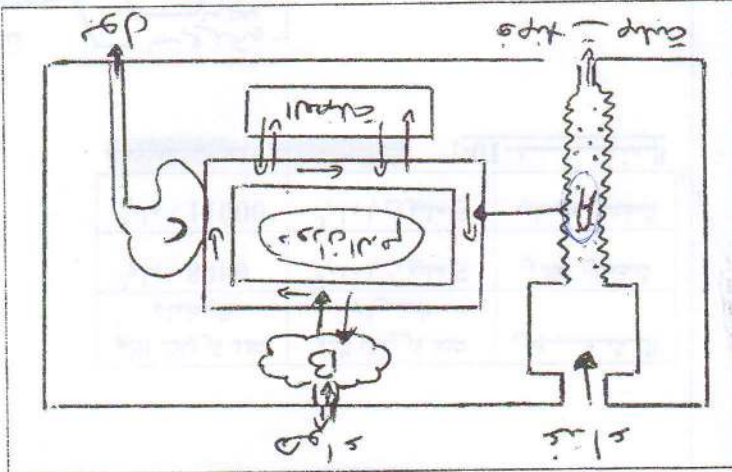
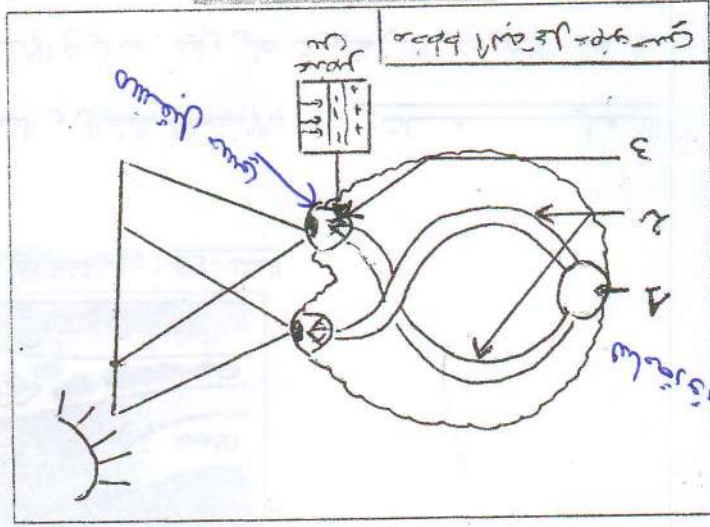
- 4- يؤدي توقف القلب عن العمل إلى موت الإنسان، على
- (العضلة و العصب B)
- 3- حدد نوع المنبذلات التي يتم في المستويين
- 2- قيم تمثيل السطح التناوب في (A, B)
- 1- اذكر الوظائف التي يتم في المستويات (A, B, C) الجارحي في الجسم.

يمثل المخطط التالي العلاقة بين الوسط الداخلي و الوسط

التمرين الأول (06)

الخ

الاجابة الثاني في مادة العلوم الطبيعية

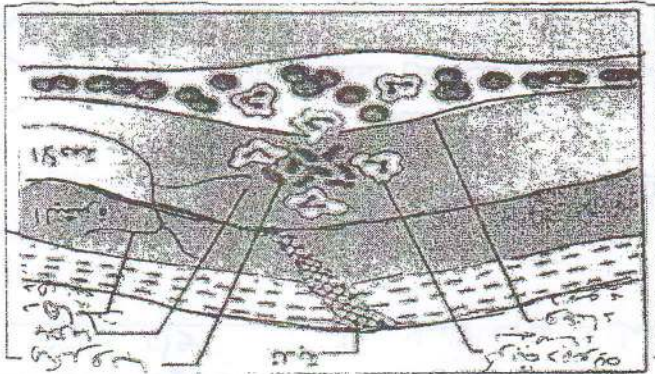


من تاليه بال

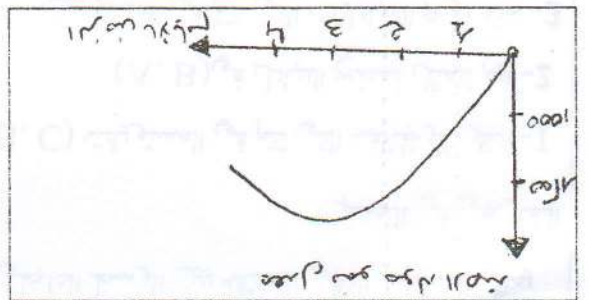
- 3- قادم بصالح ان ملاحظه التغيرات على مدى هذه الايام التي تعرض لها ضيف وليد
- 2- وصيغ سنين زيادة مولات الجسد (الاجسام الخلية) في الايام الاولى لم تتغير بعد مدة
- 1- قيس الايام التي ظهرت على وليد ما نوع الاجسام الخلية المتواجدة في هذه المراحل؟

التغيرات في التكاثر والجنس والصفات و...

2- شرح المراحل التي يمر بها وليد في المراحل الاولى من حياته -03-



3- اشرح المراحل التي يمر بها وليد في المراحل الاولى من حياته -02-



المرحلة	عدد كريات الدم الحمراء	التهجين	المرحلة
المرحلة الاولى	11000	5 مليون	المرحلة الاولى
المرحلة الثانية	8000	5 مليون	المرحلة الثانية
المرحلة الثالثة	المرحلة الثالثة	المرحلة الثالثة	المرحلة الثالثة

التغيرات

في التغيرات التي تحدث في الجنين في المراحل الاولى من حياته، حيث ملاحظه التغيرات في التكاثر والجنس والصفات و... في المراحل الاولى من حياته، حيث ملاحظه التغيرات في التكاثر والجنس والصفات و... في المراحل الاولى من حياته، حيث ملاحظه التغيرات في التكاثر والجنس والصفات و...

(12 نقاط) اشرح المراحل التي يمر بها وليد في المراحل الاولى من حياته