

الاختبار الثالث في مادة العلوم الفيزيائية و التكنولوجيا

التمرين الأول (06 قاط)

الجزء الأول (12 نقطة)

قامت أحلام بصب كمية من محلول حمض كلور الماء في كأسين الأول يحتوي على صوف الحديد والثاني على مسحوق كربونات الكالسيوم وسجلت ملاحظاتها في الجدول التالي:

التجربة	المواد المتفاعلة	الملاحظات المشاهدة أثناء التفاعل
①	- محلول حمض كلور الماء - كمية قليلة من صوف الحديد	○ تفتت صوف الحديد واختفاء جزء منه. ○ انطلاق غاز يتفرق في وجود هب. ○ ظهور لون أخضر فاتح في المحلول الناتج
②	- محلول حمض كلور الماء - مسحوق كربونات الكالسيوم (الكلس)	○ حدوث فوران ○ انطلاق غاز يعكر رائق الكلس.

1- أعط نتيجة لكل ملاحظة من الملاحظات المشاهدة الواردة في الجدول.

2- أكتب معادلات التفاعل الحادثة في كل تجربة بالصيغتين الشاردية و الجزئية

التمرين الثاني (06 قاط)

ثلاث جمل ميكانيكية:

- الجملة الأولى : سيارة تسير بحركة مستقيمة منتظمة.

- الجملة الثانية : جسم يسقط لحاله من ارتفاع معين من سطح الأرض.

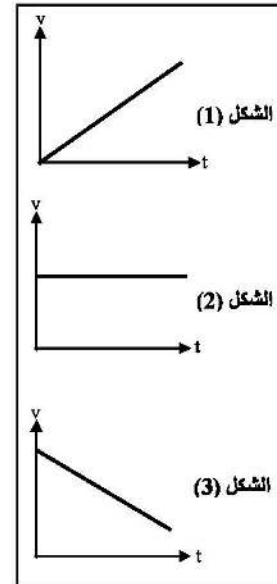
- الجملة الثالثة : كرة قذفت شاقولياً نحو الأعلى وهي في مرحلة الصعود.

الأشكال: (1) و (2) و (3) تُثبّل مخططات السرعة بدلالة الزمن للجمل الميكانيكية الثلاثة

1- حدّد مخطط السرعة الموافق لكل جملة ميكانيكية.

2- ما الجمل الميكانيكية الخاضعة للقوة ؟ برّر إجابتك.

3- حدّد جهة القوة في الجمل الميكانيكية الخاضعة للقوة مع التبرير.



الجزء الثاني (08 قاط)

الوضعية الإدماجية

يُثبّل الشكل (4) مخطط لجزء من تركيب كهربائي لمنزل.

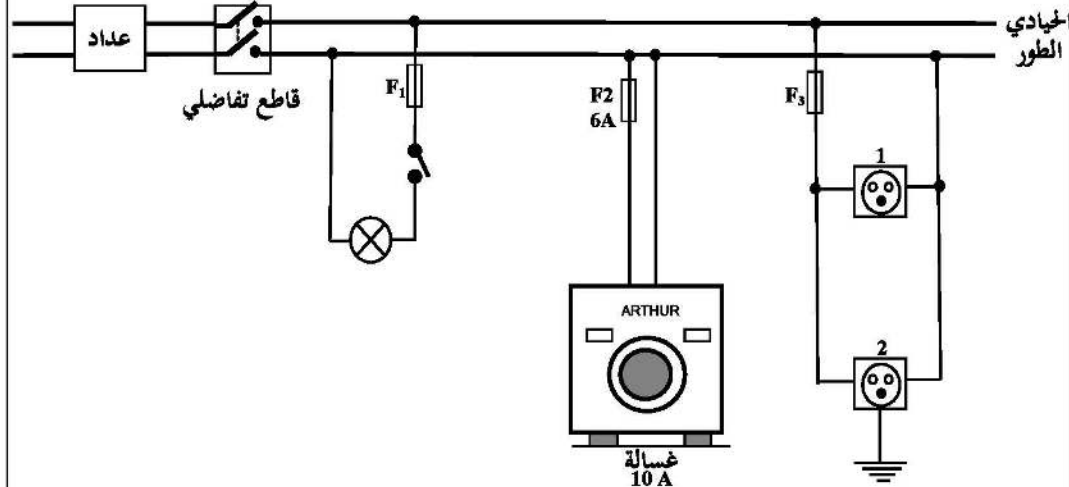
في هذا التركيب لا يمكن للغسالة أن تشتغل بالرغم من أنها سليمة وذلك لوجود عيبين جوهريين فيه ، كما لوحظ عند تشغيل عدّة أجهزة في آن واحد من المأخذ 2 يُسبب انقطاع التيار الكهربائي عن كامل الشبكة .

1 / أذكر سبب أو أسباب :

- عدم اشتغال الغسالة .
- انقطاع التيار الكهربائي.

2 / اقترح حلولاً :

- لتشغيل الغسالة .
 - لتفادي مشكل انقطاع التيار الكهربائي.
- 3 / في المخطط توجد عدّة أخطاء أخرى أو توصيل غير مطابق للشروط الأمنية .
- أعد رسم المخطط مع التصويبات المناسبة .



الشكل (4)

الجزء الثاني (08 نقاط)

الوضعية الإدماجية

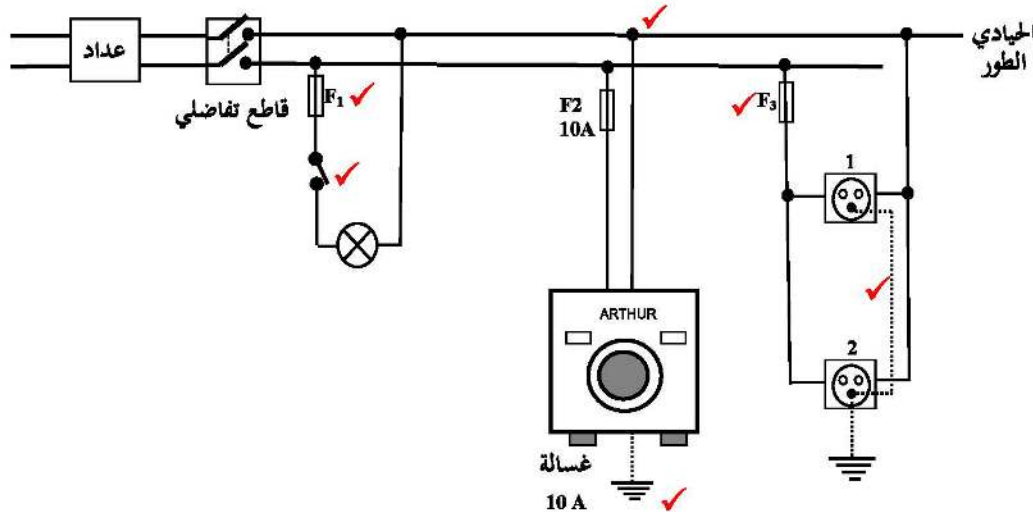
-1

- سببا عدم اشتغال الغسالة:
- الغسالة موصلة بسلك واحد فقط. (موصلة بالطور فقط وهذا غير كاف)
- منصهرة حماية الغسالة غير موافقة لشدة تيار التي تحتاجها الغسالة (بمجرد مرور التيار في الغسالة ينصهر سلك المنصهرة فتتلف).
- سبب انقطاع التيار الكهربائي:
- شدة التيار الإجمالية التي تمر في الأجهزة معا تفوق شدة التيار التي يسمح بها القاطع التفاضلي.

-2- الحلول المقترحة :

- لتشغيل الغسالة:
- توصيل الغسالة بسلكي الطور والحيايدي معا.
- وضع منصهرة تتوافق مع شدة التيار العظمى للغسالة. (وضع منصهرة ذات عيار 10 A).
- لتفادي انقطاع التيار :
- إعادة ضبط القاطع التفاضلي على قيمة كافية لتشغيل الأجهزة معا في آن واحد .

-3- إعادة رسم المخطط بالتصويبات الممكنة



تصحيح الاختبار الثالث في مادة العلوم الفيزيائية و التكنولوجيا

الجزء الأول (12 نقطة)

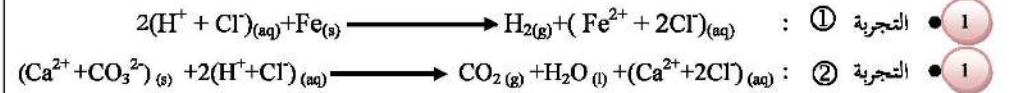
التمرين الأول (06 قاط)

-1

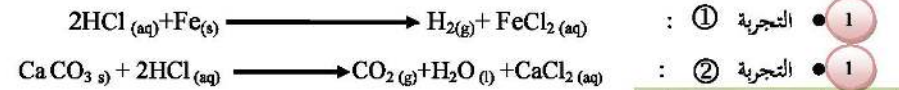
التجربة	الملاحظات المشاهدة أثناء التفاعل	النتائج
①	- تفتت صوف الحديد واختفاء جزء منه. 0.25 - انطلاق غاز يتفرقع في وجود لهب. 0.5 - ظهور لون أخضر فاتح في المحلول الناتج. 0.5	○ دلالة على حدوث تفاعل كيميائي. ○ الغاز الناتج هو ثنائي الهيدروجين (H ₂) ○ اللون الأخضر للمحلول دلالة على وجود شوارد الحديد الثنائي فيه (Fe ²⁺).
②	- حدوث فوران - انطلاق غاز يعكر رائق الكلس. 0.5	○ دلالة على حدوث تفاعل ○ الغاز الناتج هو ثنائي أكسيد الكربون (CO ₂)

-2- معادلات التفاعل :

○ بالصيغة الشاردية :



○ بالصيغة الجزيئية :



التمرين الثاني (06 قاط)

-1- مخطط السرعة الموافق لحركة كل جملة :

- 1 المخطط الممثل بالشكل (1) يوافق حركة الجملة الثانية (حركة السقوط الحر للجسم).
- 1 المخطط الممثل بالشكل (2) يوافق حركة الجملة الأولى (حركة السيارة)
- 1 المخطط الممثل بالشكل (3) يوافق حركة الجملة الثالثة (حركة الكرة أثناء الصعود).

-2- الجمل التي خضعت لتأثير القوة هي الجمل التي تكون سرعتها متغيرة :

- 0.5 الجملة الأولى لأن سرعتها متزايدة .
- 0.5 الجملة الثالثة لأن سرعتها متناقصة.

-3- جهة القوة في الجمل الخاضعة لتأثير القوة :

- 1 في الجملة الأولى تكون جهة القوة في نفس جهة الحركة (قوة محركة) مما يؤدي الى تزايد سرعة الجملة.
- 1 في الجملة الثالثة تكون جهة القوة عكس جهة الحركة (قوة مقومة) مما يؤدي الى تناقص سرعة الجملة.

شبكة تقويم الوضعية (08 نقاط)

العلامة	العلامة الجزئية	المؤشرات	السؤال	المعيار	
3.5	0.5	- الغسالة موصلة بسلك واحد فقط.	س 1	1- الترجمة السليمة للوضعية	
	0.5	- منصهرة حماية الغسالة غير موافقة لشدة تيار التي تحتاجها الغسالة.			
	0.5	- شدة التيار الإجمالية التي تمر في الأجهزة معا تفوق شدة التيار التي يسمح بها القاطع التفاضلي.			
	0.5	- توصيل الغسالة بسلكي الطور والحيايدي معا.	س 2		
	0.5	- وضع منصهرة تتوافق مع شدة التيار العظمى للغسالة.			
	0.5	- إعادة ضبط القاطع التفاضلي على قيمة كافية لتشغيل الأجهزة معا.			
	0.5	- رسم المخطط.	س 3		
2.5	0.5	- الغسالة موصلة بالطور فقط وهذا غير كاف.	س 1	2- الاستعمال السليم لأدوات المادة	
	0.5	- بمجرد مرور التيار في الغسالة ينصهر سلك المنصهرة فتتلف.			
	0.25	- المنصهرة المناسبة يجب أن تكون ذات عيار 10 A.	س 2		
	0.25	- التعبير بلغة علمية سليمة.			
			صحة رسم المخطط :		س 3
	0.25	- الربط الصحيح للمنصهرين F_1 و F_3 على سلك الطور.			
0.25	- الربط الصحيح للقاطعة على سلك الطور.				
0.25	- إضافة السلك الأرضي لكل من الغسالة والمأخذ 1 .				
	0.25	-توصيل سلك الغسالة الذي لا يحمل المنصهر بالسلك الحيايدي.			
1	0.5	- التسلسل المنطقي للأفكار.	كل الاجابة	3- انسجام الاجابة	
	0.5	- الاستعمال المناسب للرموز النظامية .			
1	0.5	- دقة الإجابة .	كل الاجابة	4- الاتقان (الابداع)	
	0.25	- وضوح الخط والرسم.			
	0.25	- تنظيم الفقرات.			