



GROUPÉ SCOLAIRE « LA PERSÉVERANCE »

اختبار الفصل الثاني في مادة العلوم الفيزيائية و التكنولوجيا
المدة الزمنية : $5,4 \times 10^6$ ms
القسم: الرابعة متوسط
السنة الدراسية : 2024/2023
الأستاذ : تونسي

التمرين الأول: 6 ن

نضع صفيحة من معدن الألمنيوم (Al) في محلول شاردي أزرق اللون صيغته الكيميائية الشاردية $(\text{Cu}^{2+} + \text{SO}_4^{2-})_{\text{aq}}$ فنلاحظ بعد فترة تأكل الجزء المغمور من الصفيحة وتغطيته بطبقة حمراء و تشكل محلول ذو الصيغة الشاردية $(2\text{Al}^{3+} + 3\text{SO}_4^{2-})_{\text{aq}}$ كما هو مبين في الوثيقة -1-

1- سم ثم اكتب الصيغة الإحصائية للمحلول الشاردي $(\text{Cu}^{2+} + \text{SO}_4^{2-})_{\text{aq}}$

2- استنتج اسم المحلول الشاردي الناتج ثم اكتب صيغته الإحصائية

3- عين الافراد الكيميائية المسؤولة عن كل من :

(أ) اللون الأزرق (ب) الطبقة الحمراء

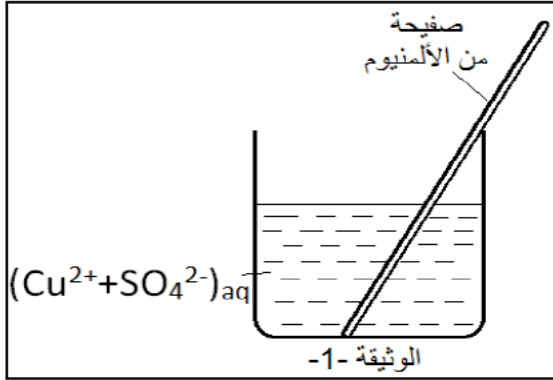
4- اكتب معادلة التفاعل الكيميائي الحاصل ثم وازنها بالصيغ:

(أ) الشاردية

(ب) الإحصائية

(ج) المختصرة

5- سم الكاشفين المستعملين للكشف عن شوارد المحلول الشاردي الناتج



التمرين الثاني: 6ن

نعلق قطعة خشب بطرف دينامومتر كما يبين الشكل المقابل

1- ماهي القوى المطبقة على القطعة الخشبية؟ صنفها الى قوى تلامسية و بعدية

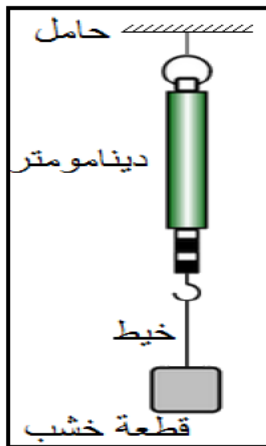
2- حدد مميزات القوة \vec{P} ثقل قطعة الخشب مع العلم ان كتلتها $m=500\text{g}$

3- استنتج معللا جوابك مميزات القوة \vec{T} التي يطبقها الخيط على قطعة الخشب

4- مثل على نفس الشكل القوتين \vec{P} و \vec{T} المطبقتين على قطعة الخشب باستعمال السلم

1cm \longrightarrow 2,5N

تعطى: $g = 10 \text{ N/Kg}$



الوضعية الإدماجية: (8 نقاط)

بالتوفيق: الأستاذ تونسي

فكر جيدا و كن ذكيا و لا تنس التركيز

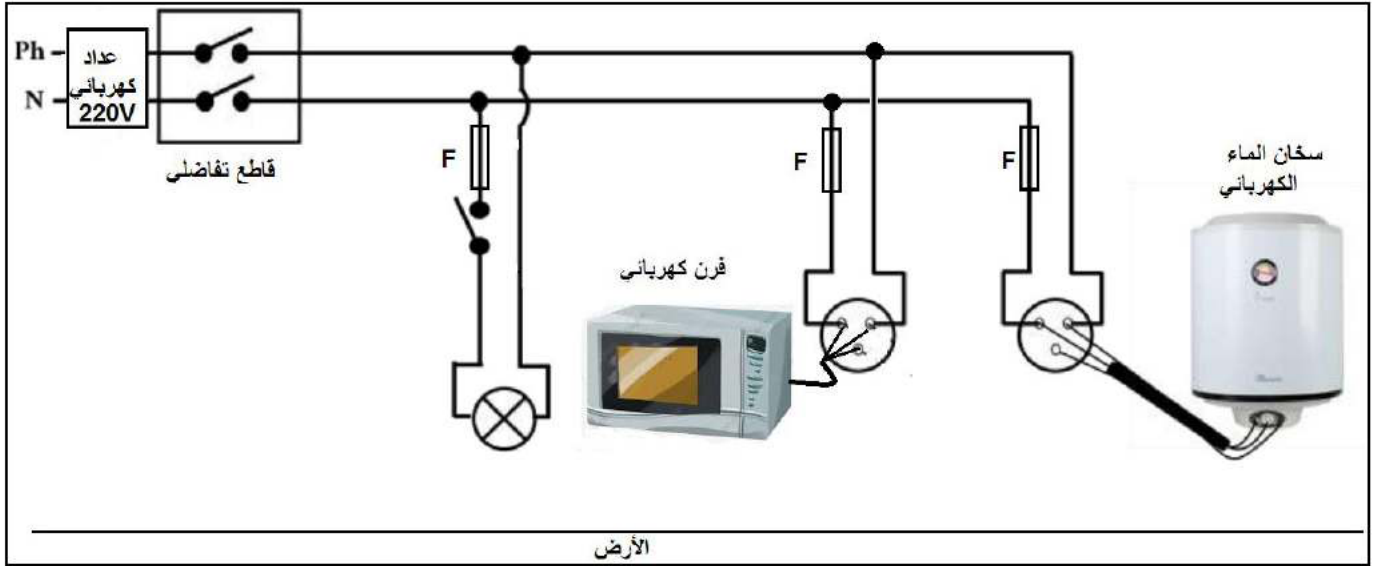


GROUPÉ SCOLAIRE « LA PERSÉVERANCE »

تستخدم عائلة علي سخانا و فرنا كهربائيين في المنزل، لاحظ علي إصابته بصدمة كهربائية عند لمس هيكال الفرن الكهربائي أثناء تشغيله، إضافة إلى ضعف تدفق الماء الساخن من الأنابيب نتيجة ترسب مادة الكلس (كربونات الكالسيوم) $(CaCO_3)_s$ بداخلها. كما لاحظ انقطاع التيار الكهربائي في كامل المنزل بعد مدة معينة من تشغيلهما معا مع بقية الأجهزة.

على ضوء ما درست، واعتمادا على المخطط المرفق لجزء من الشبكة الكهربائية في منزل علي أجب عن الأسئلة الآتية:

- 1- فسر سبب كل من :
 - الصدمة الكهربائية التي شعر بها علي .
 - انقطاع التيار الكهربائي في كامل المنزل .
- 2- اقترح حلا لإزالة مادة الكلس من الأنابيب مدعما إجابتك بكتابة معادلة كيميائية.
- 3- اذكر الأخطاء التي تضمنها مخطط الشبكة الكهربائية لمنزل علي.
- 4- أعد رسم المخطط مبينا عليه التعديلات والإضافات اللازمة.



بالتوفيق و النجاح في ما تبقى من المواد
و في امتحان شهادة التعليم المتوسط

تصحيح اختبار الفصل 2 في مادة الفيزياء
4AM

ت:1

بالتوفيق: الأستاذ تونسي

فكر جيدا و كن ذكيا و لا تنس التركيز

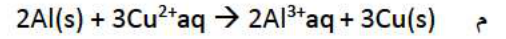
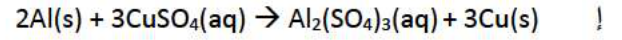
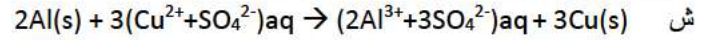


GROUPÉ SCOLAIRE « LA PERSÉVÉRANCE »

كبريتات النحاس CuSO_4

كبريتات الألمنيوم $\text{Al}_2(\text{SO}_4)_3$

اللون الأزرق شوارد النحاس الطبقة الحمراء ذرات معدن النحاس



كاشف شوارد الكبريتات : كلور الباريوم كاشف شوارد الألمنيوم: هيدروكسيد الصوديوم

ت 2

النقل P بعدي قوة شد الخيط T تلامسي

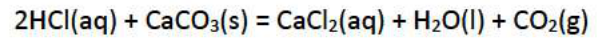
مميزات P المبدأ مركز ثقل الجسم المنحى شاقولي الاتجاه نحو مركز الأرض الشدة $P = m \cdot g = 0.5 \cdot 10 = 5\text{N}$

مميزات T المبدأ نقطة التعليق المنحى شاقولي الاتجاه نحو الأعلى الأرض الشدة 5N التعليل بالفاعلين المتبادلين و طبيعة التأثير

الوضعية

- سبب الصدمة : ملامسة سلك الطور غير المغلف للهيكلم المعدني للفرن
- انقطاع التيار عن المنزل سببه ان شدة التيار اللازمة لتشغيل الأجهزة معا في ان واحد اكبر من الشدة التي يسمح بمرورها القاطع

ازالة الكلس بحمض كلور الماء



غياب التوصيل الأرضي

المنصهرة في سلك الحيادي

قاطعة المصباح على الحيادي

