

مادة التاريخ :

الجزء الأول : ( 09 نقاط )

1 / رتب الأحداث التالية حسب تسلسلها الزمني مبينا تاريخ حدوثها .

- تأسيس المنظمة الخاصة .

- انعقاد مؤتمر الصومام .

- تأسيس اللجنة الثورية للوحدة و العمل .

\_ وقف إطلاق النار .

2 / ساهمت مجموعة من الظروف الداخلية و الخارجية في ميلاد الحركة الوطنية الجزائرية .

صنف (02) منها في الجدول التالي :

الظروف الداخلية	الظروف الخارجية
-1	-1
-2	-2

3 / حدّد أهداف اتحاد دول المغرب العربي .

4 / ضع تعريفا مختصرا للمفاهيم التالية :

- بيان أول نوفمبر - المحتشدات \_ خط شال .

الجزء الثاني : ( 04 نقاط )

و أنت عضو في لجنة تحضير الاحتفال بذكرى أول نوفمبر 1954 , طُلب منك إنجاز بحث مصغر حول السياسة الإغرائية و القمعية التي اعتمدها فرنسا تجاه مطالب الحركة الوطنية ( 1919 / 1939 ) .

السندات :

السند 1 : " ....إن مشروع بلوم فيوليت قد درس بعمق و دقة من قبل الأخصائيين في الشؤون الاسلامية ....."

مصالي الحاج

السند 2 : "....منع أئمة جمعية العلماء المسلمين من التدريس و الوعظ و الخطابة في المساجد باستثناء الذين عيّنتهم الادارة الفرنسية ...."

من منشور ميشال الكاتب العام لولاية الجزائر .1933\_

التعليمة : اعتمادا على السندات و مكتسباتك القبلية أكتب فقرة من 08 إلى 10 أسطر توضح فيها ما استجزه في المجلة .

أقلب الصفحة \_

1/ إشرح مايلي :

\* تأثير كل من الموقع الفلكي و التضاريس على مناخ الجزائر .

\* تراجع نمو السكان في الجزائر ما بين 1851 و 1872 م .

2/ إليك أهم المدن الصناعية في الجزائر حدد ما تختص به كل منها في الجدول التالي .:

المدينة	أهم صناعاتها
تيارت عنابة تيزي وزو عين اميناس	

الجزء الثاني : ( 03 نقاط )

و أنت تشاهد نشرة الأخبار مع والدك شد انتباهكما تقريرا حول المشاكل البيئية التي تواجهها الجزائر لا سيما الحرائق و التصحر , فطلب منك والدك توضيحا عن أهم أسبابهما و سبل الحد منهما .


السندات :

السند 1 : يبقى النبات الطبيعي و خاصة الغابات أهم عامل في تنظيم المناخ و جلب الرطوبة و تحسين التربة و كذا المحافظة على الحياة البرية .


السند 2 : إليك الصور التالية :




السد الأخضر



التشجير



التصحر



الحرائق

التعليمة : أعتامدا على السندات وعلى مكتسباتك أكتب فقرة من 10 أسطر تجيب فيها عن تساؤل والدك .