

الجمهورية الجزائرية الديمقراطية الشعبية

مديرية التربية لولاية قسنطينة

ماي: 2021

ثانوية ماسينيسا - الخروب -

وزارة التربية الوطنية

امتحان بكالوريا تجريبية

الشعبة : تقني رياضي

المدة : 04 ساعات

اختبار في مادة : التكنولوجيا (هندسة كهربائية)

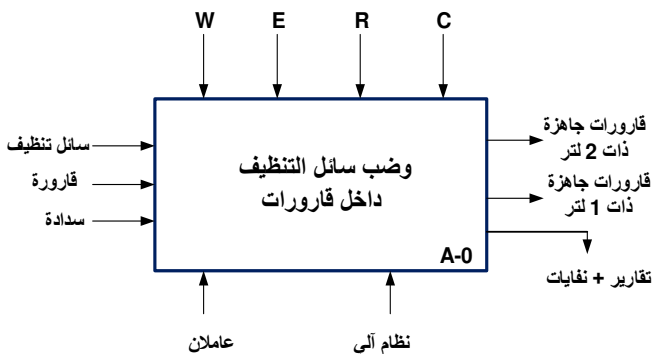
الموضوع : نظام آلي لتوضيب سائل تنظيف داخل قارورات

يحتوي الموضوع على 10 صفحات .

- العرض من الصفحة 10/01 إلى 10/05 .
 - (الملاحق) سندات تقنية للعناصر الإلكترونية الصفحة 10/6 .
 - العمل المطلوب الصفحة 10/07 .
 - وثائق الإجابة الصفحات 10/08 ، 10/09 و 10/10
- دفتر الشروط :
1. الهدف من التآلية : يهدف النظام الآلي إلى ملء قارورات بسائل تنظيف حسب سعتها ، غلقها وفرزها بصفة آية مستمرة ومنظمة .
 2. وصف التشغيل : بعد العمل التحضيري من ملء للخزان بسائل التنظيف في مركز الملء وتواجد السدادات في مركز الغلق ينطلق النظام الإنتاجي الآلي في العمل مباشرة بعد الضغط على الزر **Dcy** بإتيان القارورات في مختلف مراكز العمل وفق العمليات التالية :
 - الأشغولة 1 "تقديم القارورات " : يتحرك البساط 1 بواسطة المحرك M_1 إلى غاية الكشف عن القارورة في مركز الملء وحضور أخرى في مركز الغلق ، وأخرى في مركز الفرز 1 أو أخرى في مركز الفرز 2 .
 - الأشغولة 2 "ملء القارورة " : يفتح الكهروصمام **EV** مدة زمنية قدرها $t_1=10s$ إذا كانت القارورة ذات سعة 1 لتر ، أما إذا كانت ذات 2 لتر يدوم فتح الكهروصمام **EV** لمدة زمنية إضافية قدرها $t_2=10s$ وتنتهي الأشغولة .
 - الأشغولة 3 "غلق القارورة " : تقدم السدادة بواسطة المحرك خطوة - خطوة M_p ، بعدها ينزل ذراع الرافعة **A** لغلق القارورة ثم يصعد .
 - الأشغولة 4 "فرز القارورات والعدّ " : تنطلق العملية بخروج ذراع الرافعة **B** لدفع القارورة ذات 2 لتر على البساط 2 وبخروج ذراع الرافعة **C** تدفع القارورة ذات 1 لتر على البساط 3 ، مع إستمرار دوران المحركين M_2 و M_3 على الترتيب إلى غاية تشكيل مجموعتين من القارورات ، ليتوقف المحركين M_2 و M_3 حتى يتسنى للعامل من سحب المجموعتين من القارورات المفروزة .
 3. الاستغلال : تشغيل النظام يستوجب وجود عاملين 02:
 - عامل مختص : للصيانة الدورية ، المراقبة والتهيئة .
 - عامل دون تخصص : إحضار وإجلاء القارورات الجاهزة .
 4. الأمان : حسب القوانين المعمول بها في النظام الدولي (SI) لضمان الأمان .
 5. الجاهزية : يجب على النظام الآلي أن لا يتوقف أكثر من 30mn في اليوم الواحد .

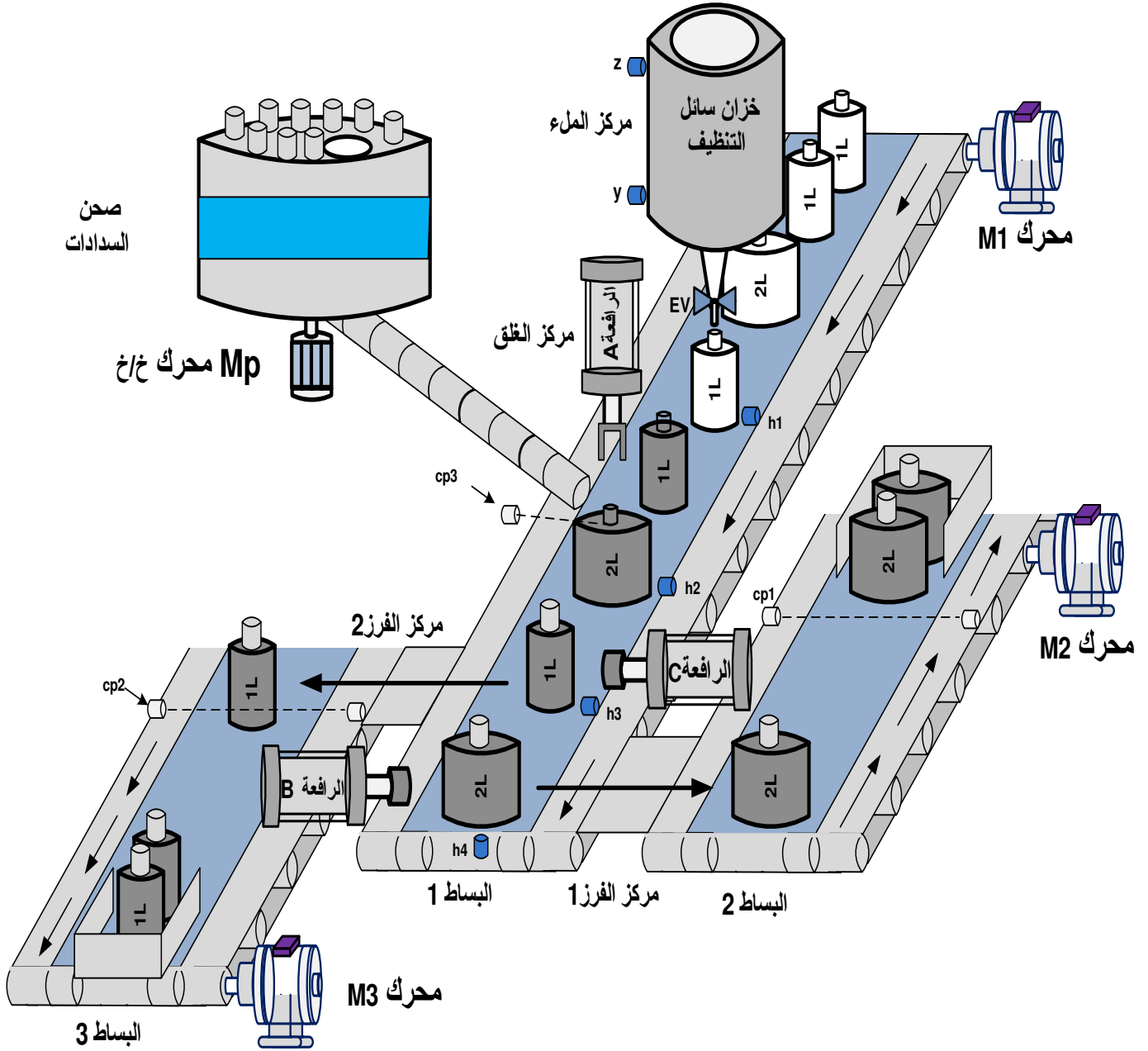
6. التحليل الوظيفي :

- الوظيفة الشاملة : مخطط النشاط (A-0)



- W : الطاقة : w_p : طاقة هوائية : w_e : طاقة كهربائية
- C : الإعدادات : (التشغيل متحكم فيه بواسطة API).
- E : تعليمات الاستغلال : التحكم في تشغيل النظام الآلي (Dcy -Acy - manu -auto -reg-.....).
- R : إلتزامات الضبط: . N1 ، N2 : عدادات ، t_1, t_2 : التأجيل

7. المناولة الهيكلية :

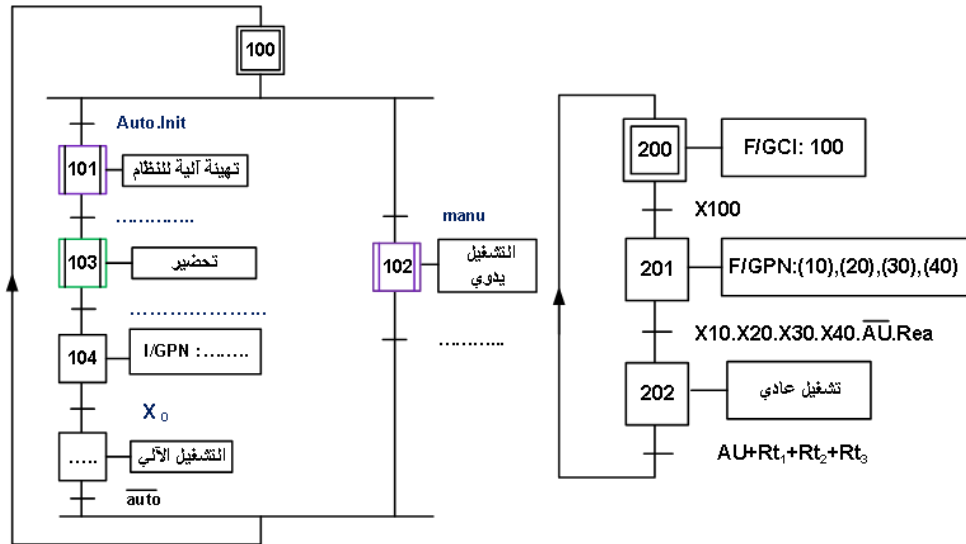


نظام آلي لتوضيب سائل تنظيف داخل قارورات

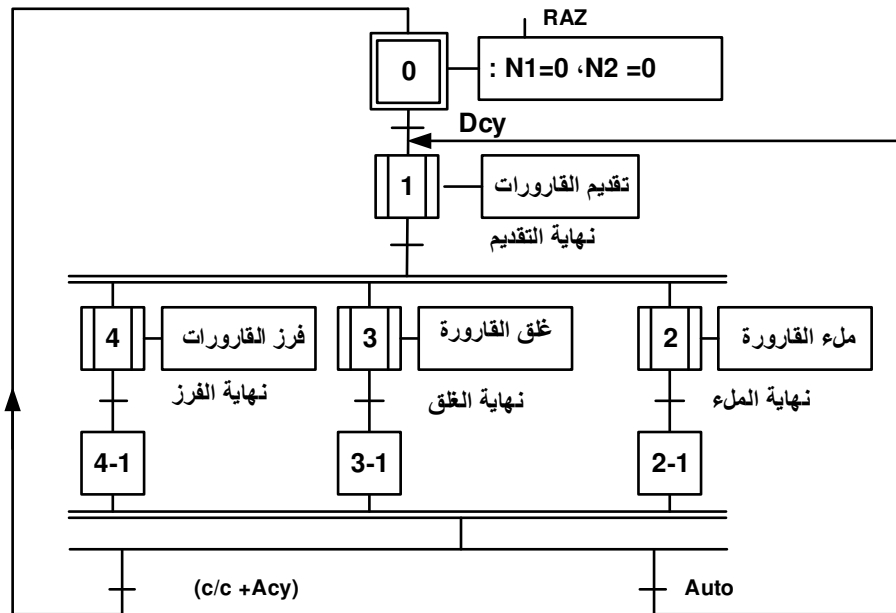
8. جدول الاختيارات التكنولوجية للمنفذات ، المنفذات المتصدرة و الملتقطات

المنفذات	تقديم القارورات	ملء القارورة	غلق القارورة	فرز القارورات والعدّ
المنفذات المتصدرة	M_1 محرك لا تزامني ~ 3 إتجاه واحد للدوران	EV كهروصمام $\sim 220V$	A : رافعة بسيطة المفعول M_p : محرك خ/خ	B و C : رافعات مزدوجة المفعول M_2 محرك لا تزامني ~ 3 M_3 : محرك لا تزامني ~ 3
المنفذات المتصدرة	KM_1 : ملامس كهربائي	KEV : ملامس كهربائي $Tpo1$ ، $Tpo2$: مؤجلات	dA : موزع كهروهوائي $3/2$ أحادي الإستقرار	$dB^+ dB^-$: دخول الذراع، خروج الذراع(موزع كهرو هوائي $5/2$) $dC^+ dC^-$: دخول الذراع، خروج الذراع(موزع كهرو هوائي $5/2$) KM_2 KM_3 : ملامسات كهربائية
الملتقطات	h_4 ، h_1 ، h_2 ، h_3 الكشف على عن وجود القارورات في المراكز	$t_1 = 10 s$ $t_2 = 10 s$ v : الكشف عن قارورة 1 لتر ، w : الكشف عن قارورة 2 لتر y : ملتقط المستوى للكشف عن سائل التنظيف داخل الخزان	a : ملتقط نهاية الشوط cp_3 : كشف وجود سدادة	cp_1 ، cp_2 : خلية الكشف والعد N1 : عداد 12 قارورة N2 : عداد 24 قارورة c_0 ، c_1 ، b_0 ، b_1 ، ملتقطات نهاية الشوط

القيادة والأمن : ream : إعادة تسليح Auto _ : آلي Acy _ : توقف الدورة manu : التشغيل اليدوي S1 S2 S3 S4 : ضواغط التشغيل اليدوي
AU : توقيف إستعجالي cy/cy : دورة بدورة Dcy : بداية الدورة Init : التهيئة RT1 ، RT2 ، RT3 : مرحلات حرارية RAZ : إرجاع العداد إلى صفر N1= N2=0

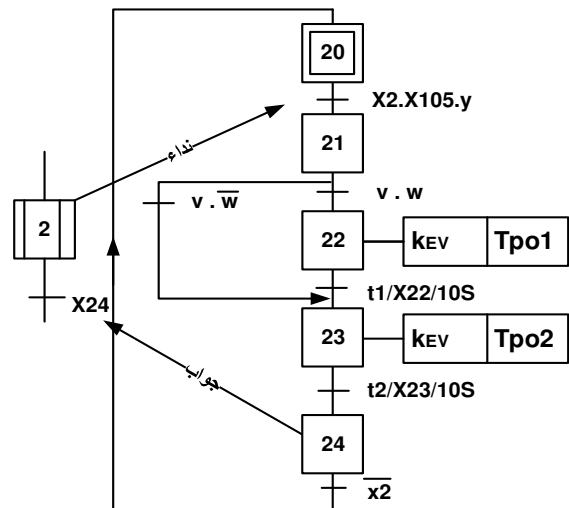
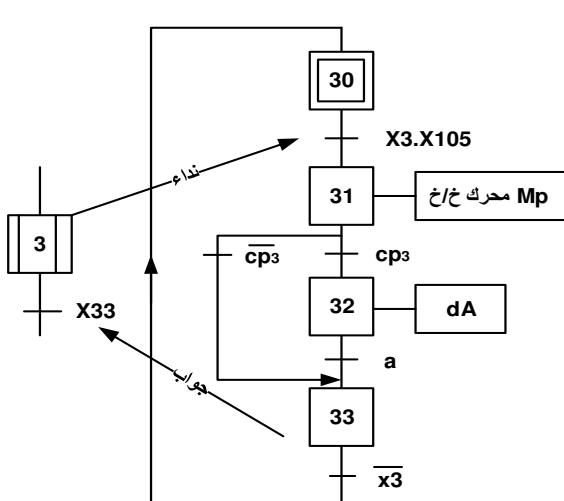


متمن الإنتاج العادي (GPN):

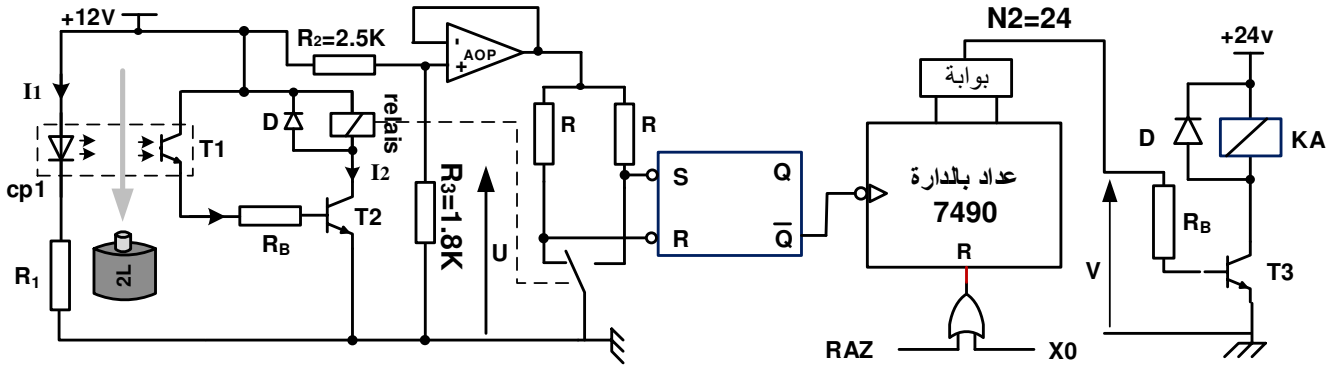


متمن الأشغولة 3 "غلق القارورة"

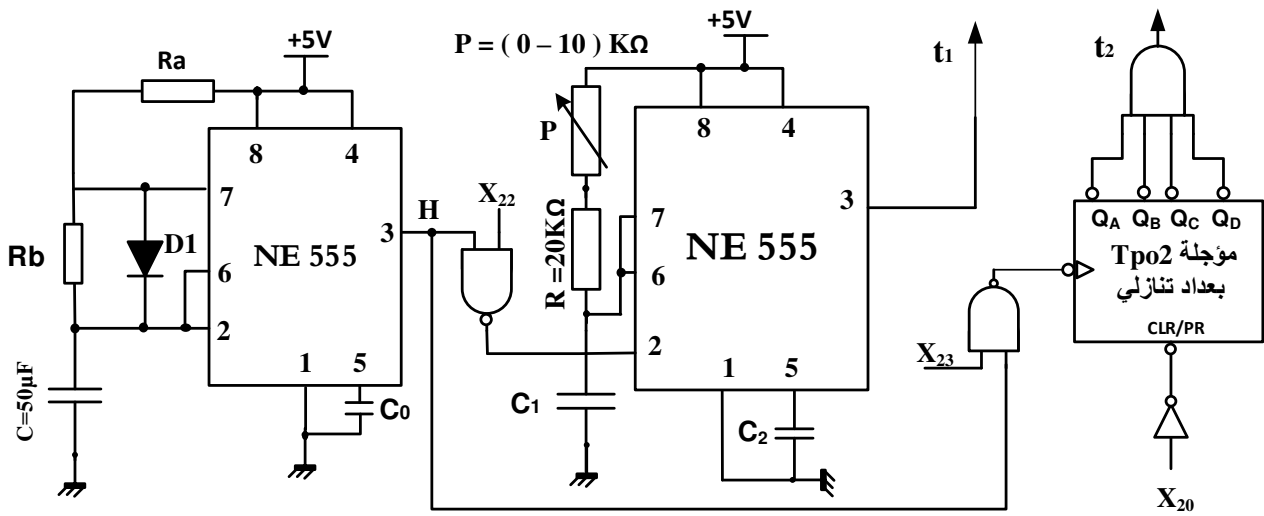
متمن الأشغولة 2 "ملء القارورة"



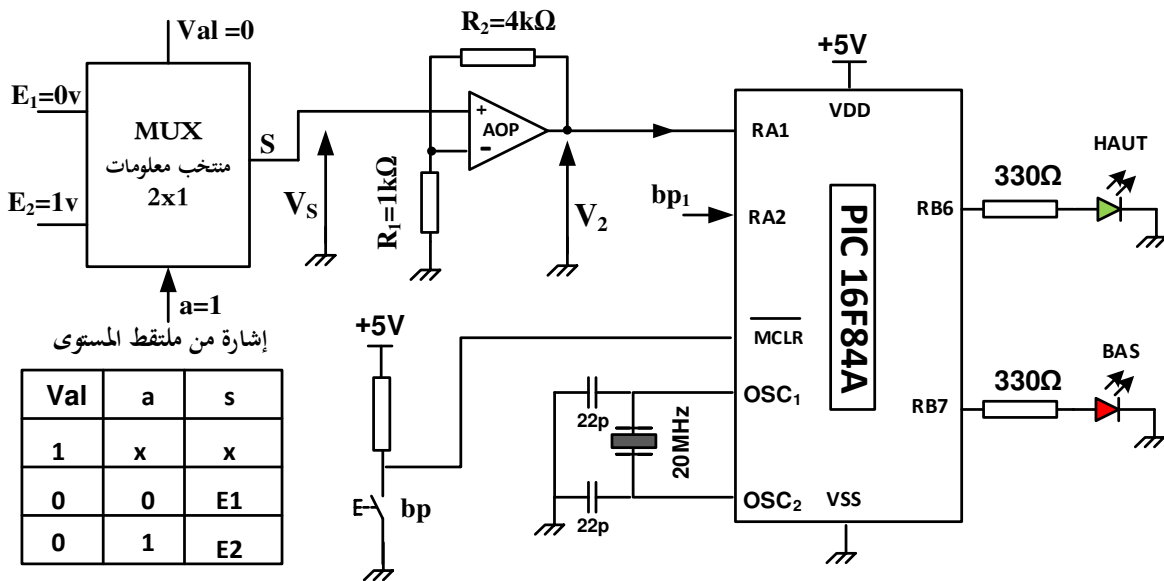
• دائرة الكشف وعد 24 قارورة بسعة 2 لتر : الشكل 01



• دائرة إشارة الساعة والمؤجلتين T_{p01} ، T_{p02} : الشكل 02



• دائرة الميكرو مراقب 16F84A : (مراقبة ملء الخزان بسائل التنظيف) : الشكل 3



11. الملاحق : سندات تقنية للعناصر الإلكترونية :

• جدول 01 : خصائص المقاحل (Transistors)

2N2222A	NPN	$V_{CEmax} = 75 \text{ V}$	$I_{Cmax} = 0.8 \text{ A}$	$P_{MAX} = 0.5 \text{ w}$	$V_{CESAT} = 0.3 \text{ V}$	$V_{BE} = 0.6 \text{ v}$
C122D	Thyristor	$V_{AKmax} = 600 \text{ V}$	$I_{max} = 5 \text{ A}$	$I_g = 30 \text{ mA}$	/	/
BD681S	Darlington	$V_{CEmax} = 100 \text{ V}$	$I_{Cmax} = 4 \text{ A}$	$P_{MAX} = 40$	/	$V_{BE} = 1.4 \text{ v}$

• جدول 1/02 : خصائص المرحلات الكهرومغناطيسية (Relais Électromagnétiques)

LDN-12F	توتر التغذية 12 v	مقاومة الوشيعة 80Ω	تيار الوشيعة 150 mA	تيار التماس 3A
A0214676	توتر التغذية 12 v	مقاومة الوشيعة 90Ω	تيار الوشيعة 133 mA	تيار التماس 10A

• جدول 2/02 : خصائص المرحلات الكهرومغناطيسية (Relais Électromagnétiques)

توتر التغذية	التيار الأقصى للتماس	مقاومة الوشيعة	الإستطاعة الإسمية
12VDC	10A	360 OHM	450mW
24VDC	10A	600 OHM	900mW
6 VDC	10A	51 OHM	900mW
48 VDC	10A	2.560 OHM	900mW

• جدول 03 : خصائص المرحلات الحرارية (Relais Thermiques)

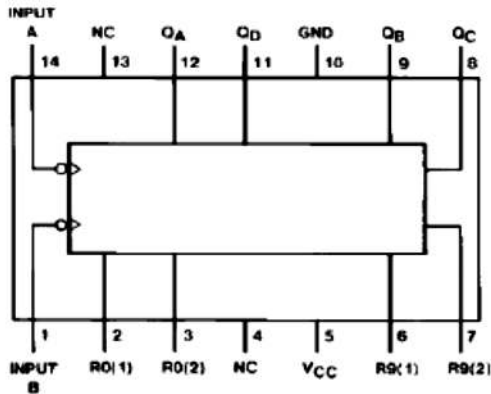
النوع 3RB2016-1SB0	تيار الضبط 3A.....12A	NO + NC	إستطاعة التبديل 5.5 kW
النوع 3RB2016-1PB0	تيار الضبط 1A..... 2A	NO + NC	إستطاعة التبديل 1.5 kW

• جدول 04 : خصائص المحولات الكهربائية (Transformateurs) المرجع

TS40/12	220v / 12v	S = 40 VA	$I_2 = ? \text{ A}$
TS40-022	220v / 9v	S = 40 VA	$I_2 = ? \text{ A}$
TSZM100-24V	220v / 24v	S = 100 VA	$I_2 = ? \text{ A}$

• جدول 05 : تشغيل الدارة المندجة : SN74LS90

Connection Diagram



Reset/Count Truth Table

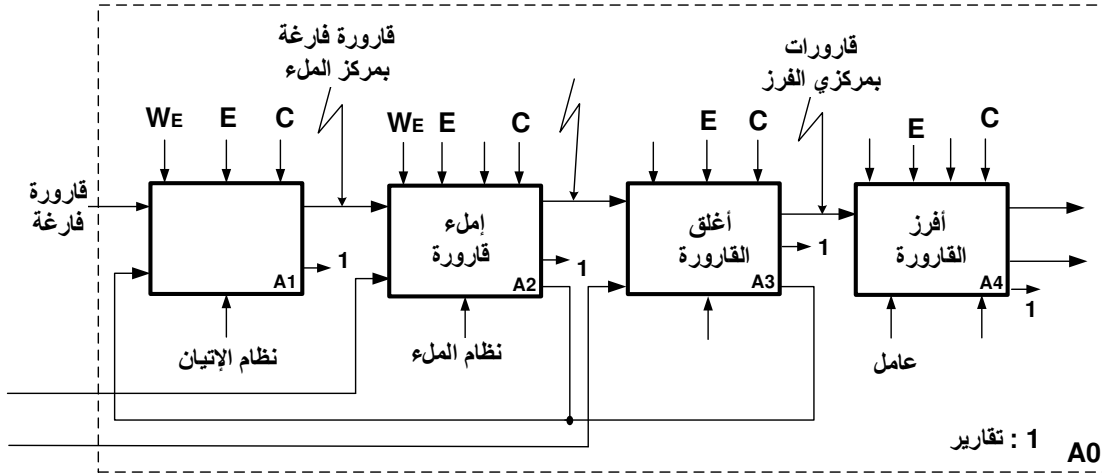
Reset Inputs				Output			
R0(1)	R0(2)	R9(1)	R9(2)	QA	QB	QC	QD
H	H	L	X	L	L	L	L
H	H	X	L	L	L	L	L
X	X	H	H	H	L	L	H
X	L	X	L	COUNT			
L	X	L	X	COUNT			
L	X	X	L	COUNT			
X	L	L	X	COUNT			

العمل المطلوب

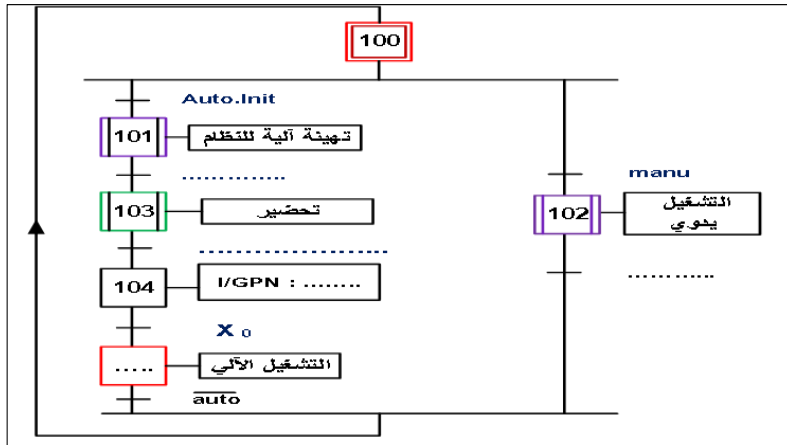
- س1: أكمل التحليل الوظيفي التنازلي (النشاطA0) على وثيقة الإجابة 1 الصفحة 10/08 .
- س2: أكمل متمن القيادة والتهيئة (GCI) على وثيقة الإجابة 1 الصفحة 10/08 .
- س3: فسر التعيينات التالية : F/GCI:(100) و I/GPN:(0)
- س4: أكمل تدرج المتامن على وثيقة الإجابة 1 الصفحة 10/08 .
- س5: أنشئ متمن الأشغولة 1 " تقديم القارورات " من وجهة نظر جزء التحكم PC .
- س6: املأ جدول معادلات التنشيط ، التخميل و المخارج للأشغولة 2 " ملء القارورة " على وثيقة الإجابة 1 الصفحة 10/08 .
- س7: أكمل ربط دائرة المعقب الكهربائي للأشغولة 2 " ملء القارورة " ، على وثيقة الإجابة 2 الصفحة 10/09 .
- دائرة الكشف وعدّ 24 قارورة بسعة 2 لتر : الشكل 01 الصفحة 10/05 . مستعينا بملاحق السندات التقنية الصفحة 12/06
- س8: املأ جدول تشغيل دائرة الكشف وعدّ 24 قارورة بسعة 2 لتر على وثيقة الإجابة 2 الصفحة 12/10 .
- س9: أحسب قيمة المقاومة R_1 لحماية الخلية cp1 التي تحمل الخصائص التالية : cp1(1.2V 15mA) .
- س10: أحسب قيمة التيار I_2 المار في وشيعة المرحل relais ، وماذا يمثل هذا التيار ؟ علما أن المقحل T_2 نوع 2N2222A .
- س11: ما هي قيمة الإستطاعة المستهلكة من طرف المقحل T_2 ؟
- س12: أحسب قيمة التوتر U المطبق على المقاومة $R_3=1.8K\Omega$ ،
- س13: أكمل رسم التصميم المنطقي لدائرة العداد بالدائرة LS 74 SN 90 لعدّ 24 قارورة على وثيقة الإجابة 2 الصفحة 10/09 .
- دائرة إشارة الساعة T والمؤجلتين Tpo1 و Tpo2 : الشكل 02 الصفحة 10/05 . يعطى ($\ln 3=1.1, \ln 2=0.7$)
- س14: ما هم دور الثنائي D1 ، ثم أحسب الدور T لإشارة الساعة H بحيث : $R_a = 10K\Omega$ $R_b = 18,6K\Omega$ $C = 50\mu F$ ،
- س15: أحسب قيمة سعة المكثفة C_1 لتحقيق زمن التأجيل $t_1=10s$ ؟
- س16: ما هي القيمة N لسعة العداد التنازلي لتحقيق زمن التأجيل $t_2=10s$ ؟ ثم أكتب المعادلة المنطقية للمخرج t_2 بدلالة المخارج Q_A Q_B Q_C Q_D
- س17: أكمل المخطط المنطقي للعداد التنازلي لتحقيق زمن التأجيل $t_2=10s$ على وثيقة الإجابة 3 الصفحة 10/10 .
- دائرة الميكرومراقب 16F84A: (مراقبة ملء الخزان بسائل التنظيف) : الشكل 03 الصفحة 10/05 .
- س18: املأ محتوى سجلات الإتجاه TRISA ، TRISB بالقيم السداسية عشرة على التوالي 1F و 00 على وثيقة الإجابة 2 الصفحة 10/09 .
- س19: املأ محتوى السجل config بالإعدادات المادية التالية : " 3FFD " config_H على وثيقة الإجابة 3 الصفحة 10/10 .
- س20: أكمل كتابة البرنامج الرئيسي على وثيقة الإجابة 3 الصفحة 10/10 .
- س21: اوجد علاقة V_2 بدلالة : V_s , R_2, R_1 ، ثم استنتج نوع المضخم العملي AOP في التركيب ؟
- ☞ مستعينا بجدول تشغيل منتخب المعلومات MUX 2x1 ، إستنتج قيمة توتر المخرج V_s ؟ (في حالة $Val = 0$)
- لما يكون الخزان مملوء ($a=1$) ؟ و لما يكون الخزان فارغ ($a=0$) ؟
- س22: أحسب قيمة توتر V_2 في الحالتين ($a=1$) و ($a=0$) ؟ ثم إستنتج الحالة المنطقية للمدخل RA1 في الحالتين السابقتين ؟
- دراسة المحرك M_2
- س23: أكمل رسم دائرة الاستطاعة للمحرك M_2 على وثيقة الإجابة 3 الصفحة 10/10 .
- س24: اختر نوع المرحل الحراري لحماية المحرك M_2 إذا كان هذا الأخير يمتص تيارا اسميا $I_N=2.5A$ ؟ علما ان تيار الضبط ($I_r = 1.17I_n$) .
- مستعينا بملاحق السندات التقنية الصفحة 10/06
- س25: فسر التعيين 5/2 للموزعات الكهروهوائية الخاصة بالرافعتين B و C ؟
- س26: مستعينا بجدول خصائص المحولات ضمن ملاحق السندات التقنية الصفحة 12 /06 ، اختر المرجع المناسب للمحول من أجل تغذية دائرة المعقب الكهربائي ثم احسب التيارات الاسمية I_{1N} , I_{2N} لهذا المحول .

الاسم واللقب: وثيقة الإجابة 1: (تعداد مع أوراق الإجابة)

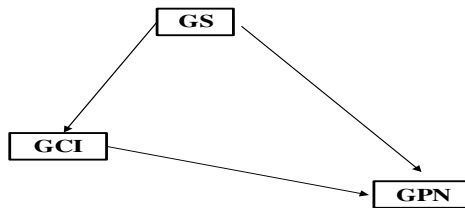
ج1/ التحليل الوظيفي التنازلي : (النشاط البياني A0)



ج2/ متمن القيادة والتهيئة GCI :



ج4/ تدرج المتامن

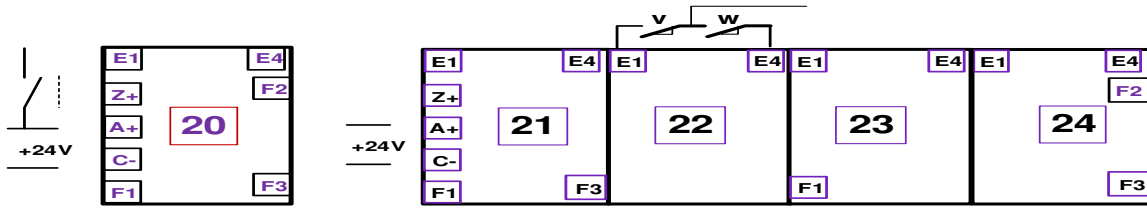


ج6 / جدول معادلات التنشيط، التخميل والمخارج للأشغولة 2 " ملء القارورة "

المراحل	التنشيط	التخميل	المخارج
X20			
X21			
X22			
X23			
X24			

الاسم واللقب: وثيقة الإجابة 2: (تعاد مع أوراق الإجابة)

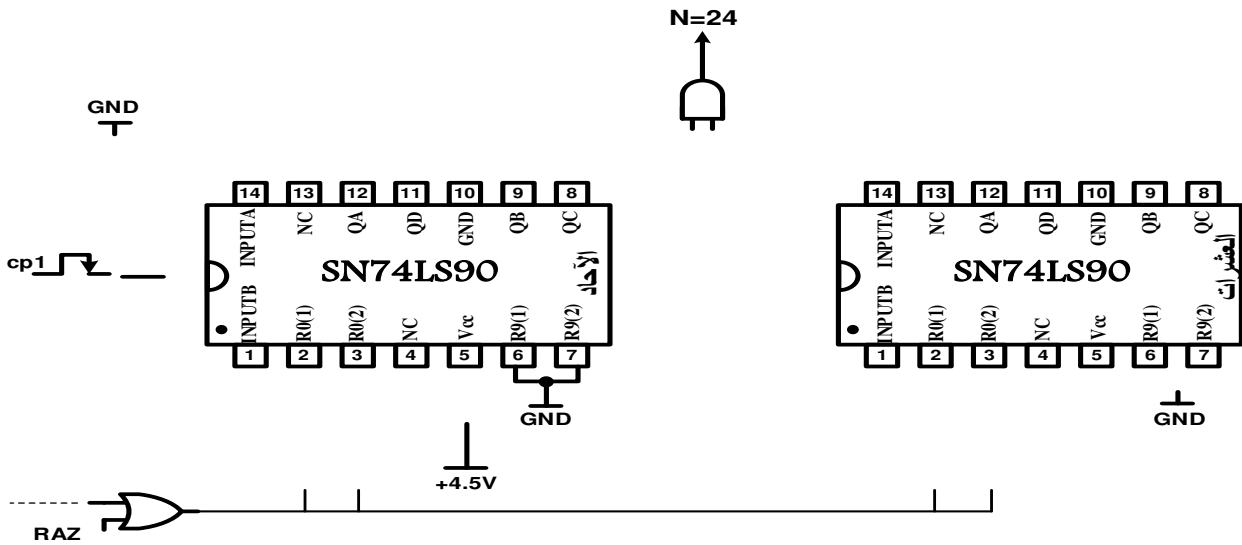
ج7/ المعقب الكهربائي للأشغولة 2 " ملء القارورة " مع دائرة تغذية المنفذات المتصدرة K_{EV} و $Tpo1$:



ج8/ جدول تشغيل دائرة الكشف وعد 24 قارورة بسعة 2 لتر:

العناصر الحزمة	حالة المقحل T_1 ل cp_1	حالة المقحل T_2	حالة Relais	قيمة المدخل R	قيمة المدخل S	قيمة المخرج \bar{Q}
حضور القارورة						
غياب القارورة						

ج13/ التصميم المنطقي لدائرة العداد بالدارة المندجة SN74LS90 لعدّ 24 قارورة



ج18/ محتوى سجلين الإتجاه TRISA ، TRISB

