

ثانوية : حجار محمد عين طارق

تاريخ : 2017/12/05

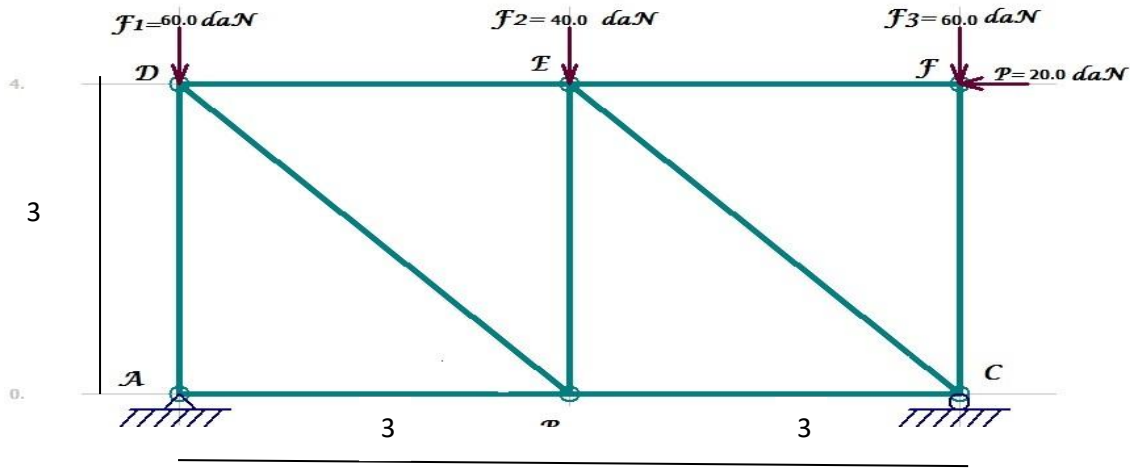
المستوى: 3 همد

مدة: 3 سا

ميكانيك

المسألة الأولى (09):

جسر معدني مكون من أنظمة مثلثيه أثر عليه عدة قوى: $F_1=60 \text{ daN}$ / $F_2=40 \text{ daN}$ / $F_3=60 \text{ daN}$ / $P=20 \text{ daN}$ معامل مرونته الطولي $E=2.1 \times 10^6 \text{ Kg/cm}^2$ مقطعه على شكل حرف I: علما أن المسند A مسند مزدوج و المسند C مسند بسيط ممثلا بالشكل الميكانيكي التالي :

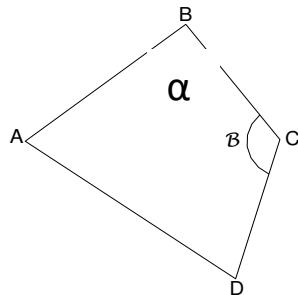


المطلوب:

1. تحقق من أن النظام محدد سكونيا. وأحسب ردود الأفعال في المسندين A و C.
2. أحسب الجهود الداخلية في القضبان.
3. لخص النتائج السابقة في جدول مع ذكر طبيعة كل تأثير.
4. علما أن القضيب AD مجنب على شكل حرف I يتأثر بجهد انضغاط $N_{AD}=90 \text{ daN}$ احسب مقطعه حيث $\sigma = 1600 \text{ Kg/cm}^2$
5. أحسب المقدار الذي يتقلص به القضيب AD.

بناء: المسألة الثانية: (06)

قامت فرقة طبوغرافية بمسح قطعة أرضية ABCD على شكل رباعي باستخدام طريقة الرصد من محطة واحدة فتحصلت على إحداثيات رؤوس المضلع المعرفة بالإحداثيات القائمة التالية:



النقاط	X(m)	Y(m)
A	236	175
B	323	243
C	374	176
D	350	95

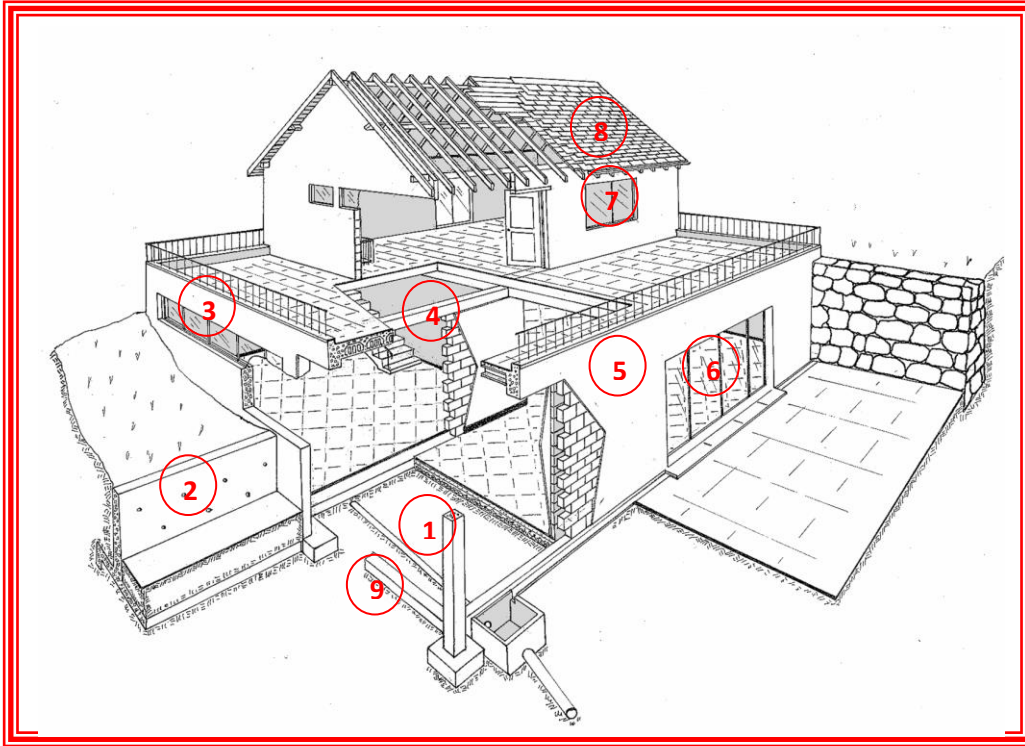
المطلوب:

1/ احسب مساحة قطعة الأرض ABCD

2/ احسب السموت الإحداثية التالية: G_{AB}, G_{BC} ، واستنتج السموت الاحداثي G_{BA}, G_{CB}

3/ احسب الزوايا α و β

المسألة الثالثة: (05ن)



- 1- اكتب العناصر المرقمة في الشكل الآتي:
- 2- عرف العنصر 1 واذكر دوره
- 3- عرف العنصر 7 واذكر عناصره

* انتهى مع تحيات أستاذ المادة *