

الجمهورية الجزائرية الديمقراطية الشعبية
وزارة التربية الوطنية
الديوان الوطني للامتحانات والمسابقات

امتحان بكالوريا التعليم الثانوي

دورة: 2024

الشعبة: تسيير واقتصاد

المدة: 03 سا و30 د

اختبار في مادة: التاريخ والجغرافيا

على المترشح أن يختار أحد الموضوعين الآتيين:

الموضوع الأول

يحتوي الموضوع على صفتين (02) (من الصفحة 1 من 5 إلى الصفحة 2 من 5)

التاريخ:

الجزء الأول: (06 نقاط):

(1) "... إن انتفاضة 8 ماي 1945 وما خلفته من مجازر رهيبية ارتكبتها الاستعمار الغاشم، قد جعلت من الشعب الجزائري يحمل بذور الثورة المسلحة، خاصة بعد أزمة حركة الانتصار للحريبات الديمقراطية... حيث قام أنصار المنظمة السرية بتكوين اللجنة الثورية للوحدة والعمل التي قزرت الخروج من النشاط السياسي والشروع في الكفاح المسلح...".
المرجع: د/ صالح فركوس. المختصر في تاريخ الجزائر.
دار العلوم للنشر والتوزيع عنابة. 2002-2003. صفحة 251، بتصرف.

المطلوب: اشرح ما تحته خط في النص.

(2) عرّف بالشخصيتين الآتيتين: - ديدوش مراد - أندري جدانوف

(3) أكمل الجدول الآتي:

التاريخ	الحدث
22 أكتوبر 1956
.....	تأسيس هيئة الأمم المتحدة

الجزء الثاني: (04 نقاط)

تعددت وسائل الصراع في أوروبا بين الولايات المتحدة الأمريكية والاتحاد السوفياتي وتوعدت، إلا أن الغاية كانت واحدة وهي سيطرة أحدهما على القارة بأكملها.

المطلوب: انطلاقا من العبارة واعتمادا على ما درست، اكتب مقالا تاريخيا تبين فيه:

(1) وسائل الصراع التي استعملتها الولايات المتحدة الأمريكية في أوروبا.

(2) انعكاسات صراع القوتين على قارة أوروبا.

اختبار في مادة: التاريخ والجغرافيا // التمهيد: تسيير والحصار // بكالوريا 2024

الجغرافيا:

الجزء الأول: (06 نقاط):

1) إن رابطة الآسيان تهدف إلى إقامة منطقة تجارة حرة بين أعضائها يتم خلالها إلغاء كافة الرسوم الجمركية وغير الجمركية على تجارتها البينية، كما تهدف إلى توثيق العلاقات مع دول أخرى... وهذا ما ينعكس على أنها تكتلات اقتصادية مفتوحة لا تقتصر فقط على دول الجنوب الآسيوي...

المرجع: رابطة دول جنوب شرق آسيا مجلة التصانيف شمال إفريقيا، العدد الستين جامعة الجزائر، صفحة 84.

المطلوب: اشرح ما تحته خط في النص.

2) إليك جدولاً يمثل تطور متوسط سعر البنزول (سلة خامات الأوبنك) من عام 2017 إلى عام 2023. الوحدة: دولار للبرميل.

السنوات	2017	2018	2019	2020	2021	2022	2023
متوسط سعر البرميل	52.4	69.8	64.0	41.5	69.9	99.9	83.0

المصدر: منظمة الأقطار العربية المصدرة للبترول (أوبك) (OAEPEC) تقرير الإحصائي السنوي 2023، صفحة 59.

المطلوب:

(أ) مثل المعطيات الإحصائية الواردة في الجدول بمنحنى بياني بعقايين رسم:

- 1 سم لكل 10 دولار للبرميل.
- 1 سم لكل سنة.

(ب) علق على الرسم البياني.

الجزء الثاني: (04 نقاط)

إلى جانب الدور الذي يلعبه اقتصاد الجزائر في الاقتصاد العالمي من خلال المبادلات التجارية، تسعى الجزائر في الألفية الجديدة إلى زيادة هذا الدور من خلال تنويع صادراتها خارج المحروقات، وتنويع شركائها التجاريين عبر العالم.

المطلوب: انطلاقاً من العبارة واعتماداً على ما درست، اكتب مقالا جغرافيا تبين فيه:

(1) طبيعة المبادلات التجارية للجزائر.

(2) انعكاسات تنويع الصادرات خارج المحروقات على الاقتصاد الجزائري.

اتمهي الموضوع الأول.

الموضوع الثاني

يحتوي الموضوع على (03) صفحات (من الصفحة 3 من 5 إلى الصفحة 5 من 5)

التاريخ:

الجزء الأول: (06 نقاط)

(1) "... أتت الحرب الباردة إلى توسيع نطاق الخلاف بين الأتحاد السوفياتي والولايات المتحدة الأمريكية... ولأن الأتحاد السوفياتي وُلد لديه إحساس بأنه أصبح معزولا لا سيما بعد تبني الولايات المتحدة الأمريكية لسياسة الاحتواء ولأنه لا يستطيع أن يدافع عن مصالحه، لذلك أصبح حق النقض سلاحه الوحيد... إذ كان الأتحاد السوفياتي هو الأكثر استخداما للفييتو بالمقارنة مع الدول الدائمة الأخرى في مجلس الأمن الدولي..."

المرجع: د/ إباد طارق العلواني. سياسة الأتحاد السوفياتي الخارجية. 1964/1956. دراسة تاريخية.

الطبعة الأولى. عام 2016. دار سرمد للنشر. العراق. صفحة 32/33.

المطلوب: اشرح ما تحته خط في النص.

(2) اذكر من كل قارة دولة واحدة لعبت دورا بارزا في حركة عدم الانحياز حسب الجدول أدناه.

القارة	أوروبا	إفريقيا	آسيا	أمريكا اللاتينية
الدولة

(3) عرّف بالشخصيتين الآتيتين:

-ميخائيل غورباتشوف

-أحمد مصالي الحاج

الجزء الثاني: (04 نقاط)

بعد مجازر 8 ماي 1945، تأكد للشعب الجزائري بما لا يدع مجالا للشك أن النضال السياسي لا يكفي وحده لاسترجاع السيادة الوطنية ما لم يُقترن بالكفاح المسلح، ولأن الظروف الدولية كانت مواتية، اندلعت الثورة التحريرية المسلحة في الفاتح من نوفمبر 1954.

المطلوب: انطلاقا من العبارة واعتمادا على ما درست، اكتب مقالا تاريخيا تبين فيه:

(1) علاقة مجازر 8 ماي 1945 باندلاع الثورة التحريرية المسلحة.

(2) الظروف الدولية التي ساعدت على اندلاعها.

الجغرافيا:

الجزء الأول: (06 نقاط)

1) "... يعتبر الاستثمار أحد أهم الزكائن التي تعتمد عليها الدول في التنمية الاقتصادية... وذلك لما تحقّقه من أهداف استراتيجية تضمن استقرار الدول وتطورها، حيث تساهم في الحدّ من البطالة، تلبية حاجيات ورغبات المواطن، الرفع من مستوى المعيشة، تحقيق توازن في ميزان المدفوعات والميزان التجاري..."

المرجع: مجلّة العلوم الإدارية والمالية. المجلد 06. العدد 02. عام 2022. صفحة 215.

المطلوب: اشرح ما تحته خط في النص.

2) على خريطة أوروبا المرفقة، وقع ثلاث (03) دول عضوة في الاتحاد الأوروبي تطلّ على الواجهة البحرية الشمالية.

3) إليك جدولاً يمثل تطور قيمة الصادرات والواردات والميزان التجاري للجزائر من عام 2018 إلى عام 2022. الوحدة: مليار دولار.

السنوات	2018	2019	2020	2021	2022
قيمة الصادرات	41.15	35.32	21.93	38.64	65.53
قيمة الواردات	48.28	44.32	35.42	37.40	38.75
قيمة الميزان التجاري	-7.13	-9.0	-13.49	+1.24	26.78

المصدر: بنك الجزائر. التقرير السنوي. سبتمبر 2023. صفحة 86.

المطلوب: علّق على المعطيات الإحصائية الواردة في الجدول.

الجزء الثاني: (04 نقاط)

لأهمية القمح الاستراتيجية في الاقتصاد العالمي، تعمل دول عالم الجنوب على تجاوز عجزها الغذائي بالرفع من إنتاجها للقمح، بينما تعمل دول عالم الشمال على التحكم في تجارته في الأسواق العالمية.

المطلوب: انطلاقاً من العبارة واعتماداً على ما درست، اكتب مقالا جغرافياً تبين فيه:

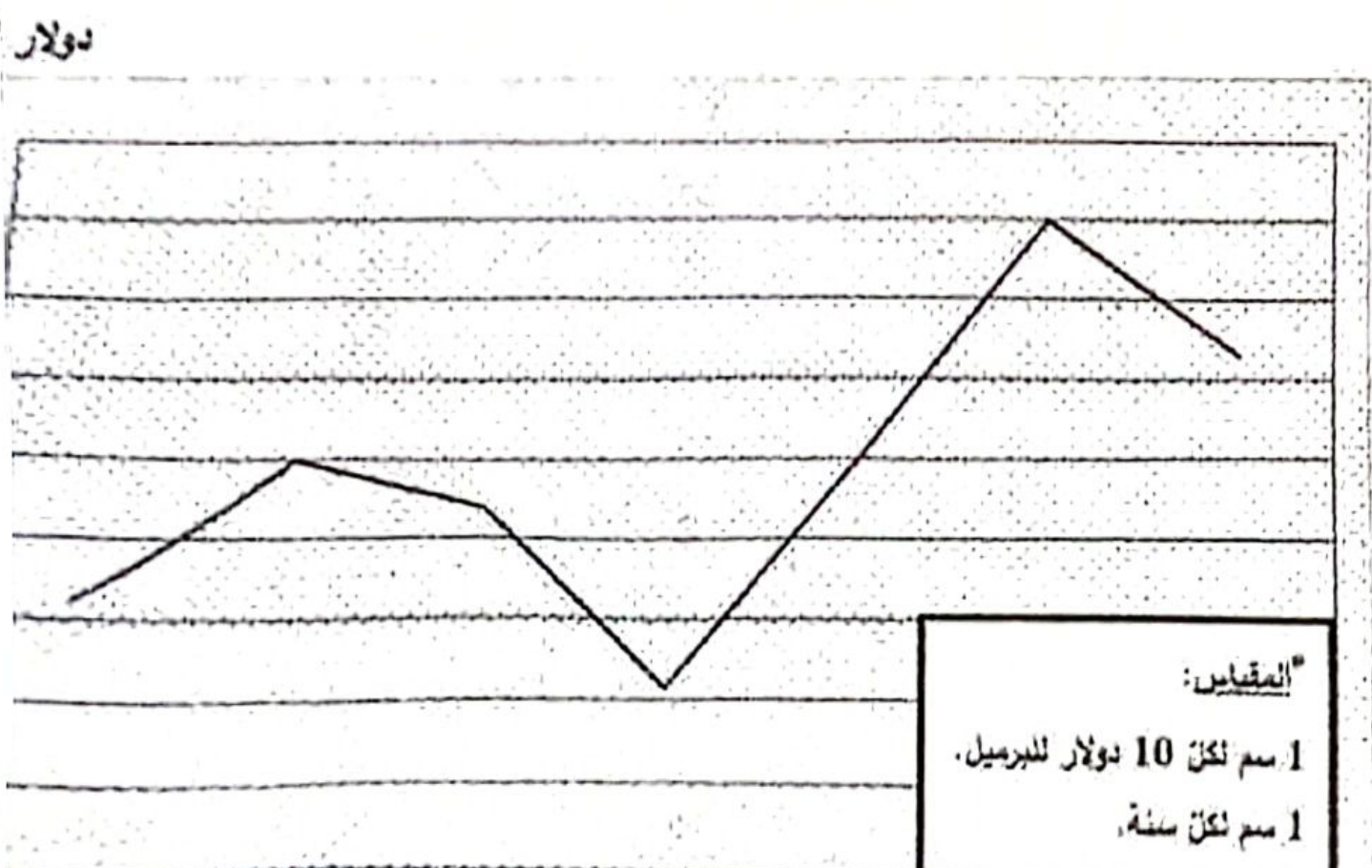
1) عوامل ضعف إنتاج القمح في عالم الجنوب.

2) انعكاسات تحكّم عالم الشمال في تجارته على عالم الجنوب.

العلامة		موضوع	عناصر الإجابة: الموضوع الأول.						
مجموع	مجزأة								
			<p><u>التاريخ:</u> <u>الجزء الأول:</u></p> <p>(1) <u>شرح ما تحته خط في النص:</u></p> <p>• <u>انتفاضة 8 ماي 1945:</u> خروج الشعب الجزائري في 8 ماي 1945 في مظاهرات في عدة مدن جزائرية للتعبير عن فرحته بانتهاء الحرب العالمية الثانية والاحتمال بانتصار الحلفاء مطالبين فرنسا بالوفاء بوعودها، فقابلها الاستعمار الفرنسي بوحشية ارتكب فيها مجازر رهيبة راح ضحيتها 45 ألف شهيد جزائري وهي جريمة ضد الإنسانية.</p> <p>• <u>أزمة حركة الاتصال للحريات الديمقراطية:</u> الخلاف الذي وقع بين أنصار مصالي الحاج وأعضاء اللجنة المركزية انعجرت على إثر اجتماع 4-6 أفريل 1953 حول تسيير وقيادة الحزب، وأدى إلى انقسامه إلى تيارين: المصاليون والمركزيون.</p> <p>(2) <u>التعريف بالشخصيات:</u></p> <p>• <u>بيدوش مراد:</u> أحد قادة ومفجري الثورة الجزائرية، عضو في حركة الانتصار للحريات الديمقراطية والمنظمة الخاصة واللجنة الثورية للوحدة والعمل ومجموعة 22 ولجنة 06، عُين قائدا للمنطقة الثانية (الشمال القسنطيني)، استشهد عام 1955...</p> <p>• <u>أندري جدانوف:</u> سياسي سوفياتي، أحد قادة الحزب الشيوعي، صاحب مبدأ جدانوف عام 1947 الذي يقسم العالم إلى قسمين متصارعين، ومؤسس مكتب أو جهاز الكومنفرم عام 1947...</p> <p>(3) <u>إكمال الجدول:</u></p> <table border="1" data-bbox="491 1205 1252 1444"> <thead> <tr> <th>التاريخ</th> <th>الحدث</th> </tr> </thead> <tbody> <tr> <td>22 أكتوبر 1956</td> <td>القرصنة الجوية التي استهدفت أعضاء الوفد الخارجي ل ج ت و</td> </tr> <tr> <td>24 أكتوبر 1945</td> <td>تأسيس هيئة الأمم المتحدة</td> </tr> </tbody> </table> <p><u>الجزء الثاني:</u></p> <p>0.50 <u>مقدمة:</u> أوروبا بين صراع القطبين وانعكاساته عليها. (تقبل كل مقدمة وظيفية)</p> <p>(1) <u>وسائل الصراع التي استعملتها الولايات المتحدة الأمريكية في أوروبا:</u> (تقبل الإجابة المصنفة).</p> <p>0.25 • إنشاء الحلف الأطلسي 4/4/1949، مقره بروكسل (بلجيكا).</p> <p>0.25 • نشر القواعد العسكرية في دول أوروبا الغربية</p> <p>0.25 • طرح مبدأ ترومان عام 1947 لمنع الزحف الشيوعي في اليونان وتركيا.</p> <p>0.25 • دعم الأنظمة الرأسمالية في أوروبا.</p> <p>0.50 • طرح مشروع مارشال عام 1947/6/5.</p> <p>(تقبل كل الإجابات الصحيحة الأخرى)</p>	التاريخ	الحدث	22 أكتوبر 1956	القرصنة الجوية التي استهدفت أعضاء الوفد الخارجي ل ج ت و	24 أكتوبر 1945	تأسيس هيئة الأمم المتحدة
التاريخ	الحدث								
22 أكتوبر 1956	القرصنة الجوية التي استهدفت أعضاء الوفد الخارجي ل ج ت و								
24 أكتوبر 1945	تأسيس هيئة الأمم المتحدة								

الدرجة المطلوبة	المطلوب
0.50	<p>طبيعة إستراتيجية التنوع في الصادرات التجارية الجزائرية .</p> <p>(1) طبيعة الصادرات التجارية الجزائرية</p> <p>(أ) طبيعة الصادرات: الاضمار شبه الكلي على المعروقات التي تحالب الأسمدة، التمور، الأسماك، المعادن...</p> <p>(ب) طبيعة الواردات: معتمدا مواد استهلاكية مصنعة ونصف مصنعة ومنتجات زراعية ومواد غذائية...</p>
0.75	<p>(2) انعكاسات تنوع الصادرات خارج المعروقات على الاقتصاد الجزائري:</p> <ul style="list-style-type: none"> • الرفع في الناتج الوطني الخام. • التخفيض التدريجي من الاعتماد على مصدر واحد للأجل الوطني. • التخفيف من تقلبات أسعار المعروقات على الناتج الوطني الخام. • توفير مناسب الشغل في مختلف القطاعات من خلال تنوع الاستثمارات. • زيادة المدفوعات وتوزيعها داخل السوق الوطنية وتحسين القدرة الشرائية. • تحقيق التوازن في الميزان التجاري وميزان المدفوعات.
0.75	
0.25	<p>التدخل من التنوع</p> <p>تنوع الصادرات</p> <p>الاقتصاد وتنوع الصادرات</p> <p>الخارجية</p>
0.25	
0.50	<p>خاصية: تنفيذ اقتصاد متوازن لا يذ من تنوع مصادر الدخل.</p> <p>(تقبل كل خاتمة وطلبية)</p> <p>(تقبل كل الإجابات الصحيحة الأخرى)</p>

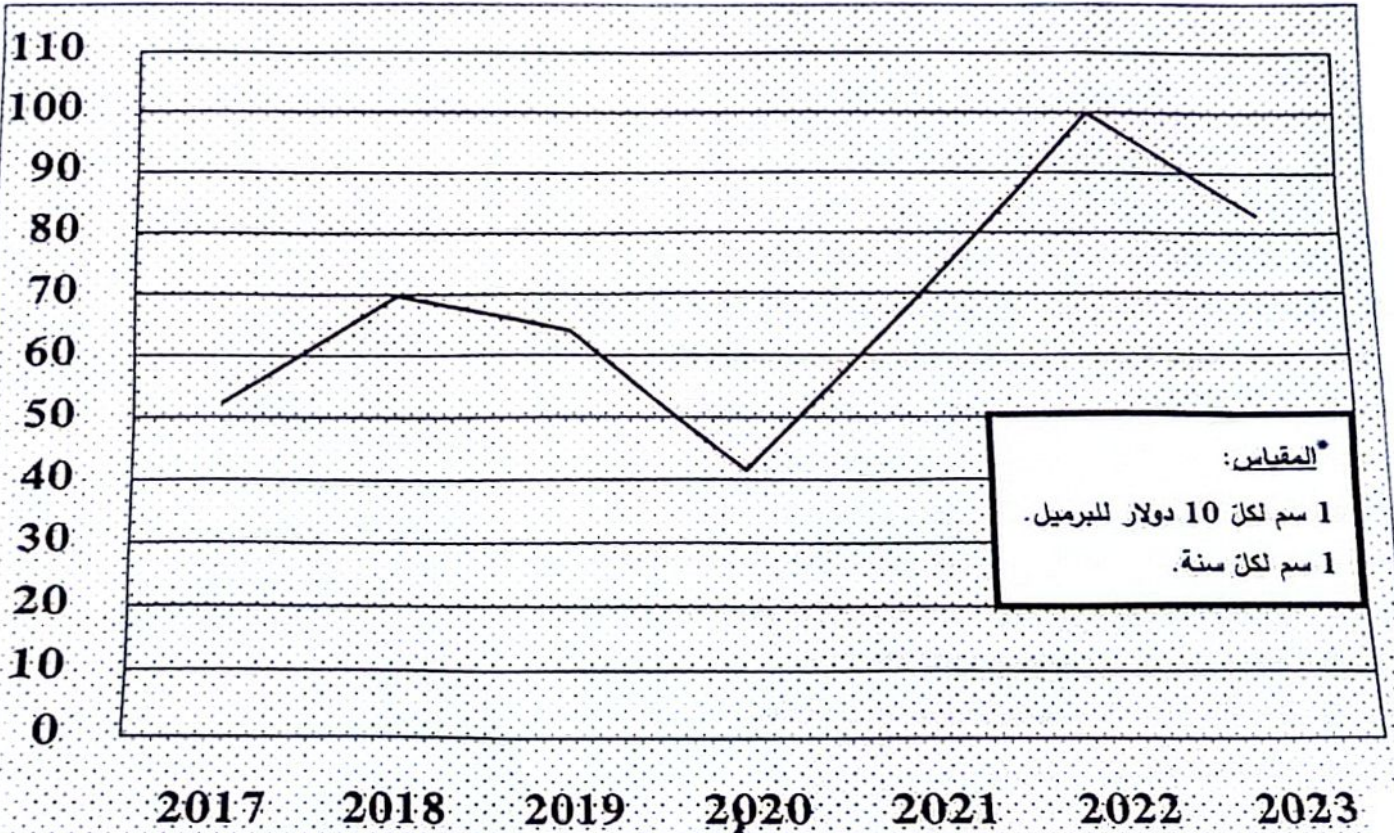
متحني بياني يمثل تطور متوسط سعر البترول (سنة خامات الأوبك) من عام 2017 إلى عام 2023



		الجزء الثاني:
04	0.50	مقدمة: إشكالية التنوع في المبادلات التجارية الجزائرية . 1) طبيعة المبادلات التجارية للجزائر: (تقبل كل مقدمة وظيفية)
	0.75	أ) طبيعة الصادرات: الاعتماد شبه الكلي على المحروقات إلى جانب الأسمدة، الثمور، الاسمنت، المعادن....
	0.75	ب) طبيعة الواردات: معظمها مواد استهلاكية مصنعة ونصف مصنعة ومنتجات زراعية ومواد غذائية... 2) انعكاسات تنوع الصادرات خارج المحروقات على الاقتصاد الجزائري:
	0.25	• الرفع في الناتج الوطني الخام. • التخلس التدريجي من الاعتماد على مصدر وحيد للنخل الوطني.
	6 ×	• تخفيف من تقلبات أسعار المحروقات على الناتج الوطني الخام. • توفير مناصب الشغل في مختلف القطاعات من خلال تنوع الاستثمارات. • زيادة المنتوجات وتنوعها داخل السوق الوطنية وتحسين القدرة الشرائية. • تحقيق التوازن في الميزان التجاري وميزان المدفوعات.
	0.50	خاتمة: لتحقيق اقتصاد متوازن لابد من تنوع مصادر النخل. (تقبل كل خاتمة وظيفية) (تقبل كل الإجابات الصحيحة الأخرى)

منحنى بياني يمثل تطوّر متوسط سعر البترول (سنة خامات الأوبك) من عام 2017 إلى عام 2023

دولار للبرميل



نوات

عناصر الإجابة: (الموضوع الثاني)

التاريخ: الجزء الأول:

(1) شرح ما تحته خط في النص:

01 • سياسة الاحتواء: سياسة تبنتها الولايات المتحدة الأمريكية خلال الحرب الباردة، تقوم على إنشاء سلسلة من الأحلاف والتواعد العسكرية، والمشاريع الاقتصادية، بهدف تطويق وعزل الاتحاد السوفياتي ومنع انتشار نفوذه في العالم...

01 • مجلس الأمن الدولي: أحد أجهزة منظمة الأمم المتحدة وأهمها، يتكون من 15 عضو، 10 غير دائمين و05 دائمين يمتلكون حق الفيتو، من أهدافه صيانة السلم والأمن الدوليين...

(2) ذكر أهم الدول التي لعبت دورا بارزا في حركة عدم الانحياز حسب القارات: (ملاحظة: يمكن ذكر دول أخرى).

القارات	آسيا	إفريقيا	أوروبا	أمريكا اللاتينية
الدول	الهند	الجزائر	يوغسلافيا	كوبا

(3) التعريف بالشخصيات:

01 • أحمد مصالي الحاج: شخصية وطنية جزائرية، زعيم التيار الاستقلالي، مؤسس نجم شمال إفريقيا عام 1926، وحزب الشعب الجزائري عام 1937، وحركة الانتصار للحريات الديمقراطية عام 1946، اعتقل ونفي ووضع تحت الإقامة الجبرية عدة مرات، يلقب بأب الحركة الوطنية الجزائرية...

01 • ميخائيل غورباتشوف: آخر رئيس للاتحاد السوفياتي (1985/1991)، صاحب الإصلاحات المعروفة ب: البيروسترويكا والglasnost، حضر مع الرئيس الأمريكي جورج بوش (الأب) قمة مالطا عام 1989 التي أعلن فيها عن نهاية الحرب الباردة، وفي عهده تفكك الاتحاد السوفياتي...

الجزء الثاني:

0.50 مقدمة: تأثير مجازر 1945/5/8 والظروف الدولية على اندلاع الثورة. (تقبل كل مقدمة وظيفية).

(1) علاقة مجازر 8 ماي 1945 باندلاع الثورة التحريرية المسلحة:

• أكدت للشعب الجزائري عمق النضال السياسي وحتمية العمل المسلح.

• تأسيس المنظمة الخاصة 15-16/02/1947 للتحضير للثورة.

• نشاط المنظمة الخاصة (تجنيد أكثر من 2000 مناضل، جمع الأموال، الأسلحة...).

• اكتشاف المنظمة الخاصة عام 1950 الذي عزز موقف الاتجاه الثوري.

• انشاء اللجنة الثورية للوحدة والعمل 23/03/1954.

• اجتماع مجموعة 22 وتشكل لجنة الست لتفجير الثورة.

(2) الظروف الدولية التي ساعدت على اندلاعها:

• انتشار موجة التحرر عبر العالم واستقلال بعض الدول (سوريا ولبنان 1946 ومصر 1952...).

• اندلاع الثورة في كل تونس والمغرب عامي 1952 و 1953 على التوالي.

• انهزام فرنسا في معركة ديان بيان فو (فيتنام) 1954.

• تكريس مبدأ حق الشعوب في تقرير مصيرها انطلاقا من المواثيق الدولية.

• الانفراج الدولي الذي طبع العلاقات الدولية.

• دعم المعسكر الشرقي لحركات التحرر في العالم.

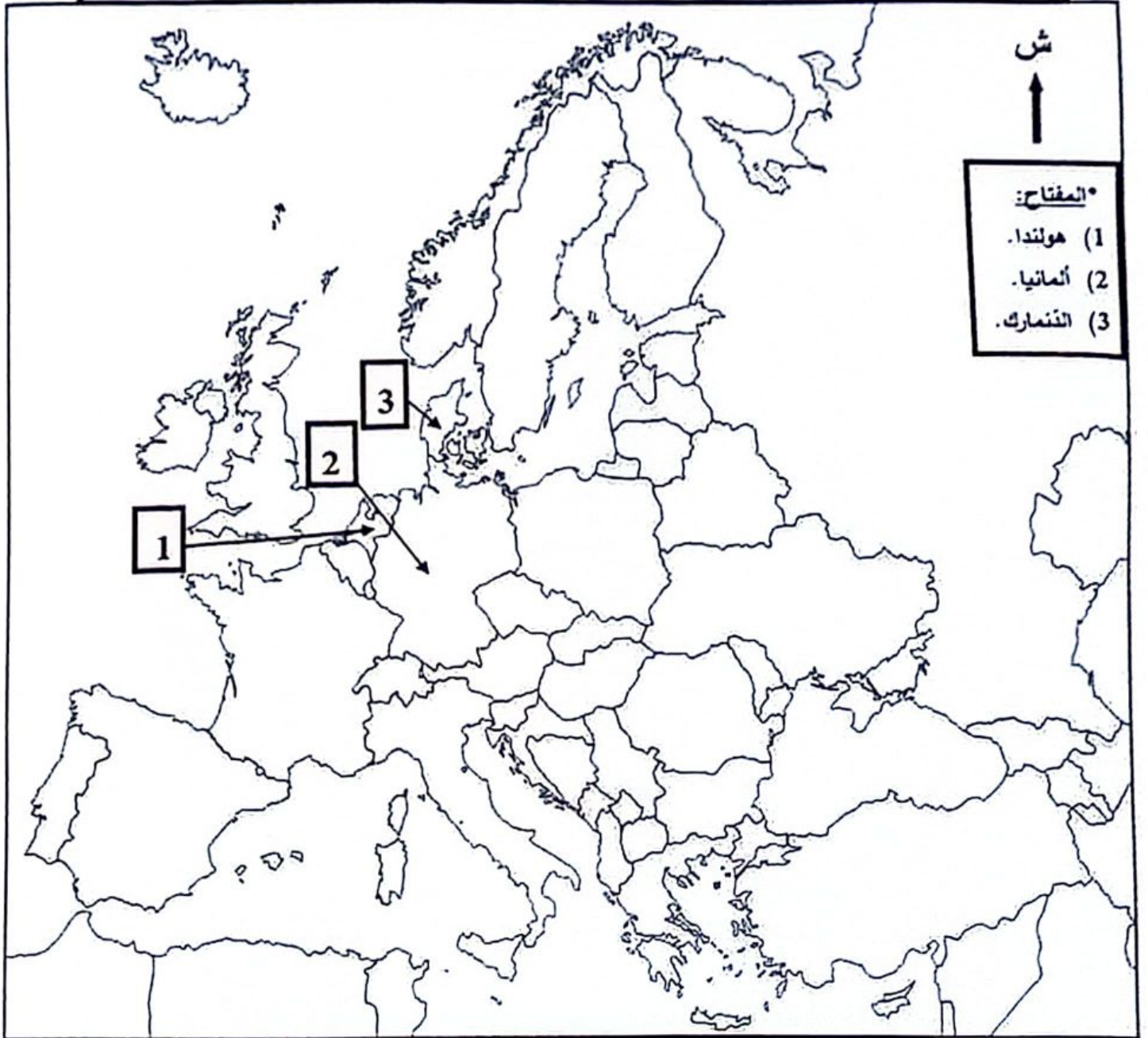
0.50 خاتمة: أعطت مجازر 1945/5/8 دفعا قويا للعمل الثوري في ظل الظروف الدولية آنذاك. (تقبل كل خاتمة وظيفية)

		الجغرافيا:
		الجزء الأول:
		(1) شرح ما تحته خط في النص:
01		• <u>تبعية</u> : حالة عدم توافر العمل لشخص راجع في مهنة تتفق مع استعداده وقدراته وذلك نظرا لحالة سوق العمل.
01		• <u>الميزان التجاري</u> : الفرق بين القيمة النقدية للصادرات والقيمة النقدية للواردات لدولة ما خلال سنة واحدة ويحتمل ثلاث حالات (فائض، عاجز، متوازن).
02		(2) <u>التوقع على الخريطة</u> : العنوان : 0.25 * المفتاح : 0.25 * الإنجاز : 3 × 0.50
		(3) <u>التعليق على المعطيات الإحصائية الواردة في الجدول</u> :
06	0.50	• <u>التفسير</u> : الوثيقة جغرافية اقتصادية تمثل جدول احصائي لتطور قيمة الصادرات والواردات والميزان التجاري للجزائر من عام 2018 إلى عام 2022، مصدره بنك الجزائر، التقرير السنوي عام 2023.
	0.25	• <u>التحليل</u> : تبين بين قيمة الصادرات وقيمة الواردات وقيمة الميزان التجاري.
	0.25	• بالنسبة للصادرات: نسجل مرحلتين:
	0.25	2018-2020 تلاحظ انخفاض قيمة الصادرات بحوالي 50% -تداعيات جائحة كورونا - 2021-2022 ارتفاع أكثر من 40% بداية انتعاش الاقتصاد العالمي.
	0.50	• بالنسبة للواردات: نسجل مرحلتين:
	0.50	2018-2020 تلاحظ انخفاض قيمة الواردات بحوالي 25% -تداعيات جائحة كورونا - 2021-2022 ارتفاع طفيف في قيمة الواردات. سياسة الدولة المتمثلة في التخفيض من فاتورة.
		الواردات
	0.50	• بالنسبة للميزان التجاري شهد عجزا ما بين 2018 و2021 وفائضا سنة 2022
	0.50	• <u>الاستنتاج</u> : ضرورة تنويع الصادرات خارج المحروقات وترشيد الواردات لتحقيق فائض في الميزان التجاري.
		الجزء الثاني:
	0.50	<u>مقدمة</u> : عالم الجنوب بين ضعف إنتاج القمح وتحكم عالم الشمال في تجارته. (تقبل كل مقدمة وظيفية)
		(1) <u>عوامل ضعف إنتاج القمح في عالم الجنوب</u> :
	0.25	• عدم استغلال الكثير من بلدان عالم الجنوب لإمكاناتها الطبيعية والبشرية.
	0.25	• وقوع العديد من بلدانه في المنطقة الحارة (عدم ملاءمة المناخ لزراعة القمح).
	6 ×	• غياب سياسة زراعية واضحة في العديد من بلدانه.
	0.25	• ضعف استعمال المكننة والبحث العلمي والتكنولوجيا.
	6 ×	• ضعف الاستثمار في القطاع الزراعي .
	0.25	• تعرض العديد من بلدانه لحوادث طبيعية (فيضانات، تصحر، جفاف...).
		(2) <u>انعكاسات تحكم عالم الشمال في تجارته على عالم الجنوب</u> :
	0.25	• ارتفاع أسعاره في الأسواق العالمية يؤدي إلى ارتفاع فاتورة الاستيراد من سنة لأخرى.
	6 ×	• وقوع العديد من بلدانه في المديونية.
		• غياب الأمن الغذائي في معظم بلدانه.
		• انتشار سوء التغذية والمجاعة في العديد من بلدانه.
		• تعرض بلدانه لاضطرابات داخلية (حروب أهلية...).

0.50

• تعرض بلدانه للشكل الخارجي في شؤونها الداخلية.
خاتمة: وفي الفصح مادة استنتاجية يستوجب توفرها. (تقبل كل خاتمة وظيفية) (تقبل كل الإجابات الصحيحة الأخرى
الخريطة تابعة للموضوع الثاني (جغرافيا) خريطة أوروبا

انتوقع على خريطة أوروبا ثلاث (03) دول عضوة في الاتحاد الأوروبي تطل على الواجهة البحرية الشمالية.



ينجز العمل المطلوب على الخريطة وتعاد مع أوراق الإجابة

ملاحظة: تقبل كل الدول الأخرى العضوة في الاتحاد الأوروبي تطل على الواجهة البحرية الشمالية.