



الجمهورية الجزائرية الديمقراطية الشعبية
وزارة التربية الوطنية

الديوان الوطني للامتحانات والمسابقات

امتحان بكالوريا التعليم الثانوي دورة 2025

الشعبة: علوم تجريبية

المدة: 03 سا و 30 د

اختبار في مادة: العلوم الفيزيائية

على المترشح أن يختار أحد الموضوعين الآتيين:

الموضوع الأول

يحتوي الموضوع على (04) صفحات (من الصفحة 1 من 8 إلى الصفحة 4 من 8)

الجزء الأول: (13 نقطة)

التمرين الأول: (06 نقاط)



لعبة تاكورث

تاكورث.. لعبة تقليدية ترفيهية في قرى الجزائر

يُختلَف في قرى شمال الجزائر (الأطلس البليدي) بحلول فصل الربيع بلعبة "تاكورث" التي تجمع بين رياضتي الهوكي على العشب والكريكت. وتُستخدم هذه اللعبة أيضا كوسيلة لحل النزاعات بين سكان القرى، حيث يصبح الترفيه فرصة للاجتماع وحل المشاكل بين الناس.

تُلعَب تاكورث باستخدام "أمجفاف"، وهي كلمة أمازيغية تشير إلى العصا الخشبية. أما العنصر الآخر في هذه اللعبة فهو كرة مصنوعة من ألياف شجرة الخلنج. يهدف هذا التمرين إلى دراسة حركة مركز عطالة الكرة وتسجيل الهدف.
معطيات:

◀ يُهمل تأثير الهواء؛

◀ كتلة الكرة: $m = 200g$.

أولا: دراسة حركة مركز عطالة الكرة (مرحلة الصعود)

يُذَفُّ اللاعب الكرة بيده شاقوليا نحو الأعلى بسرعة ابتدائية \vec{v}_0 في اللحظة $t = 0$ من النقطة O مبدأ المعلم $(O; \vec{z})$ الموجّه نحو الأعلى. تقع النقطة O على ارتفاع معين من سطح الأرض.

مُكِّنَت الدراسة التحليلية للتصوير المتعاقب لحركة مركز عطالة الكرة (الشكل 1) من الحصول على المنحنى البياني لتطور سرعة مركز عطالة الكرة بدلالة الزمن (الشكل 2).

1. اكتب نص القانون الثاني لنيوتن.

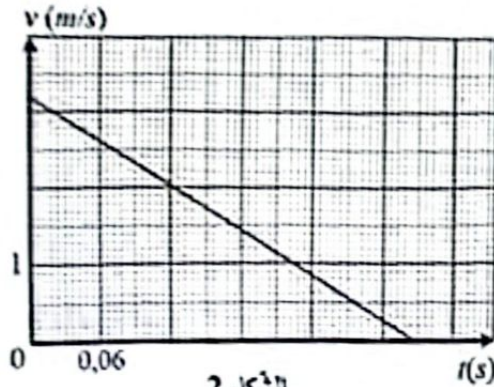
2. جد عبارة تسارع مركز عطالة الكرة وذلك بتطبيق القانون الثاني لنيوتن.



الشكل 1



اختبار في مادة: العلوم الفيزيائية / الشعبة: علوم تجريبية / بكالوريا 2025



الشكل 2

3. باستغلال المنحنى البياني $v = f(t)$:

1.3. استنتج طبيعة حركة مركز عطالة الكرة واحسب القيمة التجريبية a لتسارعه.

2.3. بين أن تسارع حقل الجاذبية الأرضية $g \approx 10 \text{ m} \cdot \text{s}^{-2}$.

3.3. استخرج قيمة كل من v_0 المتربة الابتدائية و t_s لحظة وصول مركز عطالة الكرة لأقصى ارتفاع.

4.3. جد قيمة سرعة مركز عطالة الكرة في اللحظة $t = 0,12 \text{ s}$ ثم

مثل شعاعي سرعة وتسارع مركز عطالة الكرة في نفس اللحظة $t = 0,12 \text{ s}$ باستخدام مُلم رسم مناسب.

5.3. احسب h قيمة أقصى ارتفاع يبلغه مركز عطالة الكرة عن نقطة القذف O .

ثانيا: تسجيل الهدف

عند رجوع الكرة إلى النقطة O ، يضربها اللاعب بالأمجفان وبعد سقوطها على سطح ميدان اللعب، يضرب بعض اللاعبين عصي بعضهم بعضا والكرة معا فتطير الكرة في الهواء فيلتقطها أحد اللاعبين مسجلا هدفا (نقطة).

الطاقة الكامنة الثقالية للجملة (كرة + أرض) عند التقاط أحد اللاعبين الكرة مسجلا الهدف تساوي $E_{pp} = 3,6 \text{ J}$ بالنسبة إلى مستوى مرجعي (سطح الأرض). احسب h قيمة ارتفاع نقطة التقاط اللاعب للكرة بالنسبة لسطح الأرض.

التمرين الثاني: (07 نقاط)

أطلقت يوم الثلاثاء 27 ديسمبر 2022 بولاية الجلفة عملية نموذجية لإحصاء المساحات المزروعة بالحبوب باستخدام الدرون (طائرة بدون طيار) ضمن مسمى مراقبة ومتابعة الشعب الاستراتيجية باستعمال التكنولوجيات الحديثة ...



طائرة الدرون

عن وكالة الأنباء الجزائرية

تعتبر المكثفات من أهم المكونات الأساسية في تصميم وتشغيل الدرون، حيث تستخدم في عدة تطبيقات داخل النظام الإلكتروني للطائرة لتحسين الأداء وضمان الاستقرار وتوفير الطاقة اللحظية عند وجود متطلبات طاقة فجائية ... يهدف التمرين إلى إيجاد سعة المكثفة المستخدمة في دائرة دعم الطاقة اللحظية للدرون.

لإيجاد سعة المكثفة المستخدمة في الدرون، نحقق دائرة كهربائية على التسلسل تتكون من العناصر الآتية:

- مولد توتر ثابت قوته المحركة الكهربائية $E = 14,8 \text{ V}$ ؛

- ناقلان أوميان أحدهما مقاومته R متغيرة والآخر مقاومته R_1 ثابتة؛

- مكثفة مماثلة لمكثفة الدرون غير مشحونة سعتها C ؛

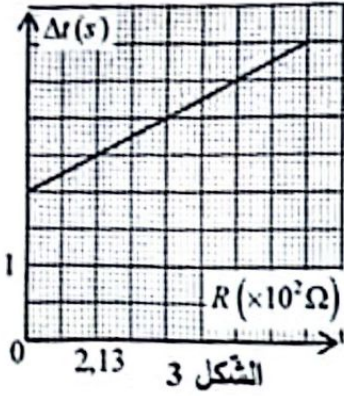
- قاطعة K وأسلاك توصيل.

نغلق القاطعة K في لحظة $t = 0$. نتابع بواسطة التكنولوجيات الرقمية تطور التوتر الكهربائي بين طرفي المكثفة ونسجل Δt المدة الزمنية اللازمة لنهاية عملية الشحن.



اختبار في مادة: العلوم الفيزيائية / الشعبة: علوم تجريبية / بكالوريا 2025

نكرر التجربة السابقة من أجل قيم مختلفة للمقاومة R ونسجل في كل مرة المدة الزمنية اللازمة لنهاية عملية الشحن.



نرسم المنحنى البياني لتطور Δt بدلالة R ($\Delta t = f(R)$) (الشكل 3).

1. ارسم بشكل تخطيطي الدارة الكهربائية موضحا عليها جهة التيار وأسهم التيارات

بين طرفي كل ثنائي قطب.

2. فسر مجهريا ظاهرة شحن المكثفة.

3. جد المعادلة التفاضلية التي يحققها التوتر الكهربائي بين طرفي المكثفة $u_C(t)$.

4. تأكد أن حل المعادلة التفاضلية السابقة هو: $u_C(t) = E(1 - e^{-\frac{t}{(R+R_1)C}})$

5. ماذا يمثل المقدار $(R+R_1)C$ ؟ تحقق أنه متجانس مع الزمن باستعمال التحليل البعدي.

6. مثل كيفيا المنحنى البياني لتطور التوتر الكهربائي $u_C(t)$ بدلالة الزمن موضحا عليه النظامين الانتقالي والذائم.

7. عمليا المدة اللازمة لنهاية عملية شحن المكثفة هي: $\Delta t = 5\tau$ حيث: τ ثابت الزمن.

بين أن المدة اللازمة لنهاية عملية شحن المكثفة Δt تكتب على الشكل: $\Delta t = 5CR + 5CR_1$.

8. جد قيمة كل من C و R_1 بالاعتماد على المنحنى البياني والعلاقة النظرية المعطاة في السؤال 7.

9. اكتب عبارة الطاقة المخزنة في المكثفة ثم احسب قيمتها الأعظمية والتي يتم استغلالها في حالة وجود متطلبات

طاقة فجائية ...

الجزء الثاني: (07 نقاط)

التمرين التجريبي: (07 نقاط)

يُصنع خل التفاح عن طريق تخمير السكريات الموجودة في التفاح، مما يحولها إلى حمض الإيثانويك، وهي المادة الفعالة في الخل ويسمى أيضا حمض الأسيتيك.

يهدف هذا التمرين إلى التحقق من درجة حموضة خل التفاح التجاري 5°.

الوثيقة 1: درجة حموضة الخل



تُعرف درجة حموضة الخل بكتلة حمض الإيثانويك الموجودة في 100 g من الخل. على سبيل المثال يحتوي الخل 5° على 5 g من حمض الإيثانويك لكل 100 g من الخل.

لإيجاد درجة حموضة خل تفاح تجاري (S_0) تركيزه المولي c_0 ، نعايره بطريقتين:

المعايرة اللونية والمعايرة الـ pH - مترية.


• يُخفف محلول خل التفاح التجاري (S_0) 10 مرات فنحصل على المحلول (S_1) تركيزه المولي c_1 .

• يُستخدم محلول هيدروكسيد الصوديوم ($Na^+(aq) + HO^-(aq)$) كمحلول معاير، بتركيز مولي


$$c_2 = 2,00 \times 10^{-1} \text{ mol} \cdot L^{-1}$$



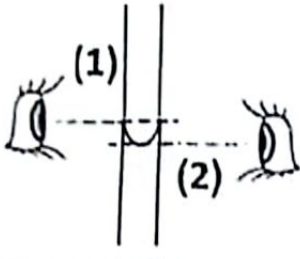
اختبار في مادة: العلوم الفيزيائية / الشعبة: علوم تجريبية / بكالوريا 2025



الشكل 4



الشكل 5



الشكل 6

الطريقة الأولى: المعايرة اللونية

1. نبدأ بتحضير 100 mL من المحلول (S_1) انطلاقاً من المحلول (S_0) لأجل ذلك نتبع الخطوات من 1 إلى 5 كما في الشكل 4 وهذا بأخذ عينة اختبار حجمها $V_0 = 10,0\text{ mL}$ من المحلول (S_0).

اكتب البروتوكول التجريبي (الاحتياطات الأمنية، الوسائل، طريقة العمل) لعملية تخفيف المحلول التجاري مستعينا بخطوات الشكل 4. نأخذ حجماً $V_1 = 10,0\text{ mL}$ من محلول خل التفاح المخفف (S_1) ونضيف له قطرات من كاشف أحمر الكريزول مجال تغييره اللوني 7,2-8,8 ونعايره بمحلول هيدروكسيد الصوديوم. نتبع الخطوات من 6 إلى 10 كما في الشكل 5 فنحصل على الحجم المضاف عند التكافؤ $V_{E1} = 4,0\text{ mL}$.

1.2. اكتب البروتوكول التجريبي لعملية المعايرة اللونية مستعينا

بالخطوات الموضحة في الشكل 5.

2.2. حدّد وضعية النظر (1) أو (2) الصحيحة للقراءة على كل من الماصة العيارية والسحاحة المدرجة أثناء عمليتي التخفيف والمعايرة (الشكل 6).

الطريقة الثانية: المعايرة الـ pH - مترية

في اختبار المعايرة الـ pH - مترية لعينة من المحلول المخفف (S_1) حجمها

$V_1 = 10,0\text{ mL}$ (نضيف قليلاً من الماء من أجل غمر مسبار الـ pH - متر)، تتم متابعة تطور قيمة الـ pH أثناء إضافة المحلول المعيار (محلول هيدروكسيد الصوديوم) ثم إيجاد V_{E2} الحجم المضاف عند التكافؤ من المنحنى البياني لتطور قيمة الـ pH بدلالة الحجم المضاف $pH = f(V_b)$ (الشكل 7).

1. ارسم بشكل تخطيطي التركيب التجريبي لعملية المعايرة الـ pH - مترية مع تسمية المكونات.

2. جد بيانياً، إحداثيي نقطة التكافؤ $E_2(V_{E2}; pH_{E2})$.

3. بزر استعمال كاشف أحمر الكريزول في المعايرة اللونية.

4. قارن بين قيمتي V_{E1} و V_{E2} اللتين تم الحصول عليهما باستخدام المعيارتين اللونية والـ pH - مترية. حدّد مع التبرير الطريقة الأكثر دقة بالنسبة لك.

نعتبر V_E الأكثر دقة هي القيمة التي سيتم الاحتفاظ بها لبقية الحسابات. اكتب معادلة تفاعل المعايرة.

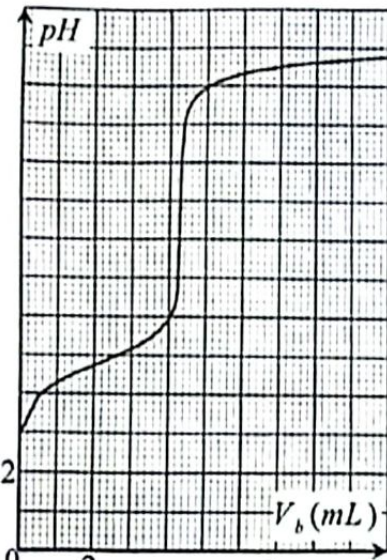
6. اكتب العلاقة بين كميات مادة المتفاعلات عند التكافؤ، لا تنس إضافة

جملة التبرير. استنتج العلاقة بين V_1 و c_1 و V_2 و c_2 .

7. جد قيمة كل من c_0 و c_1 ثم تأكد من درجة حموضة خل التفاح التجاري

(الوثيقة 1) علماً أنّ الكتلة الحجمية لخل التفاح المستعمل $\rho = 1,03\text{ g}\cdot\text{mL}^{-1}$

والكتلة المولية الجزيئية لحمض الإيثانويك $M = 60\text{ g}\cdot\text{mol}^{-1}$.



الشكل 7



الموضوع الثاني

يحتوي الموضوع على (0.4) صفحات (من الصفحة 5 من 8 إلى الصفحة 8 من 8)

الجزء الأول: (13 نقطة)

التمرين الأول: (06 نقاط)

يُستعمل السماريوم 153 المشع في علاج بعض سرطانات البروستات والعظام... وذلك لقصر مدّة حياته. يهدف هذا التمرين إلى دراسة النّشاط الإشعاعي للسماريوم 153 وطريقة تحضيره.

معطيات:

$$\left\langle \begin{array}{l} \text{زمن نصف العمر للسماريوم 153: } t_{1/2} = 46,28 \text{ hours} \\ \text{الثوابت: } N_A = 6,02 \times 10^{23} \text{ mol}^{-1} \end{array} \right.$$

$$\left\langle \begin{array}{l} 1 \text{ MeV} = 1,6 \times 10^{-13} \text{ J} \\ 1 \text{ u} = 931,5 \text{ MeV} / c^2 \end{array} \right.$$

$$\left\langle \begin{array}{l} \text{كتل الأنوية: } m({}_{62}^{153}\text{Sm}) = 152,92210 \text{ u} \\ m({}_{30}^{80}\text{Zn}) = 79,94434 \text{ u} \\ m({}_{92}^{235}\text{U}) = 234,99333 \text{ u} \end{array} \right.$$

$$\left\langle \begin{array}{l} \text{الكتلة المولية الذرية للسماريوم: } M({}_{62}^{153}\text{Sm}) = 153 \text{ g} \cdot \text{mol}^{-1} \\ m({}_0^1n) = 1,00866 \text{ u} \end{array} \right.$$

أولاً: دراسة النّشاط الإشعاعي لنواة السماريوم 153

1. ينتج عن تفكك نواة السماريوم ${}_{62}^{153}\text{Sm}$ نواة الأوروبيوم ${}_{80}^{80}\text{Zn}$ وجسيم β^- .

اكتب معادلة التّفكك النووي الحادث مُحدّدا العددين A و Z .

2. من أجل علاج سرطان البروستات لمرضى، تُحضّر في اللحظة $t_0 = 0$ جرعة تحتوي على عيّنة من السماريوم 153

$$\text{المشع كتلتها } m_0 = 100 \mu\text{g}.$$

1.2. بيّن سبب استعمال السماريوم 153 المشع في علاج بعض الأمراض.

2.2. جد N_0 عدد الأنوية المشعّة الابتدائيّة.

3.2. أثبت أنّ نشاط العيّنة المشعّة يكتب بالعلاقة: $A(t) = A_0 e^{-\lambda t}$ حيث: λ ثابت التّفكك و A_0 النشاط الابتدائي.

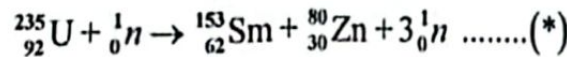
4.2. تكون العيّنة المشعّة غير صالحة للاستعمال إذا أصبح نشاطها $A(t) = \frac{A_0}{4}$.

احسب t اللحظة التي تصبح عندها العيّنة غير صالحة للاستعمال.

ثانياً: التّحضير الاصطناعي للسماريوم 153

نظير السماريوم ${}_{62}^{153}\text{Sm}$ معدن نادر في القشرة الأرضيّة، فهو يُحضّر اصطناعيّاً عن طريق قذف نواة اليورانيوم 235

بواسطة نيوترون حراري، أحد هذه الانشطارات يُنمذج بالتحوّل النووي المُعبّر عنه بالمعادلة (*):



1. سمّ ثمّ عرّف التفاعل المنمذج بالمعادلة (*).

2. بَرّر قذف نواة اليورانيوم بالنيوترون وليس ببروتون.

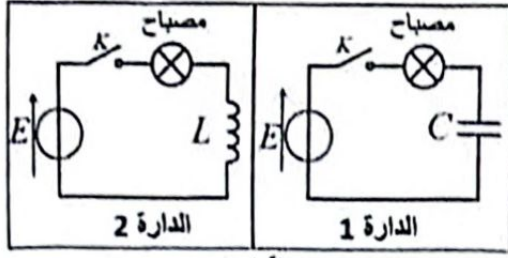
3. احسب الطّاقة المُتحرّرة عن انشطار نواة واحدة من اليورانيوم 235. فسّر مصدر هذه الطّاقة.

4. استنتج الطّاقة المُتحرّرة بـ MeV ثمّ بالجول J عند تحضير الجرعة السّابقة عن طريق التحوّل المُنمذج

بالمعادلة (*).



اختبار في مادة: العلوم الفيزيائية / الشعبة: علوم تجريبية / بكالوريا 2025



الشكل 1

التمرين الثاني: (07 نقاط)

لدراسة تأثير كل من المكثفة والوشيعية في مصباح، نُحقّق دارتين كهربائيتين 1 و 2 (الشكل 1). المولدان مثاليان لهما نفس القوة المحركة الكهربائية $E = 6V$ ، المصباحان متماثلان ويمكن اعتبارهما كنافلين أو ميين لهما نفس المقاومة $R = 12\Omega$.

يهدف هذا التمرين إلى دراسة تأثير كل من المكثفة والوشيعية على توهج المصباح.

أولاً: الدارة 1

المكثفة غير مشحونة، سعتها $C = 47 \times 10^3 \mu F$. نغلق القاطعة K في لحظة $t = 0$ نعتبرها كمبدأ للأزمنة.

1. اكتب المعادلة التفاضلية لتطور شدة التيار $i(t)$ في الدارة على الشكل: $RC \frac{di(t)}{dt} + i(t) = 0$.

$t(s)$	0	τ	10τ
$i(A)$			
إضاءة المصباح			

الجدول 1

2. تحقّق أنّ العلاقة: $i(t) = \frac{E}{R} e^{-\frac{t}{\tau}}$ هي حلّ للمعادلة التفاضلية السابقة.

3. أكمل الجدول 1 باستغلال العلاقة السابقة (السؤال 2).

4. كم تكون قيمة التوتر الكهربائي بين طرفي المكثفة، بعد فتح القاطعة K في اللحظة 10τ ؟

5. لماذا يُنصح بعدم لمس قطبي المكثفة بالأصابع؟

ثانياً: الدارة 2

الوشيعية مثالية ذاتيتها $L = 1,2 mH$. نغلق القاطعة K في لحظة $t = 0$ نعتبرها كمبدأ للأزمنة.

1. يُعطى حلّ المعادلة التفاضلية لتطور شدة التيار $i(t)$ في الدارة 2:

$t(s)$	0	τ	10τ
$i(A)$			
إضاءة المصباح			

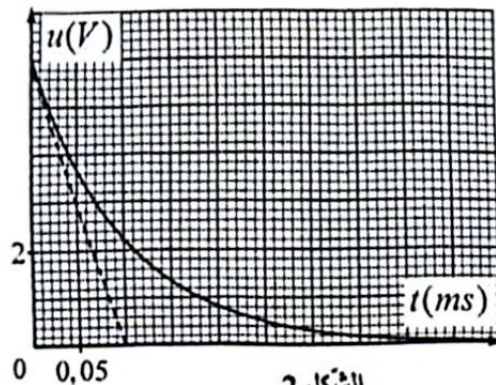
الجدول 2

2. أكمل الجدول 2، $i(t) = \frac{E}{R} (1 - e^{-\frac{t}{\tau}})$.

2. جد قيمة التوتر بين طرفي الوشيعية في اللحظة 10τ .

ثالثاً:

1. تحصلنا تجريبياً على المنحنى البياني لتطور التوتر بين طرفي عنصر كهربائي من إحدى الدارتين 1 أو 2 (الشكل 2).



الشكل 2

حدّد الدارة التي ينتمي إليها هذا العنصر الكهربائي. علّل.

2. نستبدل المصباحين السابقين بمصباحين آخرين متماثلين مقاومتهما

أكبر من السابقين.

كيف تتغير مدة النظام الانتقالي في كلّ دارة؟ علّل.



اختبار في مادة: العلوم الفيزيائية / الشعبة: علوم تجريبية / بكالوريا 2025

معطيات:

الكثافة المولية الجزيئية لحمض البنزويك: $M(C_6H_5 - COOH) = 122 \text{ g} \cdot \text{mol}^{-1}$

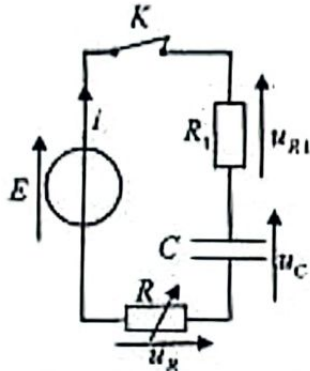
الكثافة المولية الجزيئية للميثانول: $M(CH_3 - OH) = 32 \text{ g} \cdot \text{mol}^{-1}$

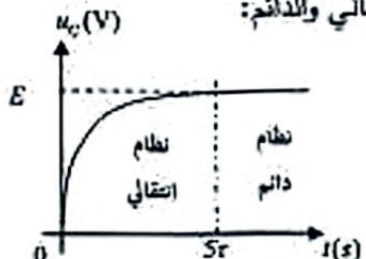
الكثافة الحجمية للميثانول: $\rho = 0,79 \text{ g} \cdot \text{mL}^{-1}$

العمل الذي ينبغي إنجازه:

1. بناءً على المعلومات المتوفرة في الوثائق المتابعة، اذكر احتياطات السلامة (الأمنية) التي ينبغي اتخاذها.
2. حدّد المجموعة المُمَيَّزَة (الوظيفية) لكل مركّب عضوي مع تسميتها باستغلال الوثيقة 1.
3. استخرج خصائص تفاعل الأسترة باستغلال الوثيقة 1.
4. سنمّ التركيب التجريبي ومكوّناته في عملية تصنيع بنزوات الميثيل واذكر الفائدة من هذا التركيب باستغلال الوثيقة 2.
5. احسب كمية المادة الابتدائية لكل متفاعل باستغلال الوثيقة 2، ماذا تستنتج؟
6. وضح الغرض من إضافة قطرات من حمض الكبريت المركز في تصنيع الإستر.
7. اذكر دور كل من المكوّنين 2 و 6 في التركيب التجريبي من الوثيقة 2 في عملية تصنيع الإستر.
8. حدّد المنحنى الموافق للمتابعة الزمنية لتصنيع بنزوات الميثيل من الوثيقتين 2 و 3. بزر.
9. احسب مردود تصنيع بنزوات الميثيل $\left(r = \frac{n_{exp}(ester)}{n_1(acide)} \right)$ باستغلال المنحنى الموافق (السؤال 8).
10. اقترح تعديلات على البروتوكول التجريبي (الوثيقة 2) لأجل تحسين المردود دون التعديل في التركيب التجريبي.

العلامة		مفردات الإجابة (الموضوع الأول)
مجموع	مجزأة	
0,50	0,50	<p>التصوير الأول (06 نقاط)</p> <p>أولاً: دراسة حركة مركز عطالة الكرة (حالة الصعود)</p> <p>1. ندرس القانون الثاني لنيوتن، في مرجع غاليلي، المجموع الشعاعي للقوى الخارجية المطبقة على حزمة مادية يساوي في كل لحظة جداء كتلتها في تسارع مركز عطالتها.</p>
1,00	0,25 0,25 0,25 0,25	<p>2. عبارة تسارع مركز عطالة الكرة:</p> <p>بتطبيق القانون الثاني لنيوتن على مركز عطالة الكرة في المرجع المطبق الأرضي</p> $\sum \vec{F}_{ext} = m\vec{a}_0 \rightarrow \vec{P} = m\vec{a}_0$ <p>بالإسقاط على محور الحركة نجد: $-P = ma_0$</p> <p>ومنه: $a_0 = -g$</p> 
4,00	2x0,25 0,25 2x0,25	<p>3. بالاعتماد على المنحنى البياني $v = f(t)$:</p> <p>1.3. استخراج طبيعة حركة مركز عطالة الكرة وحساب القيمة التجريبية للتسارع:</p> <p>من المنحنى البياني التسارع ثابت $a = \frac{dv}{dt} = C'''$</p> <p>السرعة تتناقص أو إشارة الجداء $a \times v < 0$ ($a < 0$ و $v > 0$)</p> <p>ومنه الحركة مستقيمة (مسارها مستقيم) متباطئة بانتظام.</p> <p>القيمة التجريبية للتسارع a: $a = \frac{dv}{dt} = \frac{0,21 - 3,25}{0,30 - 0} \approx -10 m \cdot s^{-2}$</p>
	0,50	<p>2.3. تبيان أن $g \approx 10 m \cdot s^{-2}$</p> <p>لدينا: $a_0 = -g = -10 m \cdot s^{-2}$</p> <p>ومنه: $g \approx 10 m \cdot s^{-2}$</p>
	0,25 0,25	<p>3.3. استخراج قيمة كل من t_s و v_0 من المنحنى البياني:</p> <p>في اللحظة $t = 0$ بالإسقاط نجد $v_0 = 3,2 \times 1 = 3,2 m \cdot s^{-1}$</p> <p>عند أعلى موضع: $v = 0$ بالإسقاط نجد $t_s = 5,4 \times 0,06 = 0,324 s$</p>
	0,25 2x0,25 2x0,25	<p>4.3. إيجاد قيمة v في اللحظة $t = 0,12 s$</p> <p>$v \approx 2 m \cdot s^{-1}$</p> <p>تمثيل \vec{a} و \vec{v} في اللحظة $t = 0,12 s$</p> <p>سلم الرسم: $1 cm \rightarrow 1 m \cdot s^{-1}$</p> <p>$1 cm \rightarrow 5 m \cdot s^{-2}$</p> <p>ملاحظة: ليس شرطاً اعتماد هذا السلم</p> 

	0,50	<p>5.3. حساب أقصى ارتفاع يبلغه مركز عصابة الكرة: باعتماد مساحة المثلث نجد الارتفاع: $h = \frac{5,4 \times 0,06 \times 3,2 \times 1}{2} \approx 0,52 \text{ m}$</p>
0,50	0,25 0,25	<p>ثانيا: تسجيل الهدف حساب H قيمة ارتفاع نقطة التماس اللاعب للكرة $E_{pp} = mgh \Rightarrow H = \frac{E_{pp}}{mg}$ $\Rightarrow H = 1,8 \text{ m}$</p>
0,75	0,25 × 3	<p>التمرين الثاني: (07 نقاط) 1. الرسم التخطيطي للدائرة الكهربائية موضعا عليها جهة التيار وبأسهم جهة التوترات بين طرفي كل ثاني قطب.</p> 
0,50	0,50	<p>2. التفسير المجبري لظاهرة شحن المكثفة: عند شحن المكثفة، يحدث المولد اختلالا في التوازن الكهربائي بين لبوسي المكثفة، فتحدث هجرة جماعية للإلكترونات من اللبوس المرتبط بالقطب الموجب للمولد فيشحن بشحنة موجبة إلى اللبوس المرتبط بالقطب السالب فيشحن بشحنة سالبة فتكاثف عليه نون الانتقال عبر العازل الكهربائي.</p>
1,00	0,25 0,25 0,25 0,25	<p>3. المعادلة التفاضلية التي يحققها التوتر الكهربائي بين طرفي المكثفة $u_C(t)$: حسب قانون جمع التوترات : $u_C + u_R + u_{R1} = E$ $u_C + Ri + R_1i = E \rightarrow u_C + (R + R_1)i = E$ $i = \frac{dq}{dt} = \frac{d(Cu_C)}{dt} = C \frac{du_C}{dt}$ $\frac{du_C}{dt} + \frac{1}{(R_1 + R)C} u_C = \frac{E}{(R_1 + R)C}$</p>

0,75	0,25 0,25 0,25	<p>4. للتأكد أن حل المعادلة التفاضلية السابقة هو: $u_C(t) = E(1 - e^{-\frac{t}{(R_1+R)C}})$ باشتقاق الحل والتعويض في المعادلة التفاضلية: $\frac{du_C}{dt} = \frac{E}{(R_1+R)C} e^{-\frac{t}{(R_1+R)C}}$</p> $\frac{E}{(R_1+R)} e^{-\frac{t}{(R_1+R)C}} + \frac{1}{(R_1+R)C} E(1 - e^{-\frac{t}{(R_1+R)C}}) = \frac{E}{(R_1+R)C}$ $\frac{E}{(R_1+R)C} = \frac{E}{(R_1+R)C}$
0,75	0,25 0,50	<p>5. $(R_1+R)C = \tau$: ثابت الزمن للدارة. التحليل البعدي: من عبارة τ نكتب: $\tau = [L] = T = s = \frac{[u]}{[i]} \times \frac{[i][t]}{[u]} = [t] = T = s$ وهو متجانس مع الزمن. طريقة أخرى: يمكن الاعتماد على المعادلة التفاضلية.</p>
0,50	0,50	<p>6. التمثيل الكيفي لتطور $u_C(t)$ مع توضيح النظامين الانتقالي والدائم:</p> 
0,25	0,25	<p>7. تبين أن $\Delta t = 5C.R + 5R_1.C$ $\Delta t = 5\tau = 5(R + R_1)C = 5C.R + 5R_1.C$</p>
1,75	0,25 0,25×2 0,25×2	<p>8. إيجاد كل من C سعة المكثفة و R_1 مقاومة الدافل الأومي للبيان عبارة عن خط مستقيم لا يمر من المبدأ: $\Delta t = aR + b$</p> $\begin{cases} a = \frac{2,5-2}{2,13 \times 10^{-7}} = 2,35 \times 10^{-3} (s \cdot \Omega^{-1}) \\ b = 2s \end{cases}$ <p>بالمطابقة مع العلاقة النظرية $\Delta t = 5C.R + 5R_1.C$ نجد: $\begin{cases} a = 5C \\ b = 5R_1.C \end{cases}$ ومنه:</p> $\begin{cases} C = \frac{a}{5} = \frac{2,35 \times 10^{-3}}{5} = 4,7 \times 10^{-4} F = 470 \mu F \\ 5R_1.C = b \Rightarrow R_1 = \frac{b}{5C} = \frac{2}{5 \times 4,7 \times 10^{-4}} = 851 \Omega \end{cases}$

0,76	0,25 0,25 = 2	<p>9. عبارة الطاقة المخزنة في المكثف: $E_c(t) = \frac{1}{2} C U_c^2(t)$</p> <p>الطاقة الأعظمية: $E_c \max = \frac{1}{2} C U_c^2 = \frac{1}{2} = 470 \times 10^{-6} (14,8)^2 = 0,5141$</p>
1,25	0,25 0,50 0,50	<p>التمرين التجريبي: (07 نقاط)</p> <p>1. البروتوكول التجريبي لعملية التخفيف:</p> <ul style="list-style-type: none"> • الاحتياطات الأمنية: قفازات، نظارات واقية، منزر، كمامة، قراء إشارات الأخطار (بيكتوغرام) ... • الوسائل: - المواد الكيميائية: محلول الخل التجاري، ماء مقطر. - الزجاجيات: بيشر، ماصة عيارية 10mL مزودة بإجاصة معص، حوجلة عيارية 100mL، مطارحة ماء. • طريقة العمل: <ol style="list-style-type: none"> 1- تسكب حجما من محلول التجاري (S_0) في بيشر؛ 2- نسحب بواسطة الماصة حجما قدره 10mL من المحلول التجاري (S_0)؛ 3- نفرغ محتوى الماصة في الحوجلة العيارية 100mL بها ماء مقطر؛ 4- تكمل الحجم بالماء المقطر الى خط العيار؛ 5. نغلق الحوجلة بمدانتها ونرج حتى الحصول على محلول متجانس.

1,50	0,25	1.2. البروتوكول التجريبي للمعايرة اللونية: • الاحتياطات الأمنية: نفس الاحتياطات الأمنية المذكورة في الإجابة 1. • الوسائل: - الأجهزة والأدوات: مخلوط مغناطيسي، حامل، قضيب مغناطيسي. - المواد الكيميائية: محلول الخل التجاري مخفف 10مرات، ماء مقطر، كاشف أحمر الكريزول. - الزجاجيات: ماصة عيارية 10mL مزودة بإجاصة مص، بيشر، سحاحة مدرجة. • خطوات العمل: 6. تسكب حجما من محلول المخفف (S_1) في بيشر؛ 7. نسحب بواسطة الماصة حجما قدره 10mL من محلول المخفف؛ 8. نفرغ محتوى الماصة في بيشر؛ 9. نضيف قطرات من كاشف أحمر الكريزول؛ 10. نملأ السحاحة المدرجة بمحلول هيدروكسيد الصوديوم ونضبط الحجم على التدرجة (0) ونضع البيشر فوق المخلوط المغناطيسي ونشغله ونسمح لمحلول هيدروكسيد الصوديوم الى غاية تغير اللون ثم تسجل الحجم اللازم للتكافؤ V_{E1} .
	0,50	2.2. تحديد وضعية النظر الصحيحة هي الوضعية (2).
0,75	0,25 (الرسم)	الطريقة الثانية: المعايرة عن طريق المعايرة الـ pH - مترية: 1. الرسم التخطيطي للتركيب التجريبي لعملية المعايرة الـ pH - مترية وسمية المكونات: 1. سحاحة 2. حامل 3. بيشر 4. جهاز الـ pH متر 5. مخلوط مغناطيسي.
	0,50 (البيانات)	2. احداثي نقطة التكافؤ: $E_2 (V_{E2} = 4,3mL; pH_{E2} = 8,4)$
0,50	$0,25 \times 2$	3. تبرير استعمال كاشف أحمر الكريزول: $pH_{E2} \in [7,2; 8,8]$
0,25	0,25	

0,75	0,25 0,25 0,25	<p>4. قيمة V_{E2} و V_{E1} للحجمين المكافئين متساويين تقريبا الطريقة الأكثر دقة هي المعايرة الـ pH - مترية. التبرير: في المعايرة اللونية يتم تحديد حالة التكافؤ بالاعتماد على الملاحظة بالعين المجردة لتغير لون الكاشف خلال مجال. في المعايرة الـ pH - مترية يتم تحديد حالة التكافؤ عند قيمة معينة لـ pH مما يقلل من الأخطاء.</p>
0,50	0,50	<p>5. كتابة معادلة تفاعل المعايرة:</p> $CH_3COOH(aq) + HO^-(aq) = CH_3COO^-(aq) + H_2O(l)$
0,50	0,25 0,25	<p>6. العلاقة بين كميات مادة المتفاعلات. عند التكافؤ: يكون المزيج ستوكيوسمري $\frac{n_0}{i} = \frac{n_{E2}}{1}$ استنتاج العلاقة: $c_1V_1 = c_2V_2$.</p>
1,00	0,25 0,25 0,25 × 2	<p>7. حساب c_1 و c_0 والتأكد من درجة حموضة خل التفاح:</p> $c_1 = \frac{c_2V_2}{V_1} = \frac{2 \times 10^{-1} \times 4,3}{10} = 8,6 \times 10^{-2} \text{ mol} \cdot L^{-1}$ $c_0 = F \times c_1 = 10 \times 8,6 \times 10^{-2} = 8,6 \times 10^{-1} \text{ mol} \cdot L^{-1}$ <p>درجة حموضة الخل:</p> $m = c_0V_0M = c_0 \frac{m_0}{\rho} M = 8,6 \times 10^{-1} \frac{100}{1,03} \times 60$ $m = 5 \text{ g}$ <p>ومنه نرجه حموضة خل التفاح التجاري 5°.</p>

العلامة		عناصر الإجابة (الموضوع الثاني)
مجموع	مجزأة	
0,75	0,25 × 2	<p>التمرين الأول: (06 نقاط)</p> <p>أولا: دراسة النشاط الإشعاعي لنواة السماريوم 153:</p> <p>1. معادلة التفاعل:</p> ${}_{62}^{153}\text{Sm} \rightarrow {}_{Z}^A\text{Eu} + {}_{-1}^0\text{e}$ <p>حسب قانوني الإنحفاظ:</p> $\begin{cases} Z = 63 \\ A = 153 \end{cases}$
	0,25	${}_{62}^{153}\text{Sm} \rightarrow {}_{63}^{153}\text{Eu} + {}_{-1}^0\text{e}$
2,25	0,25	<p>2.</p> <p>1.2. سبب استعمال السماريوم 153 المشع لفترة مدة حياته $(t_{1/2} = 46,28 \text{ hours})$.</p>
	0,25 × 2	<p>2.2. إيجاد N_0 عدد الأنوية المشعة الابتدائية:</p> $N_0 = \frac{m_0 N_A}{M} = \frac{100 \times 10^{-6} \times 6,02 \times 10^{23}}{156}$ $N_0 = 3,93 \times 10^{17} \text{ noy}$
	0,25 × 2	<p>3.2. إثبات العلاقة: $A(t) = A_0 e^{-\lambda t}$</p> $A(t) = -\frac{dN(t)}{dt} = -\frac{d(N_0 e^{-\lambda t})}{dt}$ <p>ومنه: $A(t) = \lambda N_0 e^{-\lambda t} = A_0 e^{-\lambda t}$ حيث: $A_0 = \lambda N_0$</p>
	0,25	<p>ملاحظة: قبل الإجابة عند الانطلاق من العبارة: $A(t) = \lambda N(t)$</p>
0,25 × 2	0,25	<p>4.2. حساب t اللحظة التي تصبح عندها العينة غير صالحة للاستعمال:</p> <p>لدينا: $A(t) = A_0 e^{-\lambda t}$ ومنه:</p> $t = -\frac{1}{\lambda} \ln\left(\frac{A(t)}{A_0}\right)$
	0,25	$\lambda = \frac{\ln 2}{t_{1/2}} \Rightarrow t = -\frac{t_{1/2}}{\ln 2} \ln\left(\frac{A(t)}{A_0}\right)$ $t = -\frac{46,28}{\ln 2} \ln\left(\frac{0,25 A_0}{A_0}\right) = 92,56 \text{ hours}$
	0,25	<p>* طريقة أخرى: $A(t) = \frac{A_0}{4} = \frac{A_0}{2^2}$ ومنه: $t = 2t_{1/2} = 92,56 \text{ hours}$</p>
0,75	0,25	<p>ثانيا: التحضير الاصطناعي للسماريوم 153</p> <p>1. تسمية التفاعل المنمذج بالمعادلة (*): تفاعل انشطار نووي.</p>
	0,50	<p>تعريفه: تفاعل مفعل يتم فيه قذف نواة ثقيلة بنيترتون بطيء، فينتج عنه نواتين خفيفتين نسبيا أكثر استقرارا ونيوترونات مع تحرير طاقة.</p>

0,50	0,50	2. تبرير قذف نواة اليورانيوم بالنيوترون وليس بالبروتون: النيوترون عديم الشحنة فلا يحدث تنافر بينه والنواة عكس البروتون الذي يحمل شحنة موجبة فيحدث تنافر بينه والنواة مما يصعب عملية الانشطار.												
1,00	0,25 0,25 0,50	3. حساب الطاقة المتحررة عن انشطار نواة واحدة من اليورانيوم 235: $E_{\text{lib}} = [(m(U) - m_n) - (m(Sm) + m(Zr) + 3m_n)]c^2$ $E_{\text{lib}} = [(234,99333) - (152,922103 + 79,94434 + 2 \times 1,00866)] \times 931,5$ $E_{\text{lib}} = 102,06 \text{ MeV}$ التفسير: حسب علاقة التكافؤ كتلة-سماقة لأينشتاين فإن النقص في كتلة التفاعل يتحول إلى طاقة.												
0,75	0,25 0,25 0,25	4. استنتاج الطاقة المتحررة بـ MeV ثم بالجول J عند تحضير الجرعة المسابقة عن طريق التحول النموذج بالمعادلة (*): $E_7 = N_0 \times E_{\text{lib}}$ $E_7 = 3,93 \times 10^{17} \times 102,06$ $E_7 = 4,01 \times 10^{19} \text{ MeV}$ $E_7 = 4,01 \times 10^{19} \times 1,6 \times 10^{-19}$ $E_7 = 6,42 \times 10^6 \text{ J}$												
1,25	0,25 التيارة 0,25 0,25 × 2 0,25	التمرين الثاني: (07 نقاط) أولاً: الدارة I 1. كتابة المعادلة التفاضلية لتطور شدة التيار العار $i(t)$: من قانون جمع الفولتات: $u_C + u_R = E$ $\frac{q}{C} + Ri = E$ بالاشتقاق نجد: $\frac{1}{C} \frac{dq}{dt} + R \frac{di}{dt} = 0$ لدينا $i = \frac{dq}{dt}$ ومنه نجد: $RC \frac{di}{dt} + i = 0$												
0,50	0,25 × 2	2. التحقق أن العلاقة: $i(t) = \frac{E}{R} e^{-\frac{t}{RC}}$ هي حل للمعادلة التفاضلية: $-RC \cdot \frac{I_0}{RC} e^{-t/RC} + I_0 e^{-t/RC} = 0$ ومنه: $RC \frac{d}{dt} (I_0 e^{-t/RC}) + I_0 e^{-t/RC} = 0$												
0,75	0,25 × 3	3. إكمال الجدول 1: <table border="1" style="margin-left: auto; margin-right: auto;"> <thead> <tr> <th>$t(s)$</th> <th>0</th> <th>τ</th> <th>10τ</th> </tr> </thead> <tbody> <tr> <td>$i(A)$</td> <td>0,5</td> <td>0,18</td> <td>0</td> </tr> <tr> <td>إضاءة المصباح</td> <td>توهج</td> <td>توهج أقل</td> <td>منطفي</td> </tr> </tbody> </table>	$t(s)$	0	τ	10τ	$i(A)$	0,5	0,18	0	إضاءة المصباح	توهج	توهج أقل	منطفي
$t(s)$	0	τ	10τ											
$i(A)$	0,5	0,18	0											
إضاءة المصباح	توهج	توهج أقل	منطفي											

0,80	0,25 0,25	4. قيمة التوتر u_1 بعد فتح الفاتحة: في اللحظة $t = 10r$ المكثفة مشحونة كلياً ومنه: $u_c = E = 6V$												
0,80	0,50	5. سبب عدم لمس لطبي العكفة بالأسابع لتجنب، توزيع المكثفة في الجسم . ثانياً: الدارة 2 1. إكمال الجدول 2:												
0,75	0,25 × 3	<table border="1" style="margin-left: auto; margin-right: auto;"> <tbody> <tr> <td>$t(s)$</td> <td>0</td> <td>r</td> <td>$10r$</td> </tr> <tr> <td>$i(A)$</td> <td>0</td> <td>0,32</td> <td>0,5</td> </tr> <tr> <td>إضاءة المصابيح</td> <td>مطفئ</td> <td>توهج</td> <td>توهج أكبر</td> </tr> </tbody> </table>	$t(s)$	0	r	$10r$	$i(A)$	0	0,32	0,5	إضاءة المصابيح	مطفئ	توهج	توهج أكبر
$t(s)$	0	r	$10r$											
$i(A)$	0	0,32	0,5											
إضاءة المصابيح	مطفئ	توهج	توهج أكبر											
0,75	0,25 0,25 0,25	2. إيجاد قيمة u_b بين طرفي الوشعة في اللحظة $10r$: لدينا: $u_b = L \frac{di}{dt}$ في اللحظة $10r$ (النظام الدائم): $i = I$ (ثابت) ومنه $\frac{di}{dt} = 0$ ومنه: $u_b = 0$												
1,00	0,25 0,25 0,25 0,25	ثالثاً: 1. تحديد الدارة التي ينتمي إليها هذا العنصر مع التعليل: - قيمة r من البيان: $r = 0,1ms$ - قيمة r للدارة 1: $r = RC = 12 \times 47 \times 10^{-3} = 0,564s = 564ms$ - قيمة r للدارة 2: $r = \frac{L}{R} = \frac{1,2 \times 10^{-3}}{12} = 10^{-4}s = 0,1ms$ ومنه: r (البيان) = r (الدارة 2) إذن: الدارة الموافقة هي الدارة 2.												
1,00	0,25 × 2 0,25 × 2	2. كيفية تغير مدة النظام الانتقالي في كل الدارة مع التعليل: - في الدارة 1 مدة النظام الانتقالي: $\Delta t = 5r = 5RC$ في حالة مقاومة كبيرة فإن Δt تزداد. - في الدارة 2 مدة النظام الانتقالي: $\Delta t = 5r = 5 \frac{L}{R}$ في حالة مقاومة كبيرة فإن Δt تتناقص.												

0,50	0,50	<p>التعريف التجريبي: (07 نقاط)</p> <p>1. احتياطات السلامة (الأمنية) التي ينبغي اتخاذها: قنازات، الكمامة، نظارات واقية، منزر، قراءة إشارات الأخطار (بيكتوغرام)، العمل تحت ساحة الهواء ...</p>												
1,50	0,25×2 0,25×2 0,25×2	<p>2. المجموعة المميزة (الوظيفية) لكل مركب عضوي مع تسميتها:</p> <table border="1"> <thead> <tr> <th>المركب العضوي</th> <th>المجموعة المميزة</th> <th>التسمية</th> </tr> </thead> <tbody> <tr> <td>حمض البنزويك</td> <td>-COOH</td> <td>المجموعة الكربوكسيلية</td> </tr> <tr> <td>الميثانول</td> <td>-OH</td> <td>مجموعة الهيدروكسيل</td> </tr> <tr> <td>بنزوات الميثيل</td> <td>-COO-</td> <td>مجموعة الكربوكسيل</td> </tr> </tbody> </table>	المركب العضوي	المجموعة المميزة	التسمية	حمض البنزويك	-COOH	المجموعة الكربوكسيلية	الميثانول	-OH	مجموعة الهيدروكسيل	بنزوات الميثيل	-COO-	مجموعة الكربوكسيل
المركب العضوي	المجموعة المميزة	التسمية												
حمض البنزويك	-COOH	المجموعة الكربوكسيلية												
الميثانول	-OH	مجموعة الهيدروكسيل												
بنزوات الميثيل	-COO-	مجموعة الكربوكسيل												
0,25	0,25	<p>3. خصائص تتفاعل الأسترة: بطيء - غير تام - لا حراري.</p>												
1,25	0,25 0,50 0,25×2	<p>4. تسمية التركيب التجريبي: التسخين المرتد. المكونات: 1. حامل، 3. أرلينماير، 4. حمام مائي، 5. المزيج المتفاعل، 6. قضيب مغناطيسي، 7. مخلوط مغناطيسي. الفائدة من التركيب التجريبي: إنحفاظ كمية المادة وتسريع التفاعل.</p>												
1,25	0,25×2 0,25×2 0,25	<p>5. حساب كمية المادة الابتدائية لكل متفاعل: $n_0(C_6H_5COOH) = \frac{m}{M} = \frac{36,7}{122} \approx 0,3 \text{ mol}$ $n_0(CH_3OH) = \frac{m}{M} = \frac{\rho V}{M} = \frac{0,79 \times 12,3}{32} \approx 0,3 \text{ mol}$ الامتتاج: المزيج الابتدائي متكافئ في كمية المادة.</p>												
0,25	0,25	<p>6. الغرض من إضافة حمض الكبريت المركز: تسريع التفاعل.</p>												
0,50	0,25 0,25	<p>7. دور المبرد الهوائي: تكثيف الأبخرة المتصاعدة لترتد إلى المزيج المتفاعل. دور التضبيب المغناطيسي: الحصول على مزيج متجانس.</p>												
0,50	0,25 0,25	<p>8. تحديد المنحنى الموافق لتصنيع بنزوات الميثيل: المنحنى (2) التبرير: التوافق في الشروط التجريبية في تصنيع الإستر.</p>												
0,25	0,25	<p>9. حساب المرود: $r = \frac{n_{exp}}{n_{th}} = \frac{0,20}{0,3} \approx 0,67$</p>												

		10. التمديلات على البروثوكول لأجل تحسين المرود دون التعديل في التركيب التجريبي:
	0,25	- استبدال الحمض الكريوكسيليك بكلور الأميل (أو كلور الألكانويل).
0,75	0,25	- نزع الماء.
	0,25	- استعمال مزيج ابتدائي غير متكافئ في كمية المادة.