

الجمهورية الجزائرية الديمقراطية الشعبية  
وزارة التربية الوطنية

الديوان الوطني للامتحانات والمسابقات

امتحان بكالوريا التعليم الثانوي دورة 2025

الشعبة: آداب وفلسفة

المدة: 04 سا و 30 د

اختبار في مادة: التاريخ والجغرافيا

على المترشح أن يختار أحد الموضوعين الآتيين:

الموضوع الأول

يحتوي الموضوع على صفتين (02) (من الصفحة 1 من 5 إلى الصفحة 2 من 5)

التاريخ:

الجزء الأول: (06 نقاط)

(1) "... بعد انتهاء الحرب الباردة تحوّل النظام الدولي من الثنائية القطبية إلى الأحادية القطبية، حيث أدت سياسات "ميخائيل غورباتشوف" واعتماده "البرهسترويكا" إلى سلسلة من الأحداث المتلاحقة التي أفضت في نهاية المطاف إلى انهيار المعسكر الاشتراكي وحلف وارسو لاحقا...".  
المرجع: د. عبلة مزوزي، الحرب الباردة الثانية، المركز الديمقراطي العربي، عام 2019، صفحة: 35.

المطلوب: اشرح ما تحته خط في النص.

(2) عرّف بالشخصيات الآتية: - ريتشارد نيكسون - كريم بلقاسم - هوشي منه

(3) أكمل الجدول الآتي:

التاريخ	الحدث
20 سبتمبر 1947	.....
.....	تأسيس حلف جنوب شرق آسيا
15 أوت 1947	.....

الجزء الثاني: (04 نقاط)

لم تكن هجومات الشمال القسنطيني 20 أوت 1955 حدثا تاريخيا عابرا في مسار الثورة الجزائرية، بل كانت فصلا من فصول كفاح الشعب الجزائري حطمت به غرور فرنسا ووسّعت نطاق الثورة، ودفعت بها إلى المحافل الدولية.

المطلوب: انطلاقا من العبارة واعتمادا على ما درست، اكتب مقالا تاريخيا تبين فيه:

(1) أسباب هجومات الشمال القسنطيني.

(2) انعكاساتها على مسار الثورة داخليا وخارجيا.

الجغرافيا:

الجزء الأول: (06 نقاط)

1) ... من المحتمل أن تؤثر أزمة الديون الأوروبية على قدرة الدول التي تفاقمت بها الأزمة في جذب الاستثمارات إلى دول منطقة اليورو نتيجة نباطو معدلات النمو الاقتصادي ... لذا فإن الدول محل الأزمة كان عليها اتخاذ إجراءات هامة ضرورية تتمثل في زيادة حجم الضرائب وخفض الإنفاق العام، وطينا لإتفاقية ماستريخت بضغب تنفيذ تلك الفكرة ...

المرجع: مركز البحوث والدراسات "التقرير الاقتصادي"، الاقتصاد العالمي، العدد 19، عام 2011، 'بتصرف'.

المطلوب: اشرح ما تحته خط في النص.

2) إليك جدولا يمثل نسب أهم الشركاء التجاريين مع الاتحاد الأوروبي في المبادلات التجارية عام 2023.

الدول	الو.م. الأمريكية	الضين	بريطانيا	سويسرا	تركيا	روسيا	دول أخرى
النسب	% 15.3	% 16.1	% 12.2	% 6.9	% 3.6	% 4.8	% 41.1

المصدر: مركز المتوسط للدراسات الاستراتيجية، 2024.

الو.م. الأمريكية

المطلوب:

- أ) مثل المعطيات الإحصائية الواردة في الجدول بدائرة نسبية بمقياس رسم: نصف القطر 4 سم.  
ب) علق على المعطيات الإحصائية الواردة في الجدول.

الجزء الثاني: (04 نقاط)

حققت دول عالم الشمال تقدما وتطورا كبيرا في شتى المجالات وأصبحت دوله قوى اقتصادية عالمية، لكنها بالمقابل تشترك في معيقات عديدة تعترض اقتصادها.

المطلوب: انطلاقا من العبارة واعتمادا على ما درست اكتب مقالا جغرافيا تبين فيه:

- 1) العوامل البشرية التي ساعدت على تقدم دول عالم الشمال.  
2) المعيقات المشتركة التي تعترض اقتصادها.

## الموضوع الثاني

يحتوي الموضوع على (03) صفحات (من الصفحة 3 من 5 إلى الصفحة 5 من 5)

التاريخ:

الجزء الأول: (06 نقاط)

(1) '... رغم تزايد حدة جرائم قرنما في حق الشعب الجزائري أثناء تطبيق مخطط شمال في الولايات الثورية الستة، إلا أن ذلك لم يقض على الثورة الجزائرية، فأدرك 'نيغول' أن الشعب الجزائري يريد تقرير مصيره بنفسه، وأن معظم الرأي العام العالمي كان يساند القضية الجزائرية العادلة...'

المرجع: مجلة الزواق للدراسات الاجتماعية والإنسانية، جامعة الشلف الجزائر، المجلد 10، العدد 02، 2024، صفحة: 326، بتصرف.

المطلوب: اشرح ما تحته خط في النص.

(2) عرّف بالشخصيات الآتية: - هاري ترومان - ديدوش مراد - فيدال كاسترو

(3) أكمل الجدول الآتي:

التاريخ	الحدث
.....	إضراب الثمانية أيام في الجزائر
13 أوت 1961	.....
.....	حل منظمة الكوميكون

الجزء الثاني: (04 نقاط)

رغم تباين الموقع الجغرافي لشعوب المستعمرات وأوضاعها السياسية والاقتصادية والاجتماعية، إلا أنها عرفت بعد الحرب العالمية الثانية حركات تحررية اختلفت في الأساليب والوسائل واشتركت في الخصائص.

المطلوب: انطلاقا من العبارة واعتمادا على ما درست اكتب مقالا تاريخيا تبين فيه:

(1) خصائص الحركات التحررية التي عرفت شعوب المستعمرات.

(2) أسلوب الكفاح التحرري في الهند والهند الصينية.

الجغرافيا:

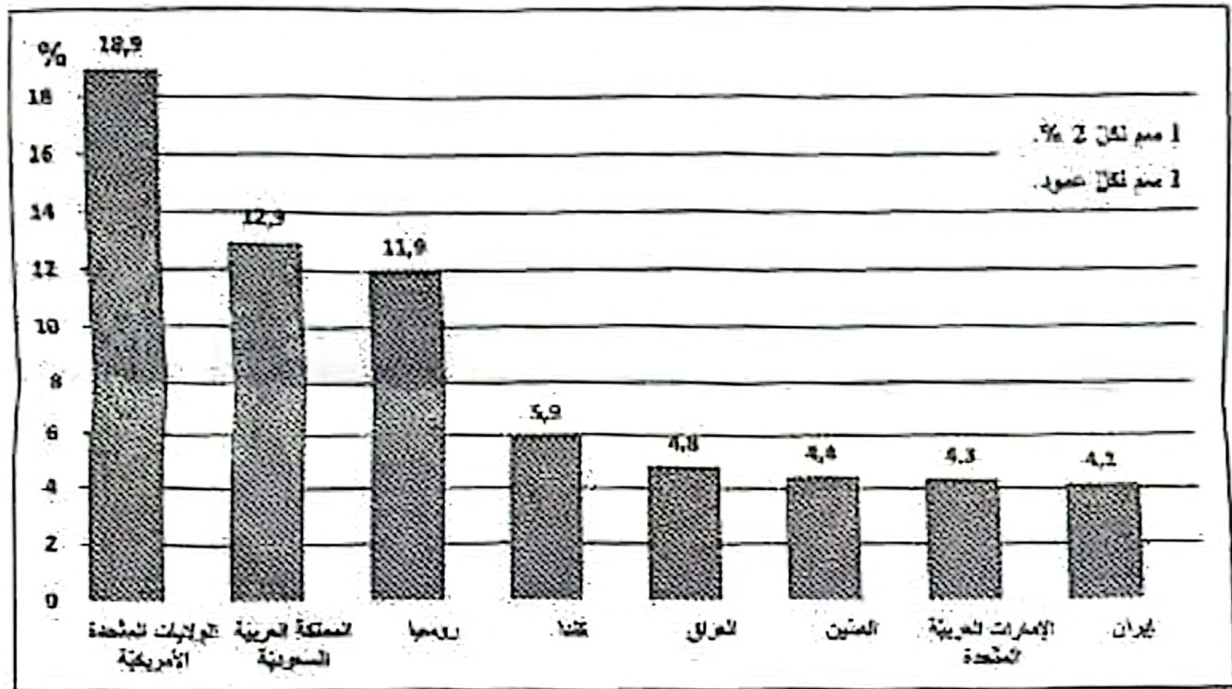
الجزء الأول: (06 نقاط)

(1) ... فقد عرف الاقتصاد العالمي تحولات عميقة من خلال ما فرضته العولمة الاقتصادية من إعادة توحيد النظام الاقتصادي العالمي على أسس اقتصاد السوق وتحرير التجارة الدولية وكذا بروز التكتلات الإقليمية، والجزائر تحاول إيجاد مكان لها في ظل هذه التحولات خاصة وأنها لا زالت في مرحلة التحول إلى اقتصاد السوق...

المراجع: مجلة أبحاث، عدد 11، عام 2012، صفة: 111.

المطلوب: أشرح ما تحته خط في النص.

(2) إليك رسماً بيانياً يمثل نسب (%) إنتاج أكبر الدول للبترول من الإنتاج العالمي عام 2022.



المصدر: Energy Institute - statista 2023

المطلوب:

(أ) علق على المعطيات الإحصائية الواردة في الرسم البياني.

(ب) وقع، على خريطة العالم المرفقة، الدول الأعضاء في منظمة الأوبك الواردة في الرسم البياني.

الجزء الثاني: (04 نقاط)

اجتمعت عوامل داخلية وأخرى خارجية ساعدت دول أوروبا على التكتل الذي مكّنها من تحقيق أهدافها وتحولها إلى قطب من أقطاب الثالوث الاقتصادي العالمي.

المطلوب: انطلاقاً من العبارة واعتماداً على ما درست، اكتب مقالا جغرافيا تبين فيه:

(1) عوامل تكتل أوروبا الداخلية.

(2) الأهداف الاقتصادية التي حقّتها التكتل.

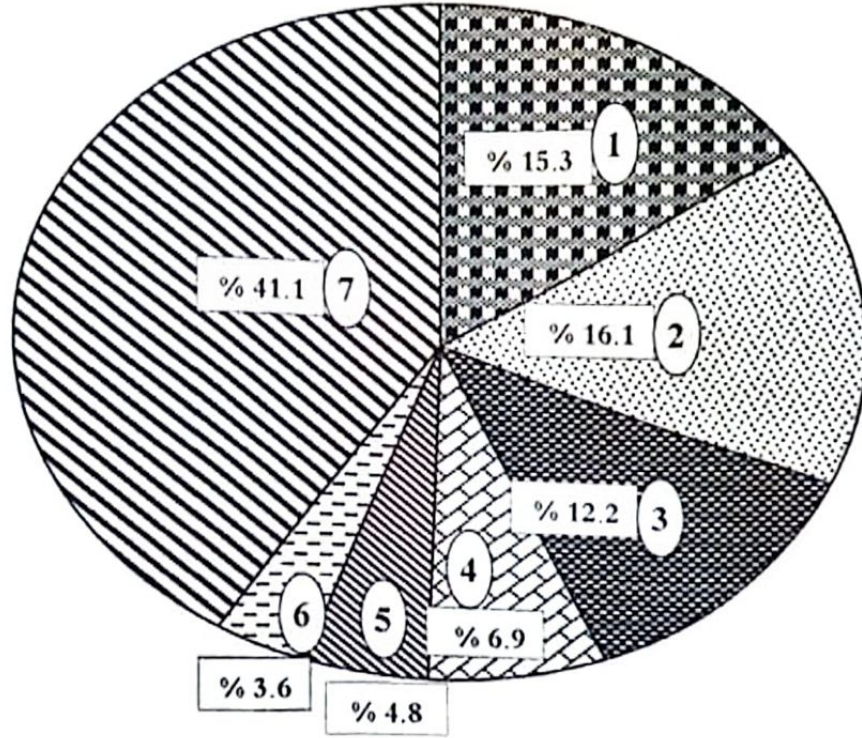
العلامة		عناصر الإجابة: (الموضوع الأول)								
مجموع	مجزأة									
06		<p><b>التاريخ:</b> <b>الجزء الأول:</b> <b>(1) شرح ما تحته خط في النص:</b></p> <ul style="list-style-type: none"> <li>• <b>الأحادية القطبية:</b> مصطلح يطلق على قيادة النظام الدولي الجديد بزعامة الولايات المتحدة الأمريكية ظهر بعد نهاية الحرب الباردة وانتهيار المعسكر الاشتراكي عام 1989...</li> <li>• <b>البروسترويك:</b> كلمة روسية تدل على الإصلاحات الاقتصادية والسياسية التي أعلن عنها الرئيس السوفيياتي ميخائيل غورباتشوف عام 1985 يدعو فيها إلى إعادة بناء وهيكلة النظام السياسي والاقتصادي السوفيياتي...</li> <li>• <b>المعسكر الاشتراكي:</b> مصطلح أطلق خلال الحرب الباردة للدلالة على الدول التي اتخذت الاشتراكية نظاما اقتصاديا وسياسيا لها والتي تنور في فلك الاتحاد السوفيياتي...</li> </ul> <p><b>(2) التعرف بالشخصيات:</b></p> <ul style="list-style-type: none"> <li>• <b>ريتشارد نيكسون:</b> رئيس الولايات المتحدة الأمريكية، وقع معاهدة سالت الأولى مع الرئيس السوفيياتي عام 1972، وارتبط اسمه بالفضيحة السياسية 'ووتر غايت' عام 1974.</li> <li>• <b>كريم بلقاسم:</b> أحد قادة الثورة الجزائرية، عضو في حركة الانتصار للحريات الديمقراطية، عضو مجموعة الست (6)، من مفجري الثورة، قائد المنطقة الثالثة، نظم مؤتمر الصومام، عضو في لجنة التنسيق والتنفيذ، عضو في الحكومة المؤقتة، رئيس الوفد المفاوض، وقع اتفاقية إيبيان 1962...</li> <li>• <b>هوشي منه:</b> زعيم الحزب الشيوعي الفيتنامي ومؤسسه، قاد الحرب ضد فرنسا (1946/1954)، مؤسس دولة الفيتنام الشمالية الشيوعية، رائد المقاومة في فييتنام ضد الاستعمار الفرنسي ثم الأمريكي...</li> </ul> <p><b>(3) إكمال جدول الأحداث:</b></p> <table border="1" style="margin-left: auto; margin-right: auto;"> <thead> <tr> <th>التاريخ</th> <th>الحدث</th> </tr> </thead> <tbody> <tr> <td>20 سبتمبر 1947</td> <td>صدور الدستور الخاص بالجزائر (القانون الخاص)</td> </tr> <tr> <td>08 سبتمبر 1954</td> <td>تأسيس حلف جنوب شرق آسيا</td> </tr> <tr> <td>15 أوت 1947</td> <td>الإعلان عن استقلال الهند</td> </tr> </tbody> </table>	التاريخ	الحدث	20 سبتمبر 1947	صدور الدستور الخاص بالجزائر (القانون الخاص)	08 سبتمبر 1954	تأسيس حلف جنوب شرق آسيا	15 أوت 1947	الإعلان عن استقلال الهند
		التاريخ	الحدث							
		20 سبتمبر 1947	صدور الدستور الخاص بالجزائر (القانون الخاص)							
		08 سبتمبر 1954	تأسيس حلف جنوب شرق آسيا							
		15 أوت 1947	الإعلان عن استقلال الهند							
		0.75								
		0.75								
		0.75								
		0.75								
		0.75								
0.75										
0.75										
0.75										
0.75										
04	6 ×	<p><b>الجزء الثاني:</b> <b>مقدمة:</b> هجمات الشمال القسنطيني بين الأسباب وانعكاساتها على الثورة. (تقبل كل مقدمة وظيفية).</p> <p><b>(1) أسباب هجمات الشمال القسنطيني:</b></p> <ul style="list-style-type: none"> <li>• فرض فرنسا الحصار على منطقة الأوراس بعد اندلاع الثورة عام 1954.</li> <li>• تردد بعض الشخصيات والأحزاب وفئات من الشعب حول الانضمام للثورة...</li> <li>• ممارسة الإدارة الفرنسية الحرب النفسية الإعلامية على حقيقة الثورة.</li> <li>• العمل على إعطاء نفس جديد للثورة بعد استشهاد ديدوش مراد قائد المنطقة الثانية واعتقال زعماء آخرين ...</li> <li>• طرح فرنسا لمشروع إصلاح " مشروع جاك سوستال فيفري 1955" لإفراغ الثورة من محتواها...</li> <li>• إعلان فرنسا بحالة الطوارئ "أفريل 1955".</li> </ul> <p>(تقبل كل الإجابات الصحيحة الأخرى)</p>								
		0.50								
		0.50								
		0.50								
		0.50								
		0.50								
		0.50								
		0.50								
		0.50								
		0.50								
0.50										

06		<p>(2) انعكاساتها على مسار الثورة داخليا وخارجيا:</p> <p>(أ) داخليا:</p> <ul style="list-style-type: none"> <li>• فك الحصار على منطقة الأوراس</li> <li>• توسيع نطاق الثورة وشموليتها.</li> <li>• التحاق المترددين بصوف الثورة ورفع معنويات الثوار.</li> <li>• تنفيذ ادعاءات فرنسا أن الثورة يقودها مرتزقة ومتمردين...</li> </ul> <p>(ب) خارجيا:</p> <ul style="list-style-type: none"> <li>• تدويل القضية الجزائرية في المحافل الدولية (هيئة الأمم المتحدة)...</li> <li>• التأكيد للزأي العام العالمي أنها ثورة شعبية هدفها استرجاع السيادة الوطنية.</li> </ul> <p><u>خاتمة:</u> هجومات الشمال القسنطيني منعرج حاسم في مسار الثورة التحريرية داخليا وخارجيا. (تقبل كل خاتمة وظيفية).</p> <p><u>الجغرافيا:</u></p> <p><u>الجزء الأول:</u></p> <p>(1) شرح ما تحته خط في النص:</p> <ul style="list-style-type: none"> <li>• الاستثمارات: توظيف رؤوس الأموال المنقولة والثابتة في مشاريع اقتصادية قصد تحقيق الزرع...</li> <li>• منطقة اليورو: دول الاتحاد الأوروبي التي تتعامل بعملة "اليورو" في المعاملات التجارية وعددها 19 دولة....</li> <li>• اتفاقية ماستريخت: الاتفاقية التي وقّعت في ماستريخت بهولندا بتاريخ 1992/02/07 من طرف دول المجموعة الاقتصادية الأوروبية وأعلن فيها عن التسمية الجديدة "الاتحاد الأوروبي"...</li> </ul> <p>(2) <u>الدائرة النسبية:</u> الإنجاز: 01، العنوان: 0.25، المفتاح: 0.25، المقياس: 0.25، حساب الدرجات: 0.25. (الولايات. م. الأمريكية: <math>15.3 \times 3.6 = 55.08</math>°). (تتم العمليات الأخرى بنفس الطريقة)</p> <p>(3) <u>التعلق على المعطيات الإحصائية:</u></p> <p><u>التقديم:</u> الوثيقة جغرافية اقتصادية عبارة عن جدول إحصائي يمثل أهم الشركاء التجاريين للاتحاد الأوروبي عام 2023 مصدرها مركز المتوسط للدراسات الاستراتيجية عام 2024.</p> <p><u>التحليل:</u></p> <ul style="list-style-type: none"> <li>• تنوع اهم الشركاء التجاريين للاتحاد الأوروبي ما بين بعض الدول المتقدمة وبعض الدول الصاعدة وتباين نسب المبادلات معها ومع أهم الشركاء التجاريين للاتحاد الأوروبي.</li> <li>• تصدر الصين قائمة أهم الشركاء التجاريين للاتحاد الأوروبي لانخفاض أسعار منتوجاتها واستقطاب الاستثمارات...</li> <li>• تقارب نسبي المبادلات مع الولايات المتحدة الأمريكية والصين باعتبارهما قوتين اقتصاديتين عالميتين.</li> <li>• باقي دول أوروبا (سويسرا، تركيا، روسيا وبريطانيا) تتعامل معها لقربها الجغرافي....</li> </ul> <p><u>الاستنتاج:</u> أهمية القوى الاقتصادية العالمية بالنسبة للمبادلات التجارية للاتحاد الأوروبي. (تقبل كل الإجابات الصحيحة الأخرى)</p>
	0.25	4x
	0.25	2x
	0.50	
	0.75	
	0.75	
	0.50	
	02	
	0.50	
	0.25	4x

الإجابة النموذجية لموضوع اختبار مادة: التاريخ والجغرافيا / الشعبة: آداب وفلسفة / بكالوريا: 2025

04	0.50	<p><b>الجزء الثاني:</b>  <b>مقدمة:</b> العالم المتقدم بين عوامل قوته البشرية والمعوقات المشتركة التي تعترض اقتصاده.                  (تقبل كل مقدمة وظيفية).</p> <p>1) <u>العوامل البشرية التي ساعدت على تقدم دول عالم الشمال:</u></p> <ul style="list-style-type: none"> <li>• وفرة اليد العاملة المؤهلة.</li> <li>• اتساع السوق الاستهلاكية.</li> <li>• قوة مالية وضخامة الاستثمارات...</li> <li>• تطور البحث العلمي والتكنولوجي.</li> <li>• استقطاب الأدمغة من مختلف دول العالم.</li> <li>• تحقيق التوازن بين النمو السكاني والموارد (حسن استغلال الموارد).</li> </ul>
	0.25 6 ×	<p>2) <u>المعوقات المشتركة التي تعترض اقتصادها:</u></p> <ul style="list-style-type: none"> <li>• تبعيتها للخارج في العديد من الموارد (الطاقة والمعادن...).</li> <li>• تأثر اقتصادها بالأزمات المالية العالمية 2008 والأزمات السياسية مثل 'حرب أوكرانيا'.</li> <li>• اشتداد المنافسة بينها على الأسواق الخارجية.</li> <li>• تقلص استثماراتها الخارجية لبروز دول صاعدة وظهور كتل البريكس.</li> <li>• ارتفاع أسعارها نتيجة ارتفاع تكلفة الإنتاج.</li> <li>• معاناتها من التلوث لكثافة نشاطها الاقتصادي ومن ظاهرة الشيخوخة.</li> </ul>
	0.25 6 ×	<p><b>خاتمة:</b> تبقى الدول المتقدمة قوى اقتصادية عالمية رغم المعوقات.                  (تقبل كل خاتمة وظيفية).</p>
	0.50	<p>(تقبل كل الإجابات الصحيحة الأخرى)</p>

دائرة نسبية تمثل أهم الشركاء التجاريين مع الاتحاد الأوروبي في المبادلات التجارية عام 2023



المقياس	مفتاح الرسم.
نصف القطر: 4 سم	(1) الولايات المتحدة الأمريكية.
	(2) الصين.
	(3) بريطانيا.
	(4) سويسرا.
	(5) تركيا.
	(6) روسيا.
	(7) دول أخرى.

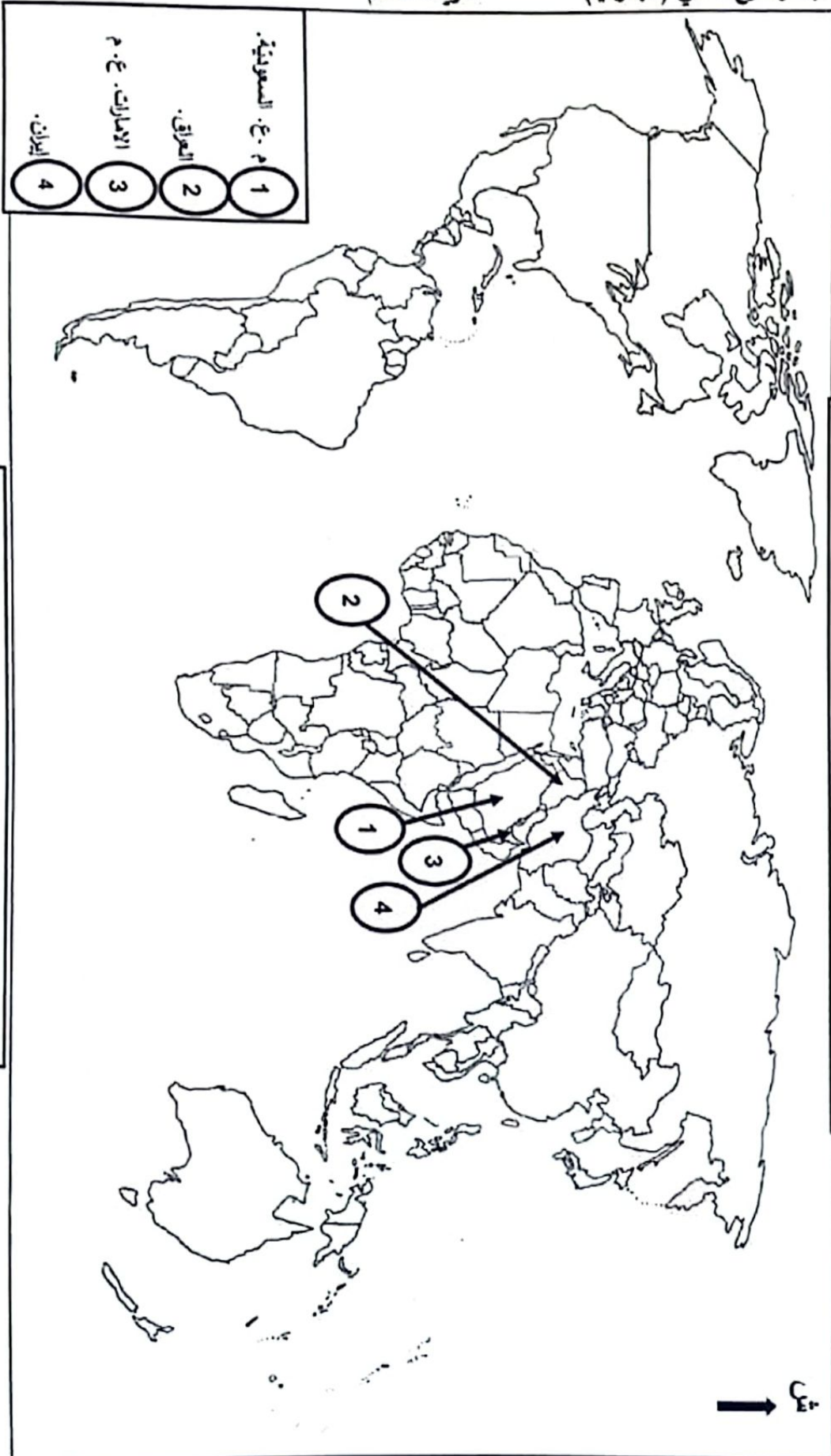
العلامة		عناصر الإجابة: (الموضوع الثاني)								
مجموع	مجزأة									
06	0.75	<p><b>التاريخ:</b> <b>الجزء الأول:</b></p> <p>(1) <b>شرح ما تحته خط في النص:</b></p> <p>• <b>مخطط شال:</b> مخطط عسكري وضعه "الجنرال شال" عام 1958، يقوم على عزل وحدات جيش التحرير الوطني والولايات الثورية من خلال القيام بعمليات عسكرية واسعة النطاق واتباع سياسة الأرض المحروقة....</p> <p>• <b>الولايات الثورية الستة:</b> التقسيم الإداري والعسكري المنبثق عن مؤتمر الصومام 1956 حيث قُسمت الجزائر إلى ست ولايات هي: الأوراس، الشمال القسنطيني، القبائل الكبرى، الجزائر وضواحيها، وهران، الصحراء...</p> <p>• <b>تقرير المصير:</b> حق تكفله القوانين الدولية كان يطالب به الشعب الجزائري ويقوم على حق الشعوب في الاستقلال وحرية اتخاذ قراراتها السياسية والاقتصادية دون تدخل خارجي....</p> <p>(2) <b>التعريف بالشخصيات:</b></p> <p>• <b>هازي ترومان:</b> رئيس الولايات المتحدة الأمريكية، صاحب "مبدأ ترومان" 1947. أنهى الحرب العالمية الثانية بإلقاء القنبلتين الذريتين على اليابان، دعم الحركة الصهيونية، أحد أقطاب الحرب الباردة، عرفت فترة حكمه أزمة برلين الأولى وكوريا.</p> <p>• <b>بيدوش مراد:</b> أحد قادة الثورة الجزائرية، عضو في حزب الشعب وحركة الانتصار للحريات الديمقراطية، عضو المنظمة الخاصة، عضو مجموعة 22 ومجموعة الست، من مفجري الثورة قائد المنطقة الثانية (الشمال القسنطيني) ...</p> <p>• <b>فيدال كاسترو:</b> رئيس كوبا، قاد الثورة ضد النظام العميل "باثيستا"، طبق النظام الشيوعي، أحد زعماء حركة عدم الانحياز، عرفت فترة حكمه أزمة كوبا 1962...</p> <p>(3) <b>إكمال جدول الأحداث:</b></p> <table border="1" style="width: 100%; text-align: center;"> <thead> <tr> <th>التاريخ</th> <th>الحدث</th> </tr> </thead> <tbody> <tr> <td>من 28 جانفي إلى 4 فيفري 1957</td> <td>إضراب الثمانية أيام في الجزائر</td> </tr> <tr> <td>13 أوت 1961</td> <td>بناء جدار برلين</td> </tr> <tr> <td>28 جوان 1991</td> <td>حل منظمة الكوميكون</td> </tr> </tbody> </table>	التاريخ	الحدث	من 28 جانفي إلى 4 فيفري 1957	إضراب الثمانية أيام في الجزائر	13 أوت 1961	بناء جدار برلين	28 جوان 1991	حل منظمة الكوميكون
		التاريخ	الحدث							
		من 28 جانفي إلى 4 فيفري 1957	إضراب الثمانية أيام في الجزائر							
		13 أوت 1961	بناء جدار برلين							
		28 جوان 1991	حل منظمة الكوميكون							
		04	0.50	<p><b>الجزء الثاني:</b></p> <p><b>مقدمة:</b> حركات التحرر بين الخصائص والأساليب.</p> <p>(1) <b>خصائص الحركات التحررية التي عرفت شعوب المستعمرات:</b></p> <p>• رفضها للوجود الاستعماري بكل أشكاله.</p> <p>• تضامنها مع بعضها البعض بحكم المصير المشترك.</p> <p>• تزامنت في ظهورها لتشابه الظروف الدولية التي كانت سائدة.</p> <p>• إصرارها على تحقيق الأهداف رغم التضحيات.</p> <p>• تنوع أساليب ووسائل التحرر حسب طبيعة كل استعمار وحسب الظروف الداخلية لكل دولة.</p> <p>• امتدادها الجغرافي في النصف الجنوبي للكرة الأرضية وشموليتها لكل المستعمرات (إفريقيا، آسيا، أمريكا اللاتينية)</p> <p>(تقبل كل الإجابات الصحيحة الأخرى)</p>						
				<p>(تقبل كل مقدمة وظيفية).</p> <p>× 0.25 6</p>						

<p>× 0.50 3</p>	<p>2) أسلوب الكفاح الثَّحْرِي في الهند والهند الصينية: أ) في الهند: • أسلوب الـ"أغف" (الكفاح السلمي) تبناه "المهاتما غاندي".</p>
<p>0.50</p>	<p>أ) في الهند الصينية: • أسلوب مزدوج: • النضال السياسي: الحزب الشيوعي الهندو صيني 1931. بقيادة هوشي منه. • الكفاح المسلح: ضد الوجود الفرنسي (1954/1946) بقيادة هوشي منه ثم الأمريكي (1975/1964). خاتمة: تنوع خصائص وأساليب الحركات الثَّحريرة حسب طبيعة الاستعمار والظروف لكن يبقى الهدف واحدا. (تقبل كلَّ خاتمة وظيفية)</p>
<p>0.75</p>	<p>الحرفاها: الحزء الأول: 1) شرح ما تحته خط في النص: • الشَّحارة الثَّوينة: يقصد بها المبادلات الثَّجارية التي تتم بين الدول (الصادرات والواردات) وتشمل مختلف السلع والبضائع.</p>
<p>0.50</p>	<p>• الثَّكَّلات الإقليمية: شكل من أشكال التَّكامل الاقتصادي بين دولتين أو أكثر يتم فيه توحيد الإمكانيات واستغلالها لزيادة القدرة الإنتاجية وتحقيق النُّطور بين الدول مثل: الاتحاد الأوروبي والاسيان....</p>
<p>0.75</p>	<p>• اقتصاد السُّوق: نمط اقتصادي يقوم على الحرِّية والمنافسة والافتتاح ورفع الحواجز يحكمه قانون العرض والطلب.</p>
<p>0.50</p>	<p>2) أ) التَّعليق على الزَّسم الماتمي: التَّقديم: الوثيقة جغرافية اقتصادية عبارة عن أعمدة بيانية تمثل نسب أكبر الدول المنتجة للبتترول في عام 2022 مصدرها energy institute - statista 2023.</p>
<p>06</p>	<p>التَّحليل: • تباين نسب الإنتاج بين الدول الواردة في الزَّسم البياني. • تصدر الولايات المتَّحدة الأمريكية قائمة أكبر الدول المنتجة للبتترول عام 2022 لضخامة مخزونها وقدرتها على الإنتاج ودولة صناعية كبرى. • تقارب بين نسبي إنتاج المملكة العربية السعودية وروسيا لضخامة مخزونها وقدرتها على الإنتاج واعتمادهما على التصدير. • سيطرة دول الشرق الأوسط الواردة في الجدول (المملكة العربية السعودية، العراق، الإمارات العربية المتحدة، إيران) على أكثر من ربع الإنتاج العالمي (26.1%).</p>
<p>× 0.25 4</p>	<p>الإستنتاج: تأثر إنتاج البترول في هذه الدول بعوامل تتعلق بالجانب الطبيعي وعوامل أخرى اقتصادية.</p>
<p>0.50</p>	<p>ب) اُخرِطة: -العنوان: 0.50 -المفتاح: 0.50 -الإنتاج: 01 ن. (المملكة العربية السعودية، العراق، الإمارات العربية المتحدة، إيران).</p>
<p>02</p>	<p>(تقبل كلَّ الإجابات الصحيحة الأخرى)</p>

الإجابة النموذجية لموضوع اختبار مادة: التاريخ والجغرافيا / الشعبة: آداب وفلسفة / بكالوريا: 2025

04	0.50	<p>الحزب الثاني:</p> <p>مقدمة: الاتحاد الأوروبي بين عوامل تكثفه والأهداف الاقتصادية التي حققها. (تقبل كل مقدمة وظيفية)</p> <p><b>(1) عوامل تكثف أوروبا الداخلية:</b></p> <ul style="list-style-type: none"> <li>• استفادة أوروبا من الثورة الصناعية وتوفير الإرادة السياسية.</li> <li>• الامتداد الجغرافي الواحد (قارة أوروبا).</li> <li>• تبني نفس النظام الاقتصادي (اقتصاد السوق).</li> <li>• تطورها التكنولوجي وقوة البحث العلمي.</li> <li>• تنوع ثرواتها الطبيعية الباطنية والمسطحية</li> <li>• وفرة رؤوس الأموال...</li> </ul>
	× 0.25 6	<p><b>(2) الأهداف الاقتصادية التي حققها التكتل:</b></p> <ul style="list-style-type: none"> <li>• أصبح الاتحاد الأوروبي قطبا اقتصاديا عالميا يسيطر على أكثر من 30% من المبادلات التجارية في العالم.</li> <li>• توحيد العملة (ثاني أقوى عملة في المبادلات التجارية في العالم "اليورو").</li> <li>• حقق الرفاهية لشعبه بتوفير كل متطلبات العيش.</li> <li>• وسع من مساحته ومن أسواقه وزاد من ثرواته بانضمام دول أوروبا الشرقية.</li> <li>• أصبح منافسا للأقطاب الاقتصادية الكبرى.</li> <li>• قلل من التفاوت الاقتصادي الذي كان بين دوله.</li> </ul>
	0.50	<p><b>خاتمة:</b> التكتل ضرورة حتمية لمواجهة التحديات الاقتصادية في الاتحاد الأوروبي. (تقبل كل خاتمة وظيفية)</p> <p>(تقبل كل الإجابات الصحيحة الأخرى)</p>

الخريطة خاصة بالموضوع الثاني (الجغرافيا) خريطة العالم



خريطة العالم تعلق التول الأعضاء في منظمة الأوبك الواردة في الرسم البياني

ينجز العمل المطلوب على الخريطة وتعاد مع أوراق الإجابة